


محافظة الوادي الجديد

إدارة الداخلة التعليمية

مدرسة عمر بن الخطاب الابتدائية



الصف الأول الابتدائي

اكتشف

الفصل الدراسي الأول



مروة عبد الشافي مهدي

الدرس
الثالث

الدرس
الثاني

الدرس
الأول

الدرس
الرابع

من أكون؟

الفصل الأول: اعرفني

الدرس
الخامس

الدرس
العاشر

الدرس
السادس

الدرس
التاسع

الدرس
السابع

الدرس
الثامن



من أكون؟

الفصل الأول: اعرفني

الدرس الأول



ما عرفني

- ١- سوف يعرف معلومات عن نفسه وعن البعض
- ٢- سوف يعرف معلومات عن الأسرة ومعنى الصداقة



صورتی

ارسم صورة لنفسك..

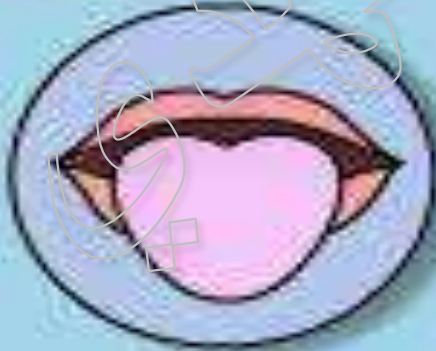


اسمي:

مروة





الحواس





حاسة البصر




أشيروا بأصابعكم تجاه الجزء
الذي يساعدكم علي الرؤية





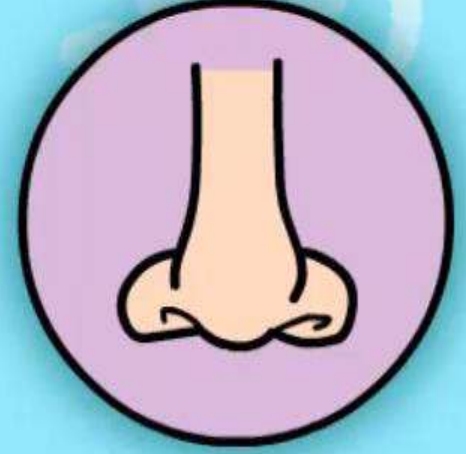
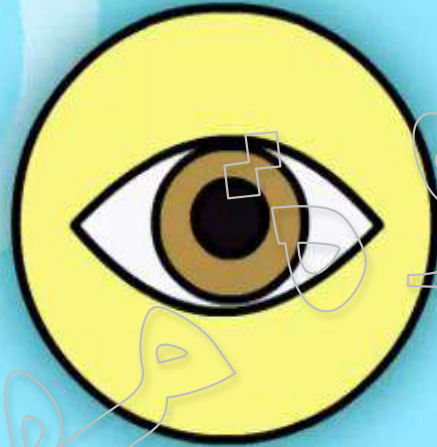

حاسة البصر



عين








حاسة البصر

حاسة البصر



لماذا تعد عيوننا مهمة؟



كيف تساعدنا في حياتنا؟



الشيء واللون


بالونات
ألوانهم

أحمر

أصفر

أزرق





سبورة لونها أخضر



مرورہ سہلا پی

أنا أري قلم





أنا أري كتابي



البصر



ارسم شيئاً تراه في الفصل.
اكتب اسم ذلك الشيء.



ارسم شيئاً تراه في الفصل

اكتب اسم ذلك الشيء

أنا أرى

علم



دور ولي الأمر في المنزل

يعلم الطفل :

كيف يحافظ عليه عينيه ؟



١- ارتداء النظارات الشمسية التي تحمي العين من أشعة

الشمس الضارة والرمال والغبار المتناثر في الجو



٢- يُنصَح بتناول الجزر الذي يقوي النظر ويحافظ عليه



والخضراوات ذات الأوراق الخضراء مثل السبانخ



دور ولي الأمر في المنزل يعلم الطفل :

كيف يحافظ عليه عينيّه ؟

١- الابتعادُ عن شاشاتِ الأجهزةِ الإلكترونيّةِ مثلِ الهواتفِ
المحمولةِ وأجهزةِ الكمبيوتر لساعاتٍ متعدّدةٍ وطويلةٍ


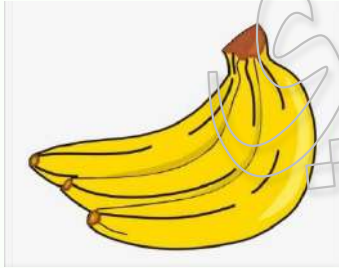


دور ولي الأمر في المنزل

يعلم الطفل :

يعرف الأشياء و ألوانها :

داخل المنزل وخارجه



مخطط الحواس

حروف

أنا أنا أرى	الحاسة البصر	العضو العين	الصورة 



من أكون؟

الفصل الأول: اعرفني



الدرس الثاني



ما الذي أراه ؟

حاسة البصر



علم

بنت

ولد



ما الذي أراه ؟



نِشَابِك



بَاب



كِتَاب



ما الحاسة التي استخدمتموها لإيجاد
ألوان الأشياء؟



حاسة البصر



ما الشيء الذي تسبب في إصدار الصوت ؟

صوت
معلاني



حاسة السمع




ما الحاسة التي استخدمتموها ؟

حاسة السمع



أشيروا بأصابعكم تجاه الجزء الذي يساعدكم
علي السمع .



ما اسم هذا الجزء ؟



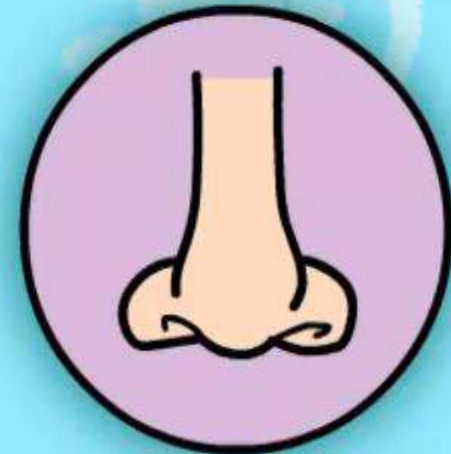
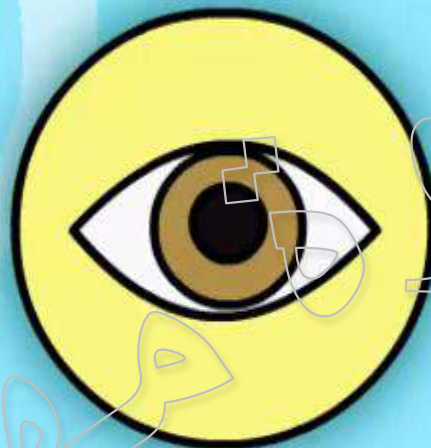

أذن



أنا أسمع صوت صفارة

مرحبا بي





دور ولي الأمر في المنزل



كيف يساعدنا السمع خلال اليوم ؟
هل يمكنكم التفكير بموقف يساعدكم فيه
السمع علي الحافظ علي سلامتكم ؟



هل يمكنكم تحديد بعض الأصوات التي
تسمعونها في المنزل مع أسركم ؟



الأسرة الصغيرة





أخ



أخت





أنا أسمي كريم

معلم





كريم
له أخت واحدة



ثقيقة



كريم له أختان شقيقتان



كريم له أخ شقيق



كريم واخواته ٣ أشقاء





ليست كل الأسر متشابهة



أسرتي في الحديقة

ارسم دائرة حول الاخ والاخت. استكمل تلوين الصورة.



كم عدد الأخوة والأخوات الموجودين؟

حدد الأصدقاء



أساليب الاحترام الظاهرة في الصورة



لعب الأخوة والأخوات معاً

قراءة الأبناء والوالدين معاً



كيف أساعد أمي وأبي و أخواتي ؟





مروءة مهدي

أسرتي



ارسم صورة تُظهر أفراد الأسرة وهم يستمتعون بوقتهم.



مخطط الحواس

أنا أنا أرى	الحاسة البصر	العضو العين	الصورة 
أنا أسمع	السمع	أذن	




من أكون؟

الفصل الأول: اعرفني

الدرس الثالث






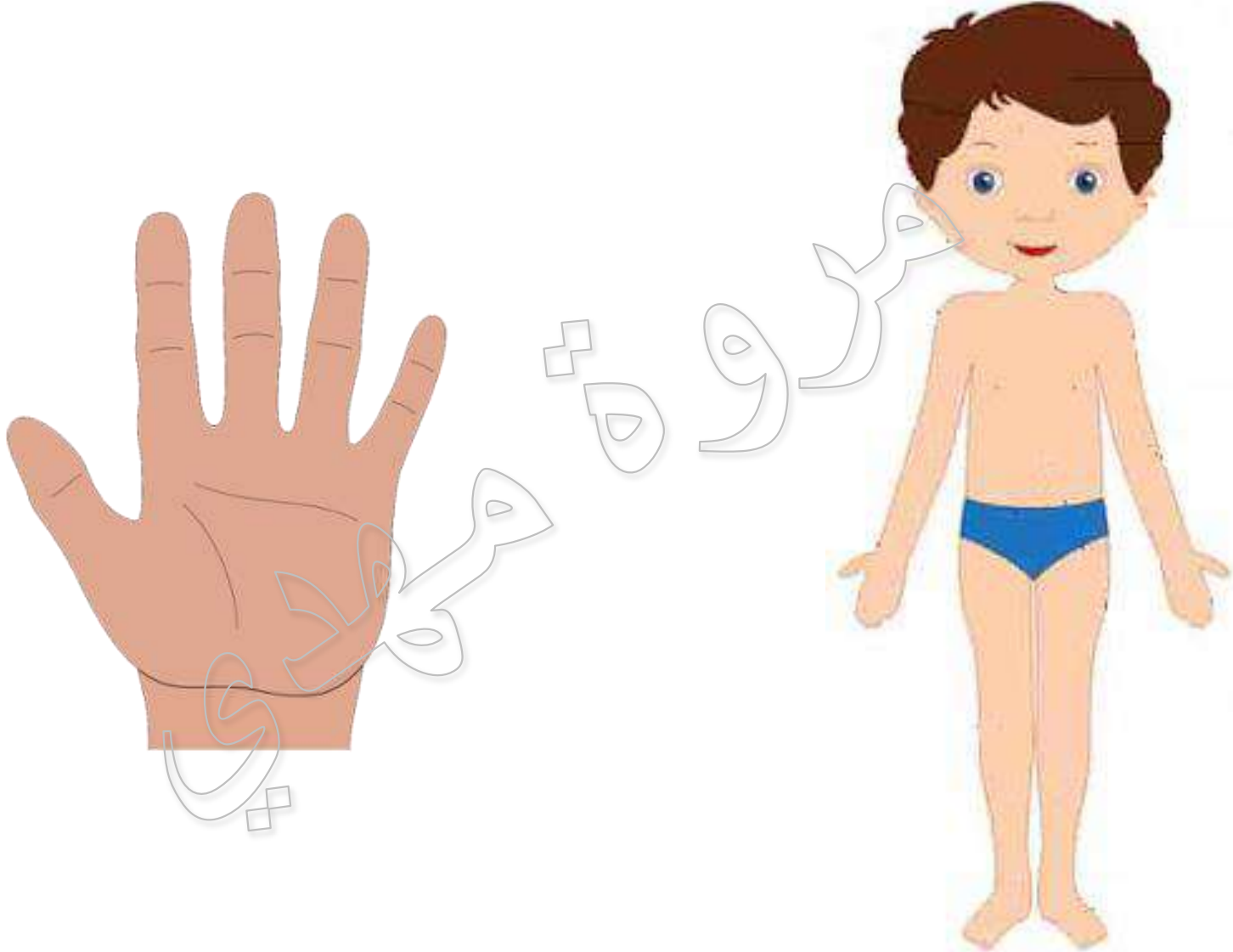
حاسة اللمس



تساعدني على وصف الأشياء. استخدم هذه الحاسة بجلدي كله.



يمكن اللمس باستخدام أيّ جزء من الجسم، ولكن في معظم الأوقات نستخدم اليدين.






معلاني



مروة مهدي





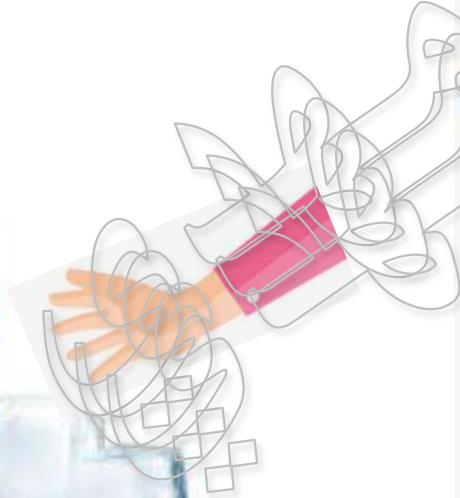

ناعم



مرطوب



مرورة مهدي







ساخن



مرورة مهدي





مروة مهدي



مخطط الحواس

أنا أنا	الحاسة	العضو	الصورة
أنا أرى	البصر	العين	
أنا أسمع	السمع	أذن	
أنا أشعر بـ.....	اللمس	الجلد	



الجدّة تقرأ كتابًا. ارسم دائرة حولها.
الخالّة سارة تتحدث مع الأم. ارسم دائرة حول هذا الجزء. بلون مختلف.
نبيل يلعب بلعبته الجديدة مع ابنة خالته. ارسم مربعًا حول هذا الجزء.





من أكون؟

الفصل الأول: اعرفني

الدرس الرابع



الصدّاقة



• من منكم لديه صديق داخل الفصل؟

• ما أنواع الأشياء التي تؤدونها مع الأصدقاء؟

• كيف يمكنكم إظهار حبكم لأصدقائكم؟

• في آخر مرة قضيتم الوقت مع صديق؛ أين
كنتما؟ وماذا فعلتما؟



أوجه الشبه والاختلاف بين الأسرة والأصدقاء



الأصدقاء



الأسرة



لعبة "حواسي"

أري يوسف يرتدي معطفاً أزرق.



لعبة "حواسي"




لعبة "حواسي"

أسمع تغريد العصافير



لعبة "حواسي"



حاسة الشم




أخذ نفس عميق وقوي من الأنف. ما الذي أفعله؟



حاسة الشم



هل أخبر أي منكم زميله أن بإمكانكم شم رائحة طهي الطعام؟



حاسة الشم



ما الرائحة المفضلة لديكم؟





ما الرائحة التي لا تحبونها؟



مخطط الحواس

أنا أنا	الحاسة	العضو	الصورة
أنا أرى	البصر	العين	
أنا أسمع	السمع	الأذن	
أنا أشعر ب.....	اللمس	الجلد	
أنا أشم	الشم	الأنف	





هل طعمه حلو أم مالح أو لاذع؟



لاذع



مالح



حلو

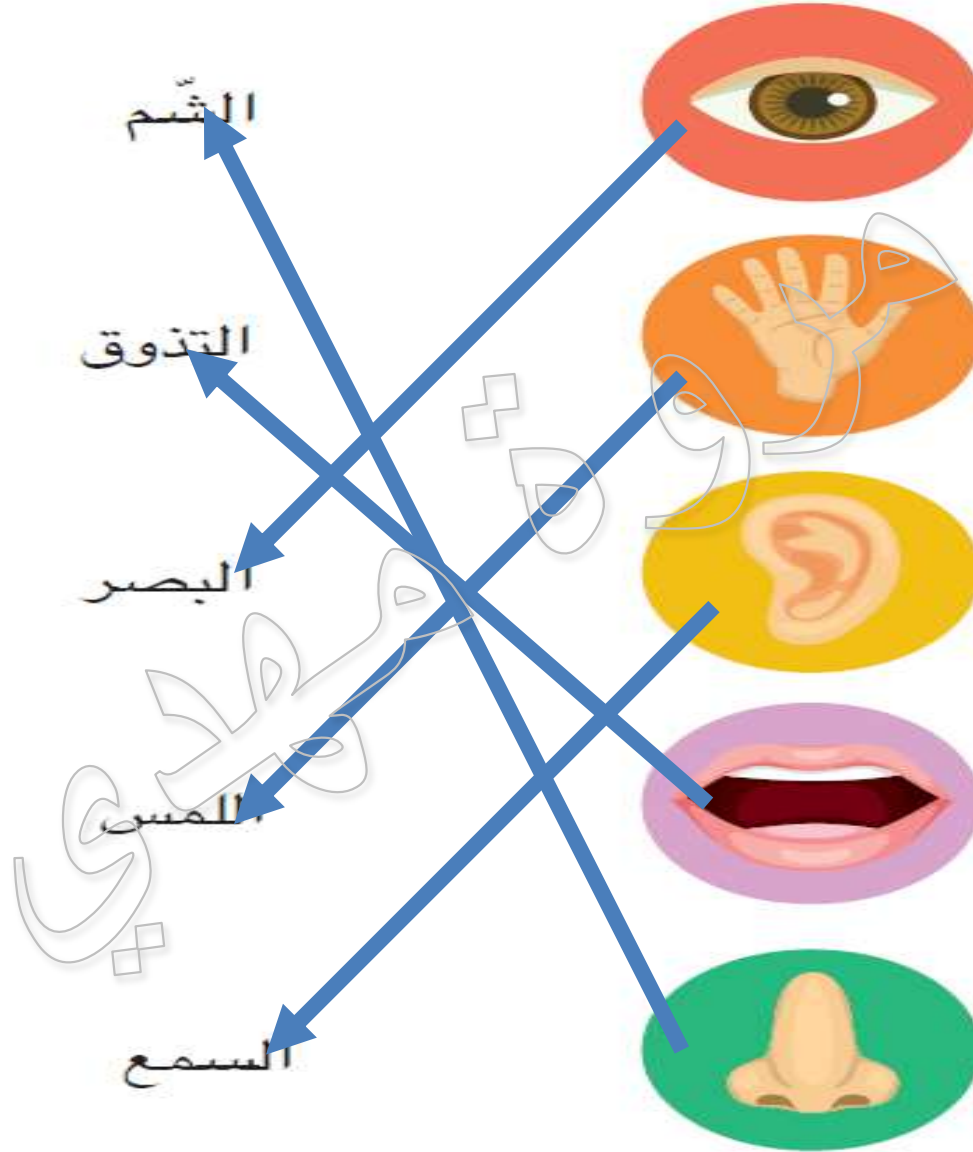
مخطط الحواس

الصورة	العضو	الحاسة	أنا أنا
	العين	البصر	أنا أرى
	أذن	السمع	أنا أسمع
	الجلد	اللمس	أنا أشعر ب.....
	الأنف	الشم	أنا أشم
	الفم	التذوق	أنا أتذوق





ارسم خطوطاً لتوصيل كل حاسة بعضو الجسم المسئول عنها.



من أكون؟

الفصل الأول: اعرفني


الدرس الخامس



- ما الألوان التي ترونها؟
- ما الأجزاء التي يمكنكم ذكر اسمها في وجهها؟
- كيف تتشابه نفرتيتي معكم؟
- وكيف تختلف عنكم؟

تمثال نفرتيتي (١٣٧٠ - ١٣٣٠ ق م)


ما أوجه الشبه بينك وبين نفرتيتي؟
ما أوجه الاختلاف بينك وبين نفرتيتي؟



https://commons.wikimedia.org/wiki/File:Nefertiti.jpg

تمثال نفرتيتي (١٣٧٠ - ١٣٢٠ ق م)

ما أوجه الشبه بينك وبين نفرتيتي؟
ما أوجه الاختلاف بينك وبين نفرتيتي؟




• ما الألوان التي ترونها؟

• ما الأجزاء التي يمكنكم ذكر اسمها في وجهها؟

• كيف يتشابه د. مجدي يعقوب معكم؟

• وكيف تختلف عنكم؟





د. مجدي يعقوب

أجب عن الأسئلة التالية بمفردك أو مع زميلك.

ماذا ترى في هذه الصورة؟

ما الألوان التي تراها؟

ما الأجزاء التي يمكنك ذكر اسمها في الوجه؟



تعرف أصدقاء جد



الآن حانت الفرصة كي تتعرف ببعض الأصدقاء الجدد. ما أوجه التشابه بينهم وبينك؟ وما أوجه الاختلاف بينهم وبينك؟

مرحباً، اسمي كريم.
شعري قصير.
وأرتدي نظارة طبية.

مرحباً





تعرّف أصدقاء جدد

الآن حانت الفرصة كي تتعرّف ببعض الأصدقاء الجدد. ما أوجه التشابه بينهم وبينك؟ وما أوجه الاختلاف بينهم وبينك؟

مرحباً، اسمي منى.
عمري سبع سنوات.
أحب أن أضفر شعري.





تعرّف أصدقاء جدد

الآن حانت الفرصة كي تتعرّف ببعض الأصدقاء الجدد. ما أوجه التشابه بينهم وبينك؟ وما أوجه الاختلاف بينهم وبينك؟


مرحباً، اسمي شريف.
عمري ثمانى سنوات.
قميصي المفضل لونه برتقالى.



- ما أوجه الشبه بين كريم ومنى؟
- وما أوجه الاختلاف بينهما؟
- ما أوجه الشبه بين كريم وشريف؟
- وما أوجه الاختلاف بينهما؟

مروة مهدي

"هل تعرفون أي بنت تجدل شعرها
بضفائر؟ ما لون قميصكم المفضل؟"



«قف إذا»

عمري سبع سنوات



«قف إذا»



أمتلك عينين اثنتين

«قف إذا»

أمتك شعراً بنياً



مروءة

مروءة

«قَفْ إِذَا»

أُمَّتَكَ عَيْنِينَ بَنِيَّتَيْنِ



«قف إذا»

أعيش في مصر



مغلابي

مروة

قف إذا

الأزرق هو
لوني المفضل



محللا

قف إذا

اسمي يبدأ

بحرف م



مرورة مغللاي



صورتى

ارسم صورة مختلفة لنفسك مستخدماً ما تعلمته اليوم

مرورة

مرحباً، اسمى



مرورة مهدي



مرحبًا، اسمي نادية.
أعيش في مصر.
أسرتي من أسوان.
أحب لعب كرة القدم.



مرورة مهلاي



مرحبًا، اسمي يوسف.
عمري عشر سنوات.
أحب القراءة.
أحب ركوب الدراجة.

مرحوبه
علاقي



من أكون؟

الفصل الأول: اعرفني

الدرس السادس



المكتبة



أخصائي المكتبة



أخصائي المكتبة

- من منكم زار مكتبة من قبل؟
- ماذا ترون في المكتبة؟
- فيما تُستخدم المكتبة، برأيكم؟
- ما الألوان التي ترونها؟

أرفف المكتبة




الأماكن المخصصة للقراءة



الأشياء الأخرى التي يظهرها الفنانون لنا عندما يرسمون أنفسهم؟



تحديد الألوان



- ماذا ترون في هذه الرسمة؟
ما الألوان التي يمكنكم تسميتها؟
ماذا تعرفون عن هذا الشخص؟
في رأيكم، ما الأشياء التي كان
يحب فعلها؟
كم عدد الطيور في الصورة؟



- ماذا يفعل الشخص الموجود في الصورة؟
- ماذا ترون أيضاً؟
- ما الألوان التي ترونها؟
- ماذا تعرفون عن الشخص من خلال الصورة؟



مهلاي

مروة

- ماذا يفعل الشخص الموجود في الصورة؟
- ماذا ترون أيضاً؟
- ما الألوان التي ترونها؟
- ماذا تعرفون عن الشخص من خلال الصورة؟



من أكون؟

الفصل الأول: اعرفني

الدرس السابع



مرحباً ، اسمي **عبد الرحمن**
أعيش في مصر .
أسرتي من الوادي الجديد .
أحب لعب كرة القدم



مرحباً ، اسمي **سارة**
عمرى ٦ سنوات .
أحب القراءة .
أحب ركوب الدراجة .



مروة مهدي



أشياء أحبها



ارسم ثلاثة من أشياءك المفضلة.





كان عمري سنة واحدة



كان عمري ٢ سنوات



كان عمري ٥ سنوات



كان عمري ٧ سنوات

مرحلة





الصق صورك في مراحل عمرية مختلفة في الدوائر التالية،
اكتب الأعداد (١-٢) أسفل الصور.

مرحلة



١

٢

٣




عد وأكتب معي

٣

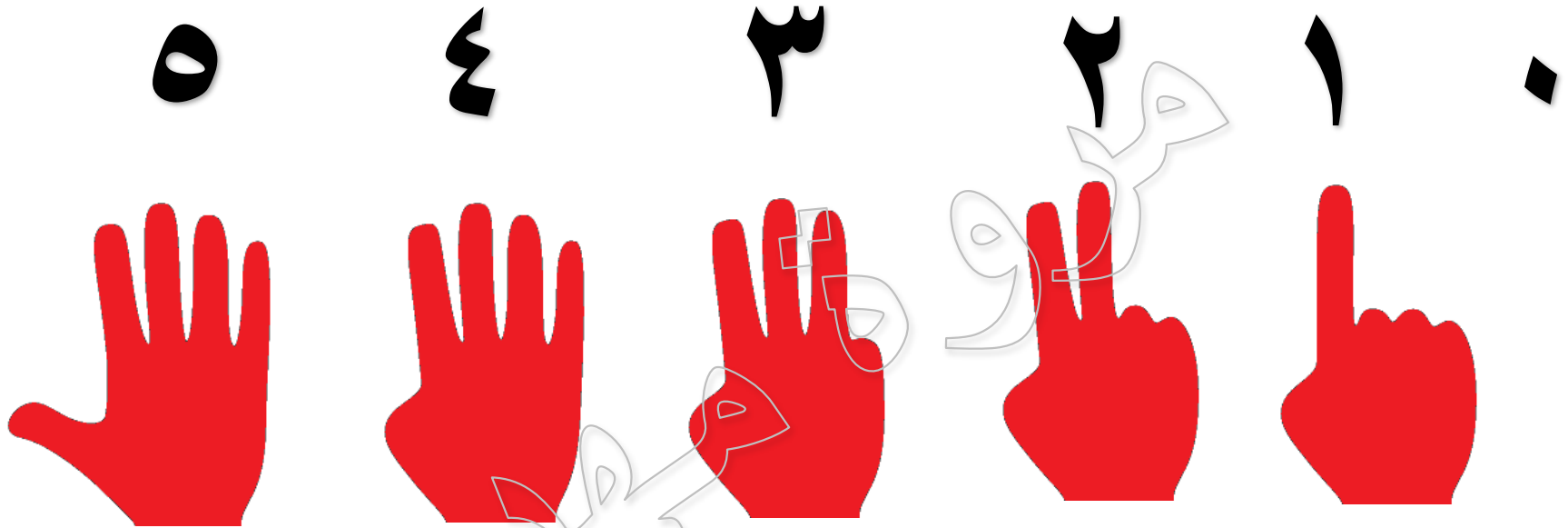
٢

١


.





عدا معي



مروة مهدي



كم يبلغ عمرك في كل صورة ؟
ارسم دائرة حول الاعداد الثلاثة على خط الاعداد.



أصغر عدد



أكبر عدد

ألبوم صوري

رتبّ صورك من الأصغر سنًا إلى الأكبر سنًا.



هل تعتقدون أن ملامحكم تبدو
كما هي في جميع الصور؟

نصبح أكبر حجماً

كيف نتغير مع تقدمنا في العمر؟

نتمكن من القيام بمزيد من الأشياء
نذهب إلى المدرسة

من أكون؟

الفصل الأول: اعرفني

الدرس الثامن



أشياء أحبها



ارسم ثلاثة من أشياءك المفضلة.



أكثر ، أقل



يبدو أن عدد التلاميذ الذين يحبون ركوب الدراجات
أكثر ممن يحبون كرة القدم .

أكثر ، أقل



يبدو أن عدد التلاميذ الذين يحبون لعب كرة السلة
أقل ممن يحبون السباحة.

الآن سوف نتعلم كيف نسأل الآخرين عن أنفسهم

يمكننا استخدام الكلمات الاستفهامية لمعرفة
معلومات عن أصدقائنا .

كيف؟
أين؟

من؟
ماذا؟

أين تعيش؟



المنزل

معلاني



من يعيش
معك؟



الأسرة

مراة
مغلاي




ما اللعبة
التي تحب
لعبها؟



مرورة مهدي



كرة القدم



ما الطعام
الذي تحب
تناوله؟



مرورة مهلاي



الجاتوة




كيف تذهب
إلى المدرسة
كل يوم؟



معلاني



مشي



كيف تذهب
إلى المدرسة
كل يوم؟



مروة مهدي

معلّمي




بالدراجة





كيف تذهب
إلى المدرسة
كل يوم؟






ما الطعام
الذي تحب
تناوله؟





ما اللعبة
التي تحب
لعبها؟



أين تعيش ؟

من يعيش معك ؟

ما اللعبة التي تحب لعبها ؟


ما الطعام الذي تحب تناوله ؟

كيف تذهب إلى المدرسة كل يوم ؟



أفكارى:

ارسم صورة أو اكتب كلمة للإجابة عن أسئلة عن نفسك.



من أكون؟

الفصل الأول: اعرفني

الدرس التاسع



أحب أن

أبلغ من العمر سنوات

أعيش مع

أسمي

مروة مهدي



كتاب " اعرفني "

اكتب اسمك كعنوان لكتاب «كل شيء عن»

مرورة



مرورة مهدي





الجاتوة



الأسرة



المنزل

من أكون؟

الفصل الأول: اعرفني

الدرس العاشر





كتاب " اعرفني "

اكتب اسمك كعنوان لكتاب «كل شيء عنى»

مرورة



مرورة مهدي



ايس كريم كريم



بحر

ملل



تنیس



صديقي


ارسم شيئاً واحداً تحبه في أحد أصدقائك.



محافظة الوادي الجديد

إدارة الداخلة

مدرسة عمر بن الخطاب الابتدائية



الصف الأول الابتدائي

اكتشف

الفصل الدراسي الأول



★ مروة عبد الشافي مهدي ★

من أكون؟

الفصل الثاني: شجرة العائلة



الدرس الثالث

الدرس الثاني

الدرس الأول

الدرس السادس

الدرس الخامس

الدرس الرابع

الدرس السابع

الدرس الأول



كيف نحترم العائلة والأصدقاء؟



العادات والتقاليد :

التقاليد هي الأنشطة التي يفعلها أفراد العائلة مع بعضهم غالبًا. ومن الأمثلة عليها...

التقاليد التي تحتفل بها عائلاتهم

ما التقاليد التي تتبعها عائلتك؟

العادات هي الأنشطة التي تتوارثها الأجيال. ومن الأمثلة عليها...



العادات والتقاليد :

ما التقاليد التي تتبعها عائلتك؟

في عائلتي، نحتفل بالمولود عن طريق **الاسبوع**.



العادات والتقاليد :

"كيف تحتفل عائلتك بأعياد الميلاد؟"



العادات والتقاليد :

"كيف تحتفل عائلتك بعيد الثورة؟"



ما العادات التي تحافظ عليها عائلتك وتتوارثها الأجيال؟
من العادات المُتَّبَعَة في عائلتي




الأفراح



ما العادات التي تحافظ عليها عائلتك وتتوارثها الأجيال؟

من العادات المُتَبَعَة في عائلتي




الأضحية



"ما التقاليد المُتَّبَعَة في حفلات الزفاف بعائلتك؟"

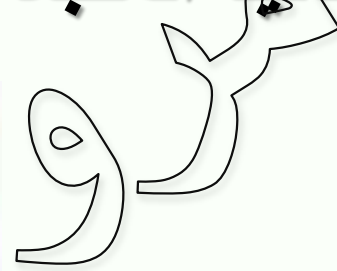
ووه



كتب كتاب



"ما التقاليد المُتَبَعَة في حفلات الزفاف بعائلتك؟"



الطعام



"هل تفعل أي شيء في
أثناء عاصفراء كان
يفعله أجدادك أيضًا؟"



دور ولي الأمر :

يعرف التلميذ الآتي :

من المهم أن تبدي احترامك لعائلتك وأصدقائك.

يمكننا التعبير عن الاحترام بطرق مختلفة.

العادات والتقاليد. يمكن أن تشمل الأمثلة على العادات والتقاليد: الاحتفالات، والعطلات، والإجازات، والطعام، والحرف، وغيرها



الدرس الثاني



العادات اليومية

هي أنشطة نقوم بها بصفة يومية أو شبه يومية.



أغسل وجهي بالماء والصابون

أغسل أسناني



العادة اليومية

هي أنشطة نقوم بها بصفة يومية أو شبه يومية.

أَتَوْضاً



العادات اليومية
هي أنشطة نقوم بها بصفة يومية أو شبه يومية.



أصلي



العادات اليومية
هي أنشطة نقوم بها بصفة يومية أو شبه يومية.



طفل يأكل



رتب النظام اليومي



هذه الأنشطة اليومية ليست بالترتيب الصحيح. رتبها مستخدمًا الأرقام

٤-٢-٣-١



الروتيني



ما الذي تفعله غير ذلك كل صباح؟

ما الذي تفعله كل يوم في المدرسة؟

ما الذي تفعله في المنزل بعد انتهاء اليوم؟

ما الذي تفعله قبل أن تنام؟



الدرس الثالث



تتضمن العائلات على كبار وأطفال صغار.



كل الحيوانات لديها صغار تحتاج إلى رعايتها،
صغار أيضاً والإنسان لديه

حروف

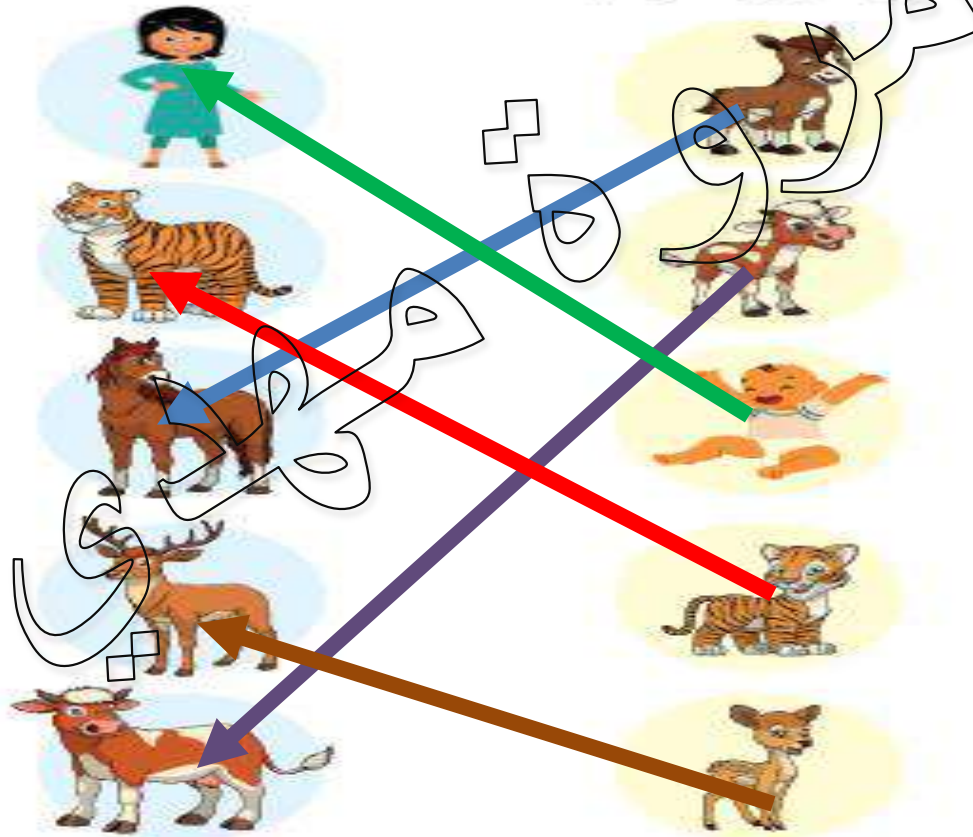


كبير

صغير

الكبار والصغار

صل بين الكبار وصغارهم:



يُقصد بكلمة كبير كائن مكتمل النمو.



عندما يكون لدى الحيوانات الكبيرة صغار، نسمي ذلك الحيوان "والدًا".




مزرعة

وتُسمى الحيوانات الصغيرة "الصغار".



هذه البطة هي والدة لصغارها، فرخ البط.



وللإنسان الكبير صغار، أيضًا: الرضيع.






الرضيع


الرضع



كيفية تحول الصغار إلى والد.



مراحل حياة الإنسان



ما المقصود بـ "مراحل حياة"؟


يُقصد بدورة حياة كيفية تحول الرضيع إلى كبير.



عندما يولد الإنسان، يكون رضيعًا.



ينمو الرضيع ليصبح طفلًا، مثلك.



وبعد ذلك يصبح الطفل مراهقًا.



وبعد ذلك يصبح المراهق كبير .



ماذا يفعل الرضع؟

ما الذي يمكنك فعله بصفتك طفلاً ولا يمكن للرضع فعله؟

ما بعض الأشياء التي يفعلها المراهق ولا يمكنك فعلها بعد؟

ما الذي يمكن لكبير فعله ولا يفعله المراهقون والأطفال؟



ما سبب عرض مراحل الحياة في دائرة؟

نحن نعرف أن الكبار لا يعودون رضعًا



مصطلح الصغار

الكبير والد، والرضيع الصغار.
وعندما يكبر الرضيع ويصبح كبيراً،
يمكنه إنجاب رضيع أو "الصغار".
وهكذا تكبر العائلة.

يمكن للوالد الواحد أن يكون له أكثر من صغير واحد.
ويكون أولئك الرضع، أخوة وأخوات
هل تعلمون أن آباءكم كانوا رضعاً وأطفالاً، أيضاً؟
بم تسمون آباء آبائكم؟



آبَاؤُهُمْ هُمْ جَدُودِكُمْ.
أَنْجِبْ جَدُودَكُمْ الصِّغَارَ - أَبَاءَكُمْ.
وَأَنْجِبْ أَبَاءَكُمْ الصِّغَارَ - أَنْتُمْ.
يَوْمًا مَا، قَدْ تَتَجَبَّوْنَ الصِّغَارَ أَيْضًا.



الدرس الرابع



كيف تشبه دورة حياة النبات دورة حياة الإنسان؟

هل للنباتات الصغار مثل الإنسان؟



ها هي دورة حياة أحد النباتات.

أولاً، تزرع بذرة في الأرض.
وبعد أيام قليلة، تصبح برعمًا. تنمو الجذور إلى أسفل،
وينمو الساق إلى أعلى.

ثم تنمو الأوراق على الساق.
وعندما يكبر النبات، تنمو به زهرة.
تنتج الزهرة بذرة يمكننا زراعتها وبدء دورة
الحياة مرة أخرى من جديد.



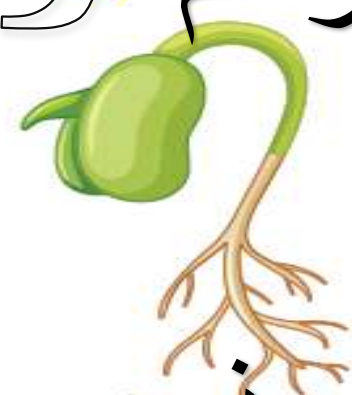
زهرة



ثمرة



برعم



جذر

الساق



ورقة

ورقة



إذا كان النبات النامي الذي به زهرة هو الوالد، فما هو الصغار؟
عندما تنبت البذرة لتصبح نباتًا به زهرة،
يمكنها نشر بذورها، أو "صغارها".
هذه هي طريقة تكاثر النباتات والزهور.




محللي



ابتكر ألوانًا جديدة باستخدام الألوان الأساسية.

ما الألوان الأساسية؟

الأحمر والأزرق والأصفر.





أرجواني

أزرق

أحمر




أخضر

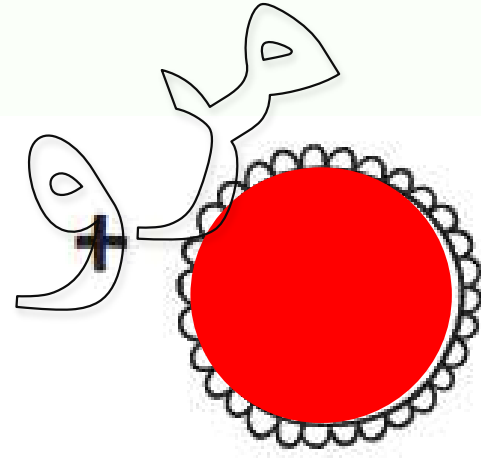
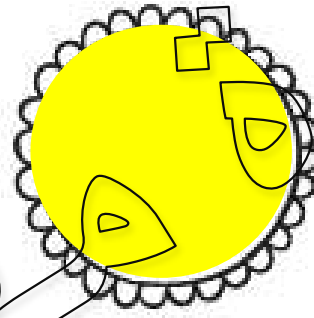
أصفر

أزرق





=




بهر تقالي

أصفر

أحمر

النباتات والألوان

ارسم خاتماً مستخدماً الألوان الأساسية والألوان الجديدة التي
ابتكرتها.



التشابهات بين دورة حياة الإنسان والنبات

مختلف

متشابه

متشابه

ينمو ويتكاثر

الإنسان يرتدي الملابس

يشرب ويتغذى ويتنفس

تأكل النباتات

لهم صغار



الدرس الخامس



يوجد جزآن للعائلة: الأسرة الصغيرة والعائلة الكبيرة.



العائلة الكبيرة



الأسرة الصغيرة



أنت وإخوتك وأخواتك ووالداك تشكلون أسرتك المباشرة.



ما المقصود بالعائلة ؟



تشمل العائلة الكبيرة الجدود والعمات والأعمام والخالات
والأخوال وأبناء الأعمام والأخوال.



آسرتى



ارسم آسرتك-



ما دورك في الأسرة؟

مهلاي

كيف تساعد عائلتك؟



الدرس السادس



أفراد عائلتي



ارسم أفراد أسرتك وعائلتك.



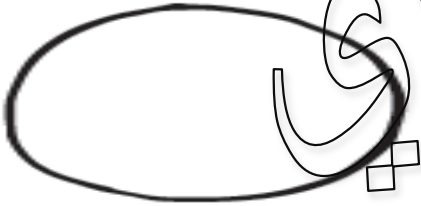
أنا



الأم



الأب



أخ



أخت



التدريب على الكتابة



أب

أب

أب

أب

أب

أخت

أخت

أخت

أخت

أخت

أم

أم

أم

أم

أخ

أخ

أخ


أخ



الفصل الثاني: شجرة العائلة



شجرة أسرتي



الدرس السابع



كم فردًا يمكنكم أن تتذكروا؟

ماذا نسمي والدة والدتي؟

ماذا نسمي أخو والدتي؟

ماذا نسمي والد والدي؟

ماذا نسمي أخت والدي؟

عمرى


إذا كانت أخت والدتي لديها ابن في نفس عمري، فماذا أسميه؟




أفراد عائلتي



ارسم أفراد أسرتك وعائلتك.




أنا



الأم



الأب



الجد



أخ



أخت






العم / الخال



العمة / الخالدة



الجدة



حفيد




ابن العم / الخال



ابنة العمّة / الخالدة

على سبيل المثال، "هذا جدي". إنه والد والدتي.




على سبيل المثال، "هذه جدتي". إنه والدة والدتي.



على سبيل المثال، "هذا عمي". إنه أخو والدي.




على سبيل المثال، "هذه عمتي". إنها أخت والدي.



على سبيل المثال، "هذا خالي". إنه أخو والدتي.




على سبيل المثال، "هذه خالتي". إنها أخت والدتي.



محافظة الوادي الجديد

إدارة الداخلة التعليمية

مدرسة عمر بن الخطاب الابتدائية



الصف الأول الابتدائي اكتشف

الفصل الدراسي الأول



★ مروة عبد الشافي مهدي ★

من أكون؟

الفصل الثالث: من نحن؟



الدرس الثالث

الدرس الثاني

الدرس الأول

الدرس السادس

الدرس الخامس

الدرس الرابع

الدرس الأول

حيواناتنا الأليفة

	طيور
	قطط
	أسماك

المفتاح: كل صورة = حيوان أليف واحد

الرسم البياني المصور هو أحد أنواع الرسم البياني الذي يستخدم صورًا مختلفة لعرض المعلومات.
تسمى هذه المعلومات بيانات.


حيوانات البيت




المفتاح: كل صورة = حيوان البيت واحد

اكتب العدد المطابق لكل مجموعة من مجموعات الحيوانات الاليفة.

٣



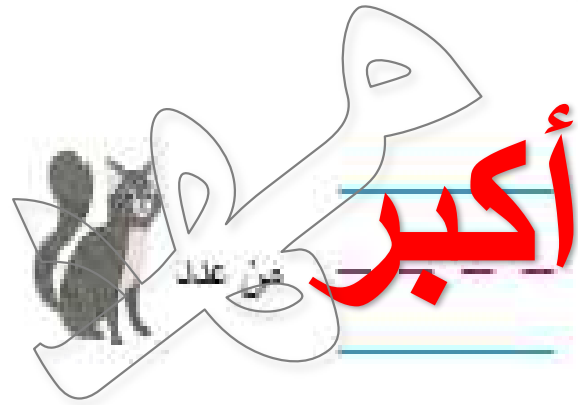
٤



٧



ارسم الرمز الصحيح.



من عدد

عدد

"عدد الكلاب أكبر من عدد القطط."

الدرس الثاني

التمثيل البياني بالأعمدة

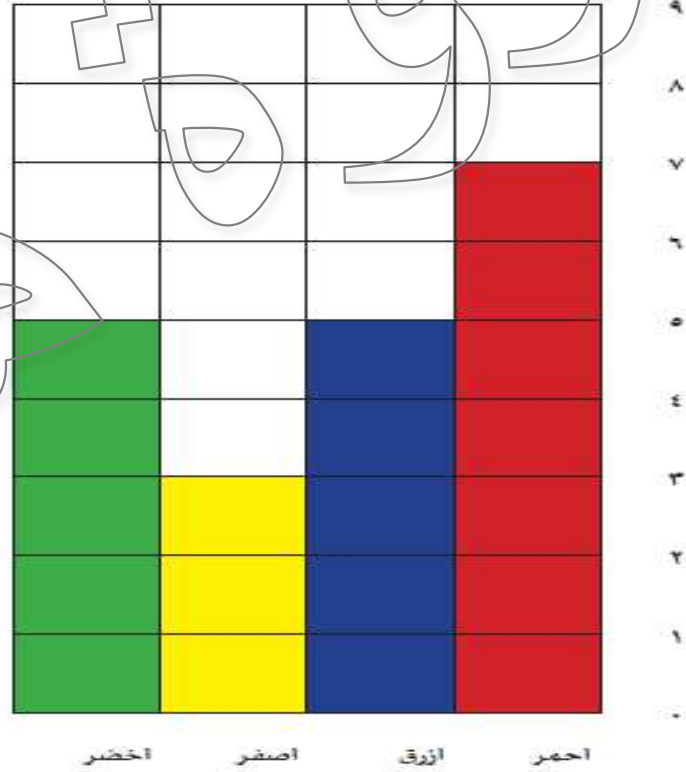
استخدم التمثيل البياني بالأعمدة للإجابة عن الأسئلة التالية:

١- كم العدد؟

أحمر ٧
أزرق ٥
أصفر ٣
أخضر ٥

٢- ارسم الرمز الصحيح.

الأحمر عن الأزرق.



أكبر

٣- ارسم دائرة حول اللون الذي يساوي اللون الأزرق.




أصفر

أحمر

الأزرق

ملاهي

الدرس الثالث




عدد الأولاد الفصل



عدد بنات الفصل

١ ٣



أيهما أكثر البنات أم الأولاد؟

هناك البنات أكثر

لأن ١٣ أكبر من ١٢


بياناتنا

العدد

14
13
12
11
10
9
8
7
6
5
4
3
2
1
0

أولاد

بنات



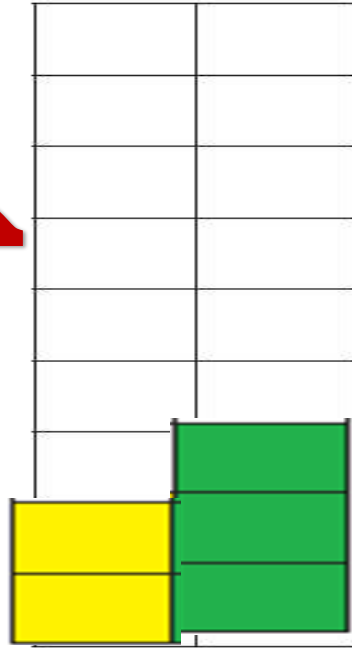
الأولاد والبنات في أسرتي



اكتب عدد الأولاد والبنات في أسرتك. استخدم هذه الأعداد لعمل تمثيل بياني عمودي.



حسب كل تلميذ وأسرته



البنات الأولاد




رسم بياني مصور لأسرتي

استخدم مربعًا أخضر ليمثل ولدًا . استخدم دائرة صفراء لتمثل بنتًا .
قم بإنشاء تمثيل بياني بالصورة لأسرتك .

المفتاح


	 البنات		 الأولاد
---	---	---	--

أسرتي


				الأولاد
				البنات

الدرس الرابع

كائنات حية



كائنات غير حية



نعم أن الحيوانات الأليفة والأشخاص من الكائنات الحية.

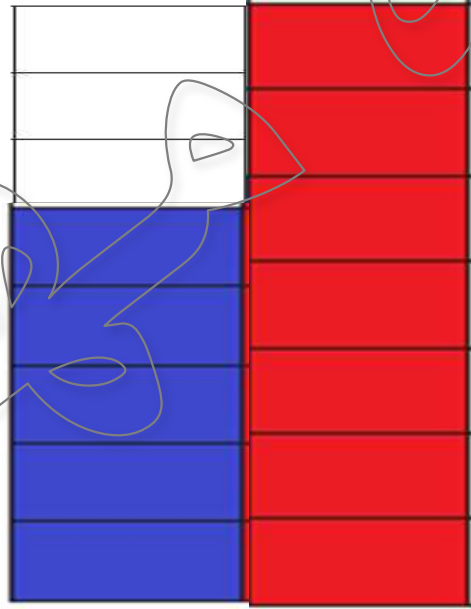
الفرق بين ميتاً وغير حي

ميتاً يجب عليه أن يكون حياً في وقت ما

غير حي : لا تكون على قيد الحياة أبداً





الكائنات الحية والأشياء غير الحية

قم بإنشاء تمثيل بياني عمودي لعرض عدد الكائنات الحية والأشياء غير الحية الموجودة في منزلك.
عد البشر فقط.



كائن حي شيء غير حي



سورة

سورة

أكبر
أقل

قارن الأعداد الخاصة بك بأعداد زميلك المجاور.

١- الكائنات الحية في منزلي:

الكائنات الحية في منزل زميلي:

لدي عدد أكبر/أقل/مساو للكائنات الحية في منزلي:

٢- الأشياء غير الحية في منزلي:

الأشياء غير الحية في منزل زميلي:

لدي عدد أكبر/أقل/مساو للأشياء غير الحية في منزلي.

الدرس الخامس

أبو قردان



مروة مهدي





سحلية كبيرة

سحلية

فرس النهر



مهدى

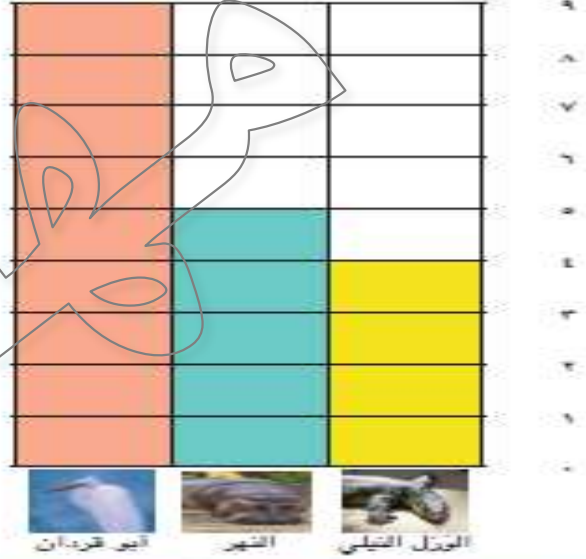
مرورة مهدي



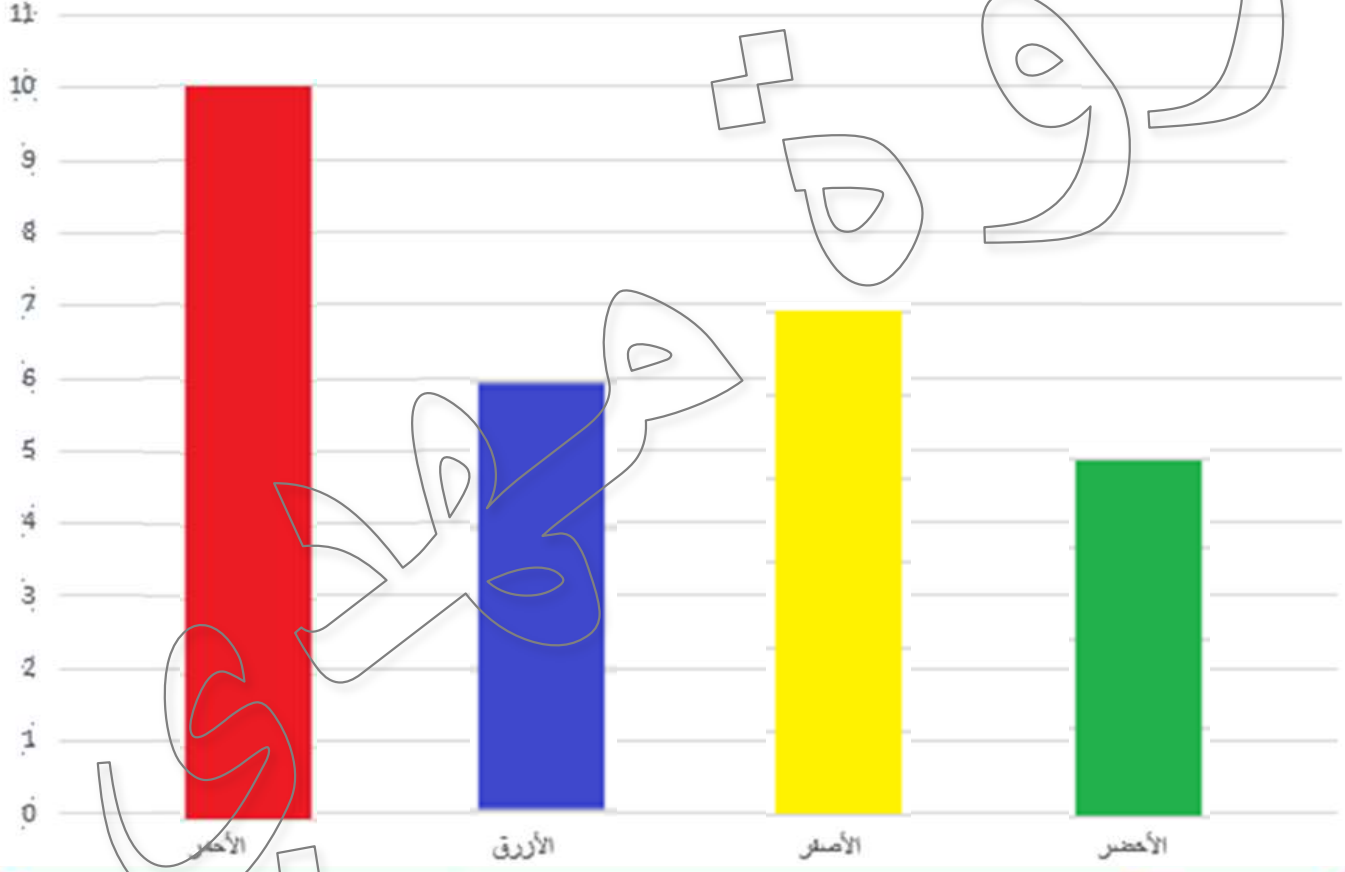
التمثيلات البيانية

أي التمثيلات البيانية التالية تمثل بياني بالاعمدية؟ وأيها تمثل بياني بالصورة؟

								اليوم الأول
								اليوم الثاني
								اليوم الثالث








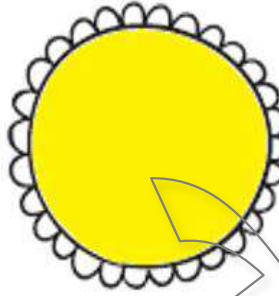
رسم بياني للون المفضل



بيانات وألوان فى الفصل

لون الدوائر التالية بالألوان الأساسية.
اكتب البيانات الخاصة بفصلك أسفل الأشكال التالية.

اللون الأساسي المفضل





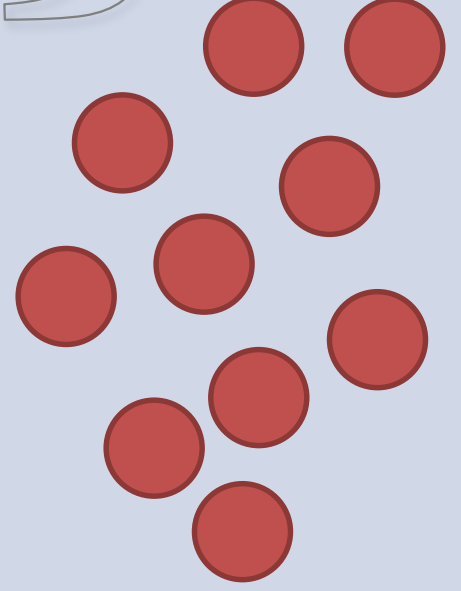
ما اللون المفضل لدى معظم تلاميذ فصلك؟

الأحمر

معلمي

الدرس السادس

طول الشعر

طويل	متوسط	قصير
		

مقارنة بيانات الفصل

ارسم أطوال الشعر في فصلك في الدوائر (طويل - متوسط - قصير)
اكتب الأرقام التي تدل على أعداد التلاميذ حسب طول الشعر.



١٥



٧



٦

عدد ١ من التلاميذ لديهم شعر قصير.

عدد ٧ من التلاميذ لديهم شعر متوسط.

عدد ٦ من التلاميذ لديهم شعر طويل.

أي أطوال الشعر الأكثر وجوداً بفصلنا؟

القصير

أي أطوال الشعر الأقل وجوداً بفصلنا؟

الطويل

محافظة الوادي الجديد

إدارة الداخلة

مدرسة عمر بن الخطاب الابتدائية



الصف الأول الابتدائي اكتشف

الفصل الدراسي الأول



★ مروة عبد الشافي مهدي ★

الدرس الثالث

الدرس الثاني

الدرس الأول

الدرس السادس

الدرس الخامس

الدرس الرابع

الدرس السابع

مروة مهدي

من أكون؟

الفصل الرابع: مجتمعنا



الدرس الأول



كنا نتعلم بعض الجوانب تخص أسرنا وعائلاتنا.
الأسرة تشبه المجتمع.



العائلة



الأسرة

ويتمثل المجتمع في مجموعة أفراد يعيشون أو يعملون أو يلعبون مع بعضهم.



يعملون

وفي العادة، يعيش أفراد الأسرة معًا ويشتركون في أشياء مماثلة.
ومن الممكن أن تكون المجتمعات أكبر من الأسر.

اذكروا بعض المجتمعات أو المجموعات التي تنتمون لها.



من مجموعة الأشخاص الذين يعملون معًا؟
ما بعض مجموعات الأشخاص الذين يلعبون معًا؟



مدرستنا ضمن المجتمعات، وهي مجتمع
لأننا نعمل معًا هنا من أجل التعلم.
ونلعب معًا أيضًا.
كما إن منطقتنا السكنية مجتمع.
وهي المنطقة التي نعيش ونعمل ونلعب فيها.

للأشخاص حقوق في المجتمعات.
والحق هو شيء تستحقه أو شيء يجب
أن يكون متاحًا لك الحصول عليه

من حقنا أن نعيش بأمان.
من حقنا أن نتعلم.
من حقنا أن نشارك أفكارنا.


المسؤوليات

الحقوق

مغلاقي

أن نعيش بأمان.
أن نتعلم.
أن نشارك أفكارنا.

تخيّلوا تلميذًا يجري في الفصل.
وأثناء دورانه بشكل حاد حول إحدى الطاولات، يصطدم بتلميذ آخر.
نتيجة لذلك، يتعرض التلميذ الذي سقط للأذى.
هل مازال التلميذ الذي سقط آمنًا؟





إصبع الإبهام إذا أصبح التلميذ الذي تم ذكره في القصة غير آمن.



ارفعوا إصبع الإبهام إذا كنتم تعتقدون أن التلميذ الذي تعرض للأذى مازال آمناً

معلاني

أسباب جيدة.

من خلال الجري وعدم الحرص، يعتدي التلميذ الأول على حق التلميذ الآخر في الأمان ويحرمه منه.

وللمحافظة على سلامتنا جميعًا، يجب علينا الالتزام بالتعامل الجيد مع زملائنا في الفصل وعدم ترويضهم للخطر.

توجد لدينا قواعد ومعايير توجيهية لحماية حقوق بعضنا البعض.

هل يمكننا كتابة قائمة بالمعايير التوجيهية التي
تساعدنا في المحافظة على حقوقنا؟

ما هو المعيار التوجيهي الذي يساعدنا جميعًا
في المحافظة على حقنا في التعلم؟

ارفعوا أيديكم إذا كانت لديكم فكرة.

- عدم التحدث أثناء تحدث شخص آخر
- واتباع الإرشادات
- العمل بجد

معلاني

هل يُظهر ذلك حماية حق مشاركة الأفكار؟

حقوقنا

تتبع الكلمات المكتوبة بالأسفل. اكتب الحرف الأول من اسمك في كل مربع.
يشير ذلك إلى موافقتك.

لنا الحق في:

ع

العيش بأمان

ت

التعلم

م

مشاركة الأفكار

الدرس الثاني



المسئولية

هي شيء من المفترض أن تهتم به أو تفعله

المسئولية:

شيء يُنتظر منك القيام به.

- المسئولية هي أشبه بمهمة.
- من المفترض أن تحترم الآخرين.
- احترام زملائك في الفصل هو مسئوليتك في المدرسة.
- هل تعرفون أمثلة أخرى للمسئوليات؟

تساعد القواعد المجتمع في الحفاظ على الأمان والسلام.
تساعدنا القواعد على حماية حقوقنا.
ويعد الالتزام بالقواعد مسؤولية لدى الجميع.

يتصرف بعض التلاميذ بمسئولية، حيث أنهم يلتزمون
بالقواعد.
ويتصرف البعض الآخر دون مسؤولية، حيث لا يلتزمون
بالقواعد.
هيا بنا نمارس أحد التدريبات معًا.



أرى أن التلميذ نائم بدلاً من القراءة.
هل هذا التصرف صحيح؟
هل هذا التلميذ يتصرف بمسئولية؟
يجب ألا ننام داخل الفصل. يجب أن ننتبه جيداً.

فصلنا الدراسي هو المجتمع بالنسبة لنا.
ومن مسؤوليتنا أن نلتزم بالقواعد المنظمة.
ما الذي سيحدث داخل الفصل إذا لم نلتزم بالقواعد؟

الالتزام بالقواعد



ارسم وجهًا مبتسمًا في الدائرة إذا كان التلميذ يلتزم بالقواعد. وارسم وجهًا
عابسًا في الدائرة إذا كان التلميذ غير ملتزم بالقواعد.



المسؤوليات

الحقوق

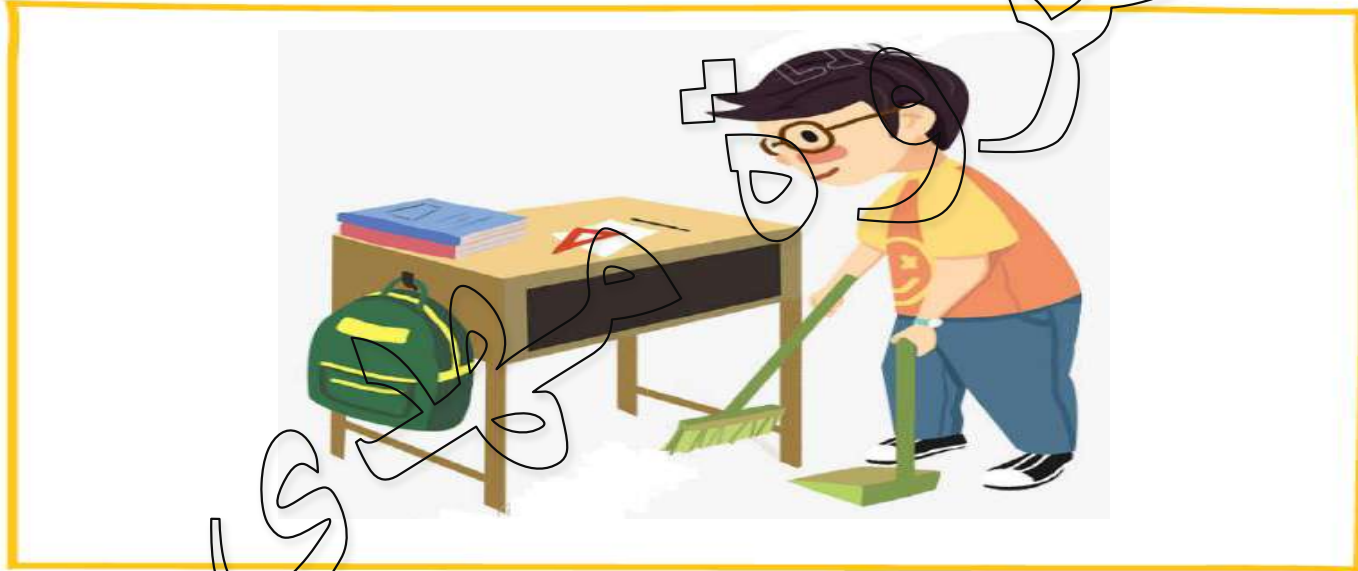
احترام الآخرين.
ألا ننام داخل الفصل
نلتزم بالقواعد المنظمة
الحفاظ على نظافة الفصل الدراسي

أن نعيش بأمان.
أن نتعلم.
أن نشارك أفكارنا.

أنا مسئول



ارسم صورة تُظهر أنك فرد مسئول في المجتمع.



استكمل الجملة
أحافظ علي نظافة الفصل
يمكنني

مرورة مهدي



الدرس الثالث

المساعدة في المدرسة

المساعدة في المنزل

احترام الآخرين.
ألا ننام داخل الفصل
نلتزم بالقواعد المنظمة
الحفاظ على نظافة الفصل الدراسي

أن نعيش بأمان.
أن نتعلم.
أن نشارك أفكارنا.

نحن نعنتي بمنازلنا.
ونعنتي بفصلنا أيضاً، حيث تقع مسئولية العناية بالفصل على الجميع.

من يقدم المساعدة عندما أكون مريضاً

من يساعدي في التعلم؟ .

أمي

مغلاقي

مرورة مهدي



كيف تساعدون أسرتكم في المنزل؟



وقت
مغلاقي



الأشخاص آخرين يساعدوننا والأشخاص الذين نتعامل معهم كل يوم.

هؤلاء هم الأشخاص الذين نسميهم "أصحاب المهن".

هل تعرفون شخصاً يساعد الأشخاص في حيكم السكني؟

يقدم المعلمون ورجال الإطفاء والشرطة والأطباء المساعدة للأشخاص كل يوم، حتى إذا كانوا لا يعرفوا الأشخاص.

حيث إنهم يساعدوا المجتمع في التعلم والحفاظ على الصحة والأمان. وتوجد أماكن في مجتمعنا يمكننا الذهاب إليها لطلب مساعدة هؤلاء. وتتمثل هذه الأماكن في أماكن عمل أصحاب المهن.

الأشخاص آخرين يساعدوننا والأشخاص الذين نتعامل معهم كل يوم.

هؤلاء هم الأشخاص الذين نسميهم "أصحاب المهن".

هل تعرفون شخصاً يساعد الأشخاص في حيكم السكني؟

يقدم المعلمون ورجال الإطفاء والشرطة والأطباء المساعدة للأشخاص كل يوم، حتى إذا كانوا لا يعرفوا الأشخاص.

حيث إنهم يساعدوا المجتمع في التعلم والحفاظ على الصحة والأمان. وتوجد أماكن في مجتمعنا يمكننا الذهاب إليها لطلب مساعدة هؤلاء. وتتمثل هذه الأماكن في أماكن عمل أصحاب المهن.

الدرس الرابع





عامل البناء.

فني الكهرباء.

عامل الحدادة.



هؤلاء الأشخاص يعملون أيضاً في مجتمعاتنا



ما عمل عامل البناء؟

البناء ببناء المنازل أو إصلاح المنازل



أين يعمل عامل البناء؟

يساعد عامل البناء في بناء المنازل والبنائات والطرق وإصلاح
بنيته التي تهدمت أو تحتاج إلى إصلاح.
وهو يعمل في مواقع البناء أو على الطرق العادية أو الطرق السريعة.



ما عمل فني الكهرباء؟

يساعد فني الكهرباء في توصيل الكهرباء
وإضاءة المباني والمدارس والمنازل.
كما أنه يساعدنا في إضاءة الطرق والمتنزهات



أين يعمل فني الكهرباء؟

وهو يعمل في محطات الكهرباء أو في أي موقع
تحتاج الكهرباء فيه إلى إصلاح.
من الممكن أن يكون في البنايات أو المتنزهات أو على الطرق.



مرورة

ما عمل عامل الحدادة؟

يقوم عامل الحدادة بصنع الدعامات الفولاذية
العملاقة وتركيبها للبنىات والطرق.

مرورة مهدي





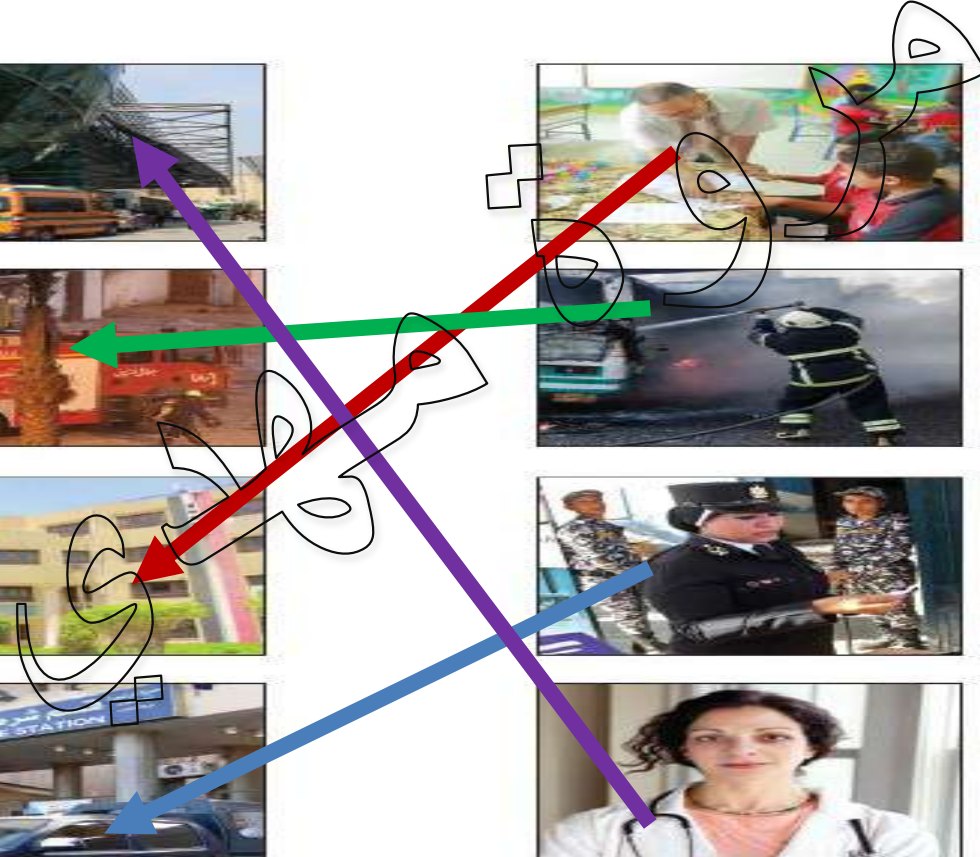
أين يعمل عامل الحدادة؟

يعمل عامل الحدادة في المصنع الذي يتم فيه
صنع الفولاذ أو في مواقع البناء والطرق مع عامل البناء.

أصحاب المهن



صل بين صاحب كل مهنة والمكان الذي يعمل به.



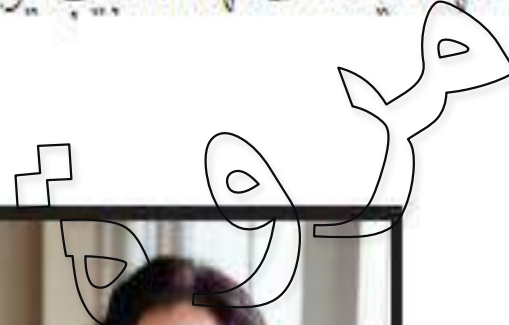
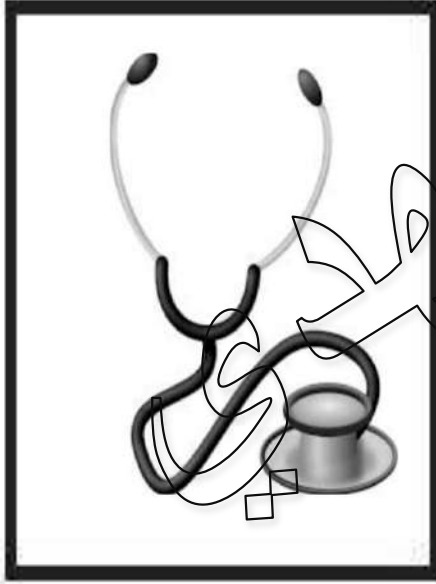
أدوات العمال



صل بين العامل والأداة التي يستخدمها للقيام بمهنته.



ارسم أداة مهمة يستخدمها الطبيب يوميًا.



مروة مهدي



الدرس الخامس

عمال المهن الصناعية هم المنتجون.

يقومون بإنتاج المواد وابتكار أشياء جديدة أو إصلاح الأشياء المكسورة.

فهذه المهن تساعد المجتمع من خلال إنتاج المواد.

وهي تختلف عن المهن التي تساعد الأشخاص بشكل مباشر، مثل الأطباء.

تذكر دائماً أصحاب المهن يساعدون الأشخاص على
التعلم والحفاظ على أمنهم وصحتهم.

فأصحاب المهن ليسوا صناعيين.

ملاي

مهن مهمة



قم بقص هذه المربعات من الخطوط المنقطة.



المهن الصناعية




قم بملصق صورة كل مهنة في العمود الصحيح باستخدام الصمغ أو الشريط اللاصق.

غير صناعية



صناعية



مهن

الأفراد والاحترام

فالأفراد الذين يكونون المجتمع هم أنتم وعائلتكم وأصحاب
المهن في المجتمع والعمال.

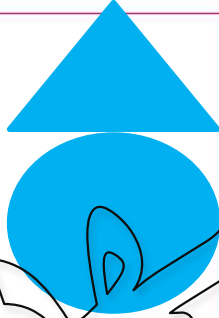
ويحتاج المجتمع إلى أن يسود الاحترام بين الأفراد الذين
سيعملون سوياً ويقومون بمهنتهم من أجل الشعور بالسعادة
والصحة والأمان.

الطعام والماء والمسكن




استخدم الخطوط والأشكال الأساسية لرسم الطعام، والماء والمسكن في المربعات التالية. ثم لونها.

قطرة ماء



تفاحة




بيت



بيت





نحن في حاجة إلى كل هذه الأشياء لبناء مجتمع.

وأهم ثلاثة أشياء نحتاج إليها هي الطعام والماء والمسكن.
فالطعام يحافظ على صحتنا.

والماء والطعام يساعدان على النمو ويحافظان على صحتنا.
المسكن أو البيت يحمينا ويجعلنا في أمان.

الدرس السادس

البث التليفزيوني



الدرس السابع

من المهم للغاية أن يرتدي عمال البناء أزياء مناسبة.

يتعين أن يرتدوا خوذة صلبة لحماية رؤوسهم والحفاظ على أمنهم.

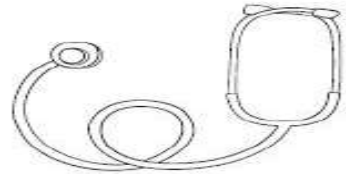
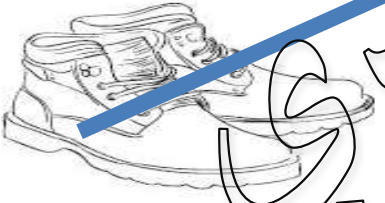
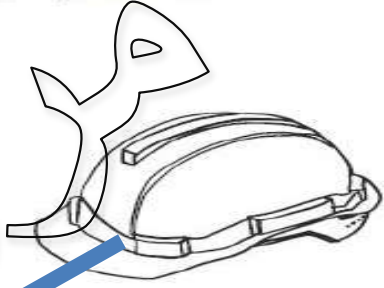
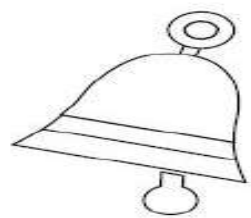
كما يتعين أن يرتدوا حزام الأدوات ليكونوا مستعدين للعمل وتكون أدواتهم قريبة منهم.

ويتعين أيضاً ارتداء أحذية خاصة بالعمل لحماية أقدامهم والسماح لهم بالسير على جميع أنواع الأرضيات المختلفة.

إذا لم يقم عمال البناء بارتداء ملابس مناسبة، فلن يمكنهم أداء عملهم بشكل صحيح وآمن.

عمال البناء

صل عامل البناء والأشياء المهمة التي يجب أن يرتديها للقيام بعمله.



وكما أن من المهم لعامل البناء أن يرتدي ملابس مناسبة،
من المهم أيضا بالنسبة لكم أن ترتدوا ملابس مناسبة
لتقوموا بعملكم.

ما وظيفتك عند الحضور إلى المدرسة؟



معلمي

التعليم

وظيفتكم هي الحضور إلى المدرسة والتعلم ومساعدة
زملائك في التعلم.

ومن مهام وظيفتكم أيضاً العمل سويًا للحفاظ على نظافة
الفصل.

من المهم أيضاً أن تحضروا إلى المدرسة بثياب مرتبة
ومناسبة، حتى يمكنكم التعلم، وحتى لا تقوموا بتشتيت
انتباه الآخرين، ومن أجل إظهار الاحترام تجاه الفصل.



الصف الأول الابتدائي اكتشف

الفصل الدراسي الأول



٢٠٢٠/٢٠١٩

العالم من حولي

الفصل الأول: بيئتنا

الدرس الرابع

الدرس الثالث

الدرس الثاني

الدرس الأول

الدرس الثامن

الدرس السابع

الدرس السادس

الدرس الخامس

الدرس الأول

مروة مهدي

- سننعم بالمعلومات حول الأشياء المحيطة،
أي ما نراه ونواجه من كل ما يحيط بنا.
- كما ستعرف المعلومات حول الأماكن
المختلفة عن الأماكن التي ننتمي إليها.
- سنتعلم المعلومات حول البيئات المختلفة أو
الأماكن التي يعيش فيها الأفراد والنباتات
والحيوانات.



البيئة

تُعد البيئة المكان الذي يعيش فيه الإنسان
والنباتات والحيوانات.



نستخدم حاسة البصر.
ماذا ترون في بيئة الفصل؟
ما الأشياء التي ترونها في البيئة خارج
النوافذ؟
الأشياء التي تكون من الكائنات الحية
وغير الحية



كريم في الملعب.
ويرى الكثير من الأشياء.
يرى عصفورًا.
يرى صخرة.
يرى شجرة.
ويرى ألعابًا يلعب عليها.

ملاي



ويرى ألعاباً يلعب عليها.



كائنات غير حية

صخرة

الزحلوقة

كائنات حية

عصفور

شجرة

معلمي





الكائنات الحية



كل الكائنات الحيّة تنمو وتتغير، تنمو وتتغير، تنمو وتتغير

كل الكائنات الحيّة تنمو وتتغير

الأشياء غير الحية لا تنمو ولا تتغير.

الكائنات الحيّة تحتاج إلى الغذاء والماء، الغذاء والماء،

الغذاء والماء

الكائنات الحيّة تحتاج إلى الغذاء والماء

الأشياء غير الحية لا تأكل ولا تشرب.

الكائنات الحيّة تحتاج إلى الهواء للتنفس، الهواء لتتنفس،

الهواء لتتنفس



الكائنات الحيّة تحتاج إلى الهواء لتنفس
الأشياء غير الحية لا تتنفس.

الكائنات الحيّة تتحرك بمفردها، بمفردها،
بمفردها

الكائنات الحيّة تتحرك بمفردها

الأشياء غير الحية لا تتحرك بمفردها.



الكائنات الحية لديها الصغار.
الأشياء غير الحية ليس لديها صغار

شخص يسقي النباتات المنزلية أو النباتات في
الحديقة أو العصافير التي تشرب من حوض
للعصافير أو بركة.



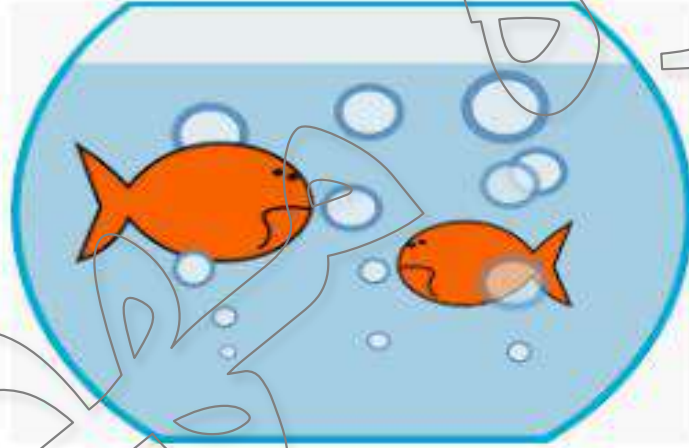
الأشياء غير الحية لا تحتاج إلى الطعام
نستخدم الماء عند غسل الملابس، ولكن
الملابس لا تحتاج إلى الماء لتكون ملابس



الحيوانات والإنسان حيث يتنفسون و يتحركون.



كيف يتنفس السمك الهواء



السمك يمكن أن تتنفس الهواء من الماء



الأشجار لا تتحرك تلقائيًا



"لا تتحرك الأشجار مثل الإنسان، ولكن ينمو الجذور أسفل الأرض للعثور على الماء والنمو في اتجاه الشمس."



الشيء

هل ينمو ويتغير؟

هل يحتاج إلى
الغذاء والماء؟

هل يحتاج إلى
الهواء؟

هل يتحرك
بمفرده؟

هل هو كائن
حي؟

طائر



نعم

نعم

نعم

لا

نعم

صخرة



لا

لا

لا

لا

لا

شجرة



نعم

نعم

نعم

لا

نعم

الألعاب



لا

لا

لا

لا

لا

الدرس الثاني



هل تنمو وتتغير السيارة؟ لا

هل تحتاج السيارة إلى الطعام والماء؟ لا

هل تحتاج السيارة إلى الهواء؟ لا

هل تتحرك السيارة تلقائيًا؟ لا

هذا يعني أن السيارة يجب أن تكون من الأشياء غير الحية.



الكائنات الحية والأشياء غير الحية

لَوْنُ صور الكائنات الحية باللون الأخضر. لَوْنُ صور الأشياء غير الحية باللون الأزرق.


كرة




شجرة




بطة




سيارة




أسد




سمكة



قبعة




زهرة



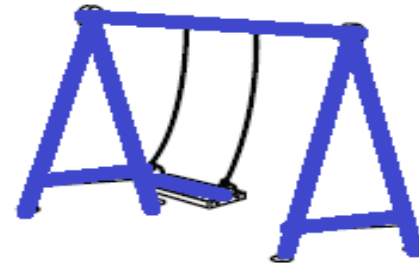
ضفدعة




فراشة



أرجوحة



طائرة ورقية



حـم عدد الأشياء الحية؟



حـم عدد الأشياء غير الحية؟

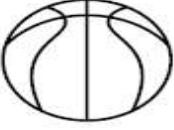





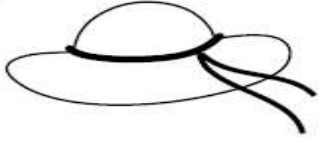




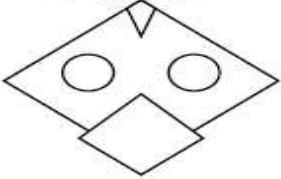


حـم عدد الأشياء الحية؟



تكوين مجموعات

صنّف الأشياء الموجودة بالأسفل في مجموعات. اكتب كل كلمة في المربع الصحيح.

كرة 	شجرة 	بطة 	سيارة 
أسد 	طائرة 	قبعة 	جرس 
ضفدعة 	دراجة 	أرجوحة 	طائرة ورقية 



الكائنات الحيّة

بطة

شجرة

أسد

ضفدعة

الأشياء التي تصدر أصواتاً

سيارة

جرس

طائرة

دراجة

الأشياء التي يمكننا اللعب
بها

كرة

قبعة

طائرة ورقية

أرجوحة



الدرس الثالث



الملاحظة
تعني المراقبة عن قرب


ملاحظة




نزهة في الخارج

في كل مربع ارسم شيئاً واحداً لاحظته وأنت تتنزه، اكتب اسمه.







Hand-drawn letters for tracing: 'S' is positioned at the bottom left, 'H' is at the top left, 'A' is in the center, and 'Y' is at the top right. The letters are simple outlines with small squares at the starting points of the strokes.



كائن حيّ أم غير حيّ؟



اكتب كل شيء لاحظته في الخارج في العمود الصحيح.
عد الأشياء الموجودة في كل عمود.

غير حيّ

حيّ

أتوبيس

منزل

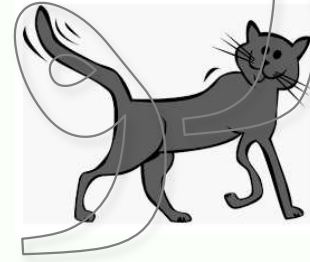

دراجة

وردة

قطة

موز





ما إذا كان الكائن نباتاً أو حيواناً؟
النباتات تكون موجودة عادةً في الأماكن الخضراء
ما الذي يميز بينهما؟
والنباتات عادةً تنمو في الأرض أو في حاويات/أوعية
ماذا نعرف عن النباتات؟
والنباتات لا تتحرك حولنا مثل الحيوانات



النباتات والحيوانات

عد النباتات والحيوانات التي رأيتها، استخدم الأعداد لكتابة جملة
عددية.

كم عدد النباتات؟

كم عدد الحيوانات؟

عدد الكائنات الحية =

الحيوانات

النباتات



الدرس الرابع



البيئة

الأشياء المادية المحيطة بنا من كائنات حية وغير حية.

التدرب على الكتابة

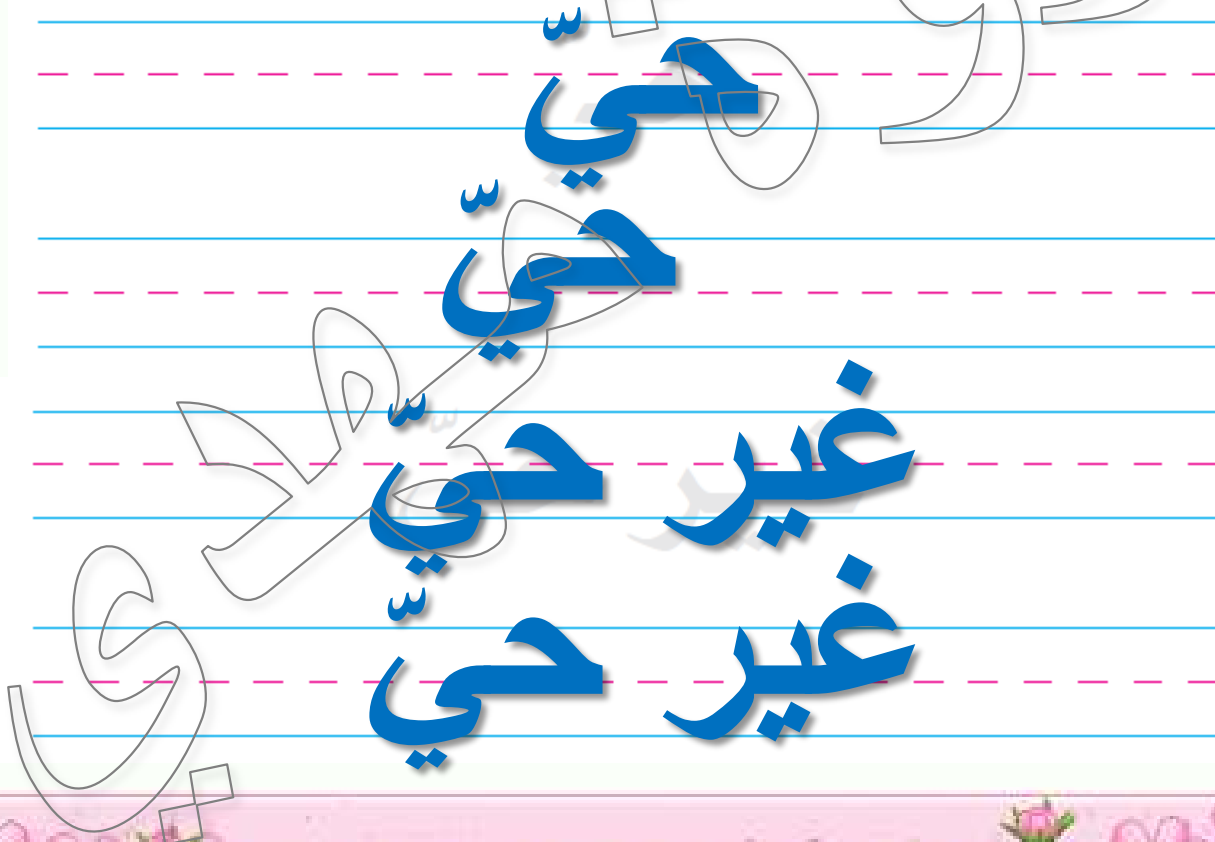
تدرّب على كتابة كلمة "البيئة".
تتبع الكلمة مرتين، ثم اكتبها ثلاث مرات.

البيئة
البيئة



التدرب على الكتابة

تدرب على كتابة الكلمتين "حي" و"غير حي". تتبع الكلمة أولاً، ثم اكتبها بنفسك.



الفرق بين البيئة المباشرة في المدرسة والبيئة الأوسع ؟



البيئة المباشرة في المدرسة

فهي النطاق الأقرب لدينا وما نتعرض له بشكل يومي.



البيئة الأوسع الموجودة في مصر.

في مصر، لدينا نوعين من البيئة، الصحراوية والزراعية.



الصحراء

اكتب معلومة مهمة عن الصحراء. ارسم صورة للصحراء.
ارسم دائرة حول الحيوانات التي تعتقد أنها تعيش هناك.

الصحراء جافة

كلمة "جافة" إلى عدم وجود ماء، مما يصعب من نمو النباتات ومن فرص بقاء الحيوانات على قيد الحياة.





فرس النهر



الغزال



الورل النيلي (السحلية).



الوعل







الحيوانات التي تعيش في الصحراء هي الغزال والوعل.
هذه الحيوانات يمكنها العيش في أماكن جافة للغاية.
فهم لديهم قلوب صغيرة الحجم، مما يعني أنهم يستخدمون
كمية مياه أقل للتنفس.
وترجع إمكانية العيش في الصحراء لديهم أن احتياجهم للماء
يكون أقل بخلاف الحيوانات الأخرى.




الدلتا

اكتب معلومة مهمة عن الدلتا. ارسم صورة للدلتا.
ارسم دائرة حول الحيوانات التي تعتقد أنها تعيش هناك.

تستخدم الدلتا في الزراعة

فالتربة بها تكون خصبة جدًا للزراعة نظرًا لتدفق الماء خلالها.







الحيوانات التي تعيش بالدلتا هي فرس النهر والورل النيلي.
تعيش هذه الحيوانات في الدلتا لأنها بحاجة إلى كميات كبيرة من
الماء للحفاظ على برودة أجسامهم.
يقضي فرس النهر ما يقرب من ٦ ساعة يوميًا في الماء، لذلك يلزم
أن يعيشون بالقرب من مصدر مياه كبير للبقاء على قيد الحياة.



الدرس الخامس



مصدر الماء




مصدري الماء اللذين ينبعان من طبقات المياه الجوفية والأنهار الموجودة في هذه البيئة



أهمية الماء

أجسامنا بحاجة إلى الماء
كل الكائنات الحية تتكون نسبة ٥٠% أو النصف منها من الماء



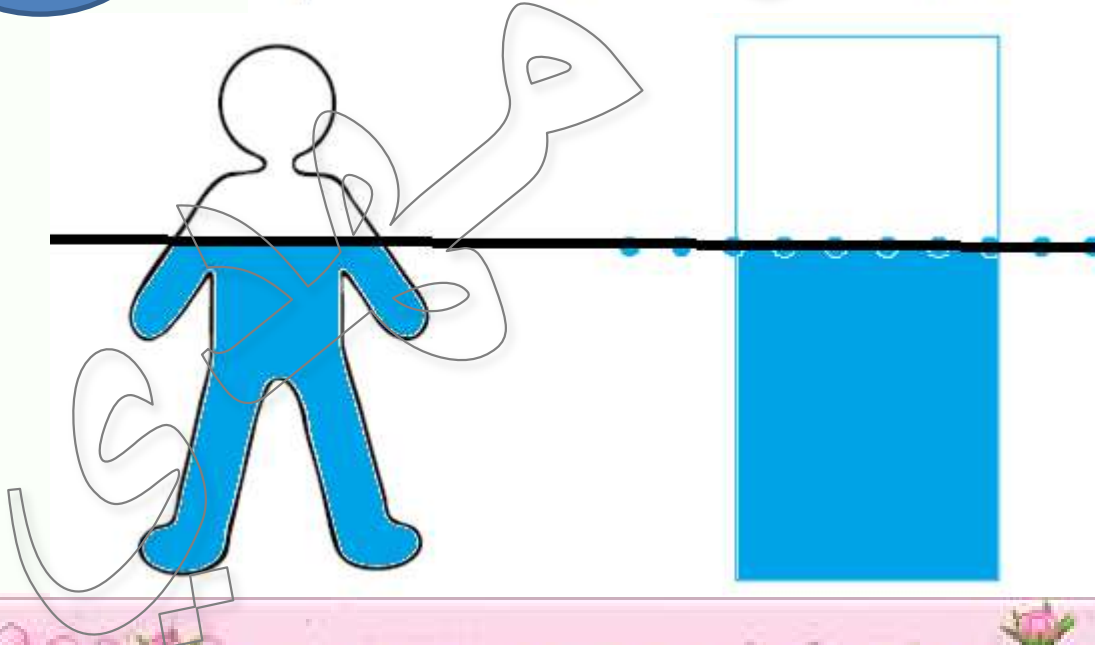

تتكون ثلاثة أرباع أجسامنا،
أو ٧٥% منها من الماء.
هذه نسبة كبيرة للغاية.




تتكون أجسامنا من نسبة كبيرة من الماء، لذلك فالماء مهم جدًا لنا، ولا يمكننا الاستغناء
عن تناوله يوميًا واحدًا!
فالماء مهم للغاية!

أجسامنا مكونة من الماء

لأن الجسم من أسفل لأعلى إلى الخط المنقط. هذا هو حجم أجزاء أجسامنا التي
تتكون من الماء.





هذا هو حجم أجزاء أجسامنا التي
تتكون من الماء!

تتكون أجسامنا من أشياء أخرى، لذلك
فنحن لا نبدو مثل الماء.
لكنها لا تزال جزءًا
مهمًا في الحفاظ على صحتنا!



نحتاج إلى الماء لنعيش

نحتاج إلى الماء لنعيش
الماء يساعدنا في البقاء على قيد الحياة
وإذا شربت الماء يومياً
يمكنك أن تجري وتلعب
الماء موجود في طعامنا،
الماء موجود في السحاب،
الماء في كل مكان،
نحتاج إلى الماء لنعيش،
الماء يساعدنا في البقاء على قيد الحياة

"نحتاج إلى الماء لنعيش"

استمع إلى معلمك:

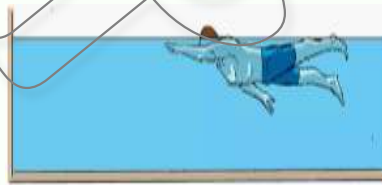


أهمية الماء



فهي تساعدنا في البقاء على قيد الحياة.
وهي موجودة في الغذاء وفي الهواء.
لن نتمكن من البقاء أحياء بدون الماء!

من أين يمكن الحصول على الماء؟



مكان مجيء الماء



البيئة الصحراوية والبيئة الزراعية



يأتي الماء من النهر.
عندما تسقط الأمطار، تستقر
المياه في الأرض وتتدفق
خلال النهر.



نهر



لا تسقط الأمطار كثيرًا.
تأتي المياه من طبقات المياه
الجوفية أو من تحت الأرض.



بئر



البيئة الصحراوية والبيئة الزراعية





اعتقد أن الماء يأتي من
النهر لأننا قريبين من النهر

اعتقد أن الماء يأتي من طبقة مياه
جوفية لأننا بعيدين جداً عن النهر




الاهتمام بالبيئة

ضع علامة «X» بالأحمر على السلوك الذي يضر بالبيئة. ارسم دائرة باللون الأخضر حول السلوك الذي يهتم بالبيئة ثم لون الصور.



ألبوم صور

في كل صفحة من صفحات ألبوم الصور، ارسـم صـورة تُظـهـر سـلوكـك المسـئـول نحو البيـئة.

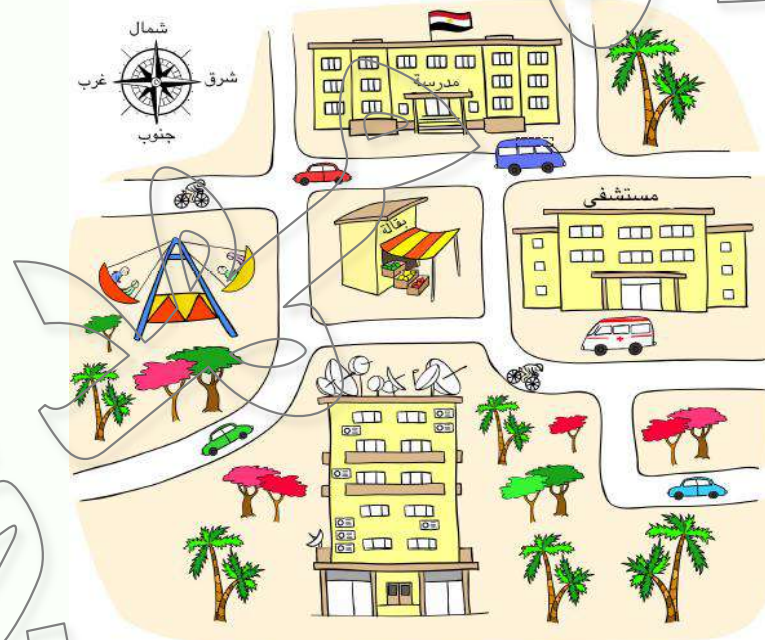


الدرس السادس



الخريطة

هي لوحة ورقية تعرض للأشخاص أماكن وجود الأشياء.
قد تساعدنا الخرائط على اكتشاف الأماكن التي نتوجه إليها.



البوصلة



تساعد في تحديد الطريق المتجه إليه على الخريطة
وأي طريق تواجهه الآن.



ستقومون بقراءة البوصلة التي ستتحرك في نفس الاتجاه المماثل لعقارب الساعة.





ش

م

ج

م

ش

م

ج








الشيء الرائع في هذه الاتجاهات أنها لا تتغير أبدًا.
فالشمال يظل دائمًا في اتجاه الشمال.
يمكن أن تساعدنا معرفة اتجاه الشمال في اكتشاف طريقنا!



استخدام خريطة



استخدام خريطة



أتجه ناحية الشمال




استخدام خريطة



أتجه ناحية الشرق




استخدام خريطة



أتجه ناحية الجنوب



استخدام خريطة



أتجه ناحية الغرب



استخدام خريطة

المدرسة في اتجاه الشمال من المنزل



استخدام خريطة

البقالة في اتجاه الجنوب من المستشفى



استخدام خريطة

المستشفى في اتجاه الشرق من الملعب



استخدام خريطة

البقالة في اتجاه الغرب من المستشفى



استخدام خريطة

البقالة في اتجاه الشمال من المنزل



استخدم الخريطة لإكمال الجمل.



من المنزل.

الشمال

المدرسة في اتجاه

من الملعب.

الشرق

المستشفى في اتجاه







ارسم مع زملائك مسودة أولية لخريبتكم.



منزل



شجرة



بحيرة

المفتاح	
حي	
غير حي	
ماء	

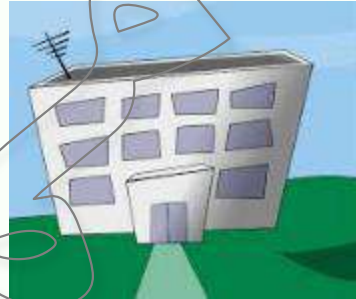
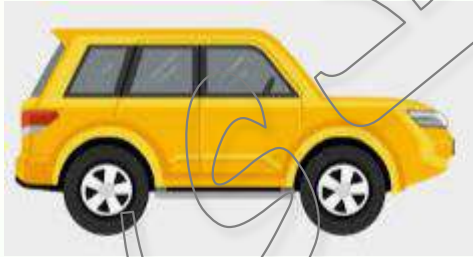


الدرس السابع



جمادات

صخرة، أو مبنى، أو سيارة متوقفة



كائن حي

شجرة، أو وردة، أو شجيرة



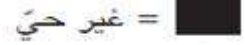


منزل

شجرة

بحيرة

المفتاح




صخرة، أو مبنى، أو سيارة متوقفة



شجرة، أو وردة، أو شجيرة



بحر ، نهر ، بحيرة



حدد الاتجاه

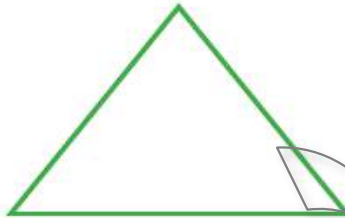
استخدم خريطتكم لإكمال الجمل التالية. بعد ذلك، اكتب جملة عن العناصر الموجودة في خريطتكم.



من

جنوب


في اتجاه



من

غرب

في اتجاه



من

شمال

في اتجاه



Activa



الشجرة في اتجاه الجنوب من المنزل

البحيرة في اتجاه الغرب من الشجرة

المنزل في اتجاه الشمال من البحيرة



الدرس الثامن



ما الأشياء الواجب علينا تذكرها عندما نتحدث أمام الصف؟




مثل:

- التحدث بصوت مرتفع حتى يتمكن جميع التلاميذ من السماع.
- إجراء تواصل بصري مع الجمهور وعدم إدارة الظهر لهم.
- الاستماع بهدوء واحترام.




ملصق لبيتنا

استخدم المربع أدناه لتصميم مخطط أولي لمشروع (ملصق خريطةكم).



خنفساء



صخرة



الصخرة في اتجاه الجنوب من الخنفساء

البحيرة في اتجاه الغرب من الصخرة

الخنفساء في اتجاه الشمال من البحيرة



مراجعة خريطة بيئتنا

أجب بالرسم والكتابة.

ما أوجه اختلاف خريبتكم عن خريطة المجموعة الأخرى؟

خريبتنا



بحيرة

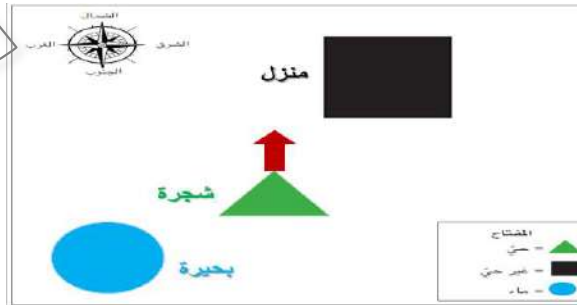
خنفساء



صخرة



خريبتهم



الكائن الحي و الجماد



مراجعة خريطة بيئتنا

أجب بالرسم والكتابة.

ما أوجه التشابه بين خريطتكم وخريطة المجموعة الأخرى؟

خريطتنا



بحيرة

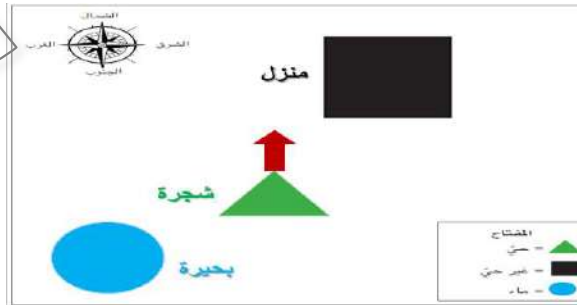
خنفساء



صخرة



خريطتهم



مفتاح الخريطة





الصف الأول الابتدائي اكتشف

الفصل الدراسي الأول



مروة عبد الشافي مهدي

٢٠٢٠/٢٠١٩

العالم من حولي

الفصل الثاني: تجول في البيئة



الدرس



الدرس الأول

مروة مهدي



في هذا الفصل

- سوف نتعلّم كيف تعمل أجزاء الأشياء معًا من أجل التحرك. سوف نتعلّم أيضًا عن وسائل
- النقل، أو كيف ينتقل الناس والأشياء من مكان إلى آخر.

• تتكوّن الأشياء غير الحية والكائنات الحية من أجزاء.



• وكل جزء مختلف له وظيفة مختلفة.

• فكروا مثلاً في القلم الرصاص.

• القلم له سن. نحن نستخدم السن في الكتابة.


كما أن له ممحاة في طرفه. لذا نستخدم الطرف في المسح.

• سوف نتعلم عن أجزاء الكائنات الحية من خلال مراجعة أجزاء من النبات واكتشاف وظيفة كل جزء.

• وسوف نعمل ذلك من خلال دراسة رسم تخطيطي.

• الرسم التخطيطي هو رسم يُظهر أجزاء شيء ما.

- تعمل أجزاء النبات معًا لمنح النبات ما يحتاج إليه.
- ما الذي يحتاج إليه النبات؟



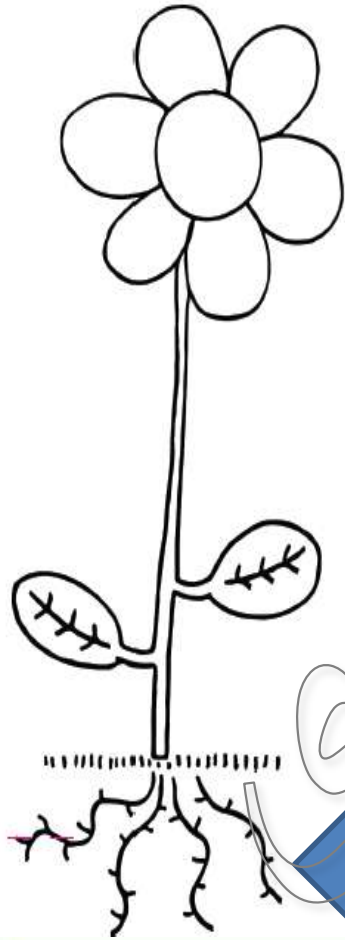
• يحتاج النبات إلى:

• ضوء الشمس

• الماء

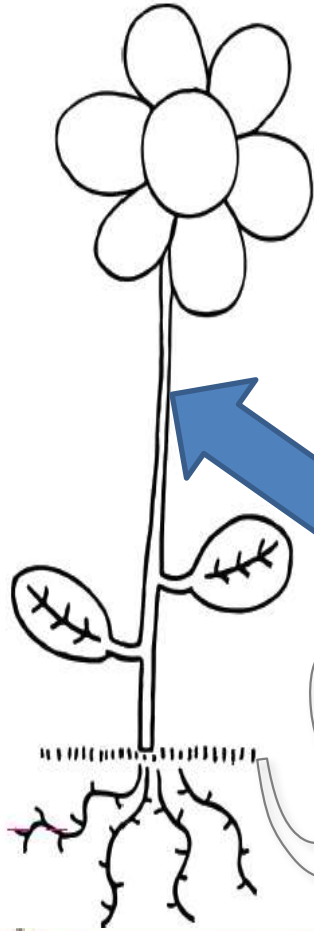
• التربة

• الهواء.



- يعني أن الجزء لابد وأن يكون في الأرض.
- وأنا أرى أن الجذور في الأرض.
- أعتقد أن الجذور هي ما تثبت النبات في الأرض وتمتص العناصر الغذائية والماء من التربة.
- فالنبات يحتاج للغذاء، مثل الفيتامينات، الذي يساعده على النمو.

الجذور

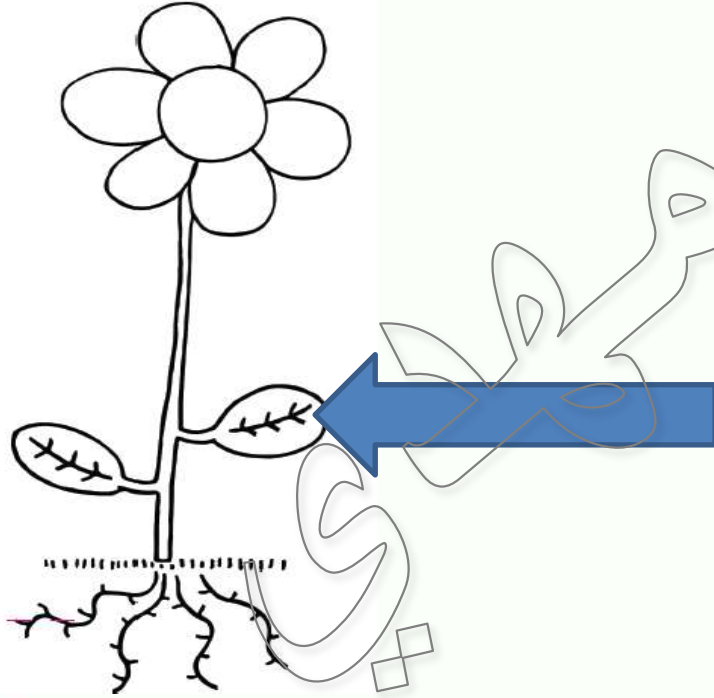


• العناصر الغذائية، مثل الفيتامينات،
تساعد النباتات والحيوانات على النمو.

• فأي جزء يحافظ على النبات في وضع
قائم وينقل العناصر الغذائية والماء من
الجزور إلى الأجزاء المختلفة؟


الساق

- تسمح الأوراق بتخلل الهواء.
- وتستخدم ضوء الشمس لصنع الغذاء.



الأوراق

• أي جزء من النبات يصنع البذور؟

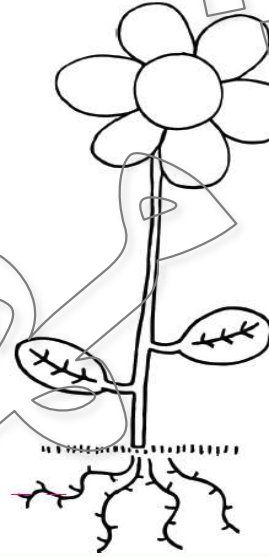


الزهرة

حلاوة

حلاوة

- يحدث إذا لم تكن الأجزاء الأخرى موجودة (الأوراق والزهرة).



كل جزء له أهميته.
فالأجزاء يجب أن تعمل معًا لتوفر للنبات ما يحتاج إليه.

أجزاء النبات

استخدم بنك الكلمات لكتابة أسماء أجزاء النبات. صل جزء النبات بوظيفته.

الساق

الجزور

الزهرة


الأوراق

تثبتت النبات في الأرض.
تمتص
الماء من التربة.

يحافظ على النبات في
وضع قائم. ينقل الماء
من الجذور إلى الأجزاء
المختلفة من النبات.

تسمح بدخول الهواء.
تستخدم ضوء الشمس في
صنع الغذاء.

تتكون بها البذور.



أجزاء النبات

استخدم بنك الكلمات لكتابة أسماء أجزاء النبات. صل جزء النبات بوظيفته.

الساق

الجزور

الزهرة

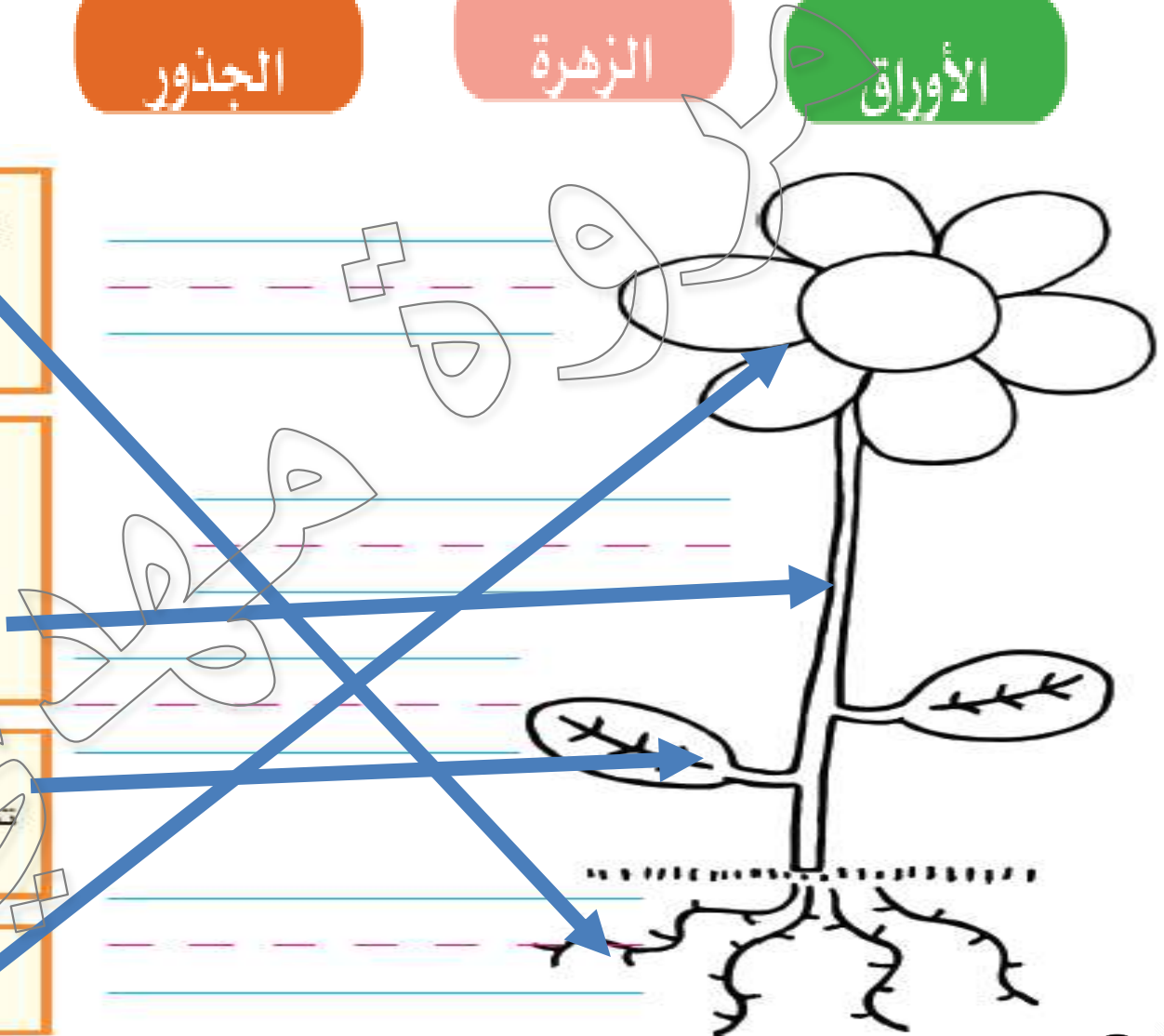
الأوراق

تثبتت النبات في الأرض.
تمتص
الماء من التربة.

يحافظ على النبات في
وضع قائم. ينقل الماء
من الجذور إلى الأجزاء
المختلفة من النبات.

تسمح بدخول الهواء.
تستخدم ضوء الشمس في
صنع الغذاء.

تتكون بها البذور.





استخدم بنك الكلمات لكتابة أسماء أجزاء الحيوانات.

حواافر

مخالاب

زعنفة

جناح

صدفة

قشور

ريش

رقبة طويلة

منقار


ذيل

جراب

قرون

أسنان

سلحفاة



تستطيع السلحفاة سحب جسمها داخل الصدفة، لذلك فإن الصدفة تحمي السلحفاة من الحيوانات الأخرى.



استخدم بنك الكلمات لكتابة أسماء أجزاء الحيوانات.

حواافر

مخالاب

زعنفة

جناح

قشور

ريش

رقبة طويلة

منقار

جراب

قرون

أسنان

سلحفاة

ذيل

صدفة



أجزاء الحيوانات



استخدم بنك الكلمات لكتابة أسماء أجزاء الحيوانات.

حواافر

مخالاب

زعنفة

جناح

قشور

ریش

رقبة طويلة


منقار

ذيل

جراب

فرون

أسنان



أجزاء الحيوانات



استخدم بنك الكلمات لكتابة أسماء أجزاء الحيوانات.

حواافر

مخالاب

جناح

ريش

رقبة طويلة

منقار

جراب

قرون

أسنان

ذيل

زعنفة

قشور

سمكة

Activate Windows
Go to Settings to activate Windows.



أجزاء الحيوانات



استخدم بنك الكلمات لكتابة أسماء أجزاء الحيوانات.

حواافر

مخالاب

جناح

ریش

رقبة طويلة

منقار

جراب

فرون

أسنان

ذيل



بيغاء

أجزاء الحيوانات



استخدم بنك الكلمات لكتابة أسماء أجزاء الحيوانات.

حواافر

مخالب

رقبة طويلة

جراب

قرون

أسنان

ذيل

منقار

جناح

ريش

بيغاء

Activate Windows
Go to Settings to activate Windows.





استخدم بنك الكلمات لكتابة أسماء أجزاء الحيوانات.

حواافر

مخالاب

رقبة طويلة

جراب

قرون

أسنان

ذيل



زرافة

أجزاء الحيوانات



استخدم بنك الكلمات لكتابة أسماء أجزاء الحيوانات.

حواافر


مخالاب

جراب

قرون

أسنان


ذيل



رقبة طويلة

زرافة

Activate Windows
Go to Settings to activate Windows.



أجزاء الحيوانات



استخدم بنك الكلمات لكتابة أسماء أجزاء الحيوانات.

حواافر

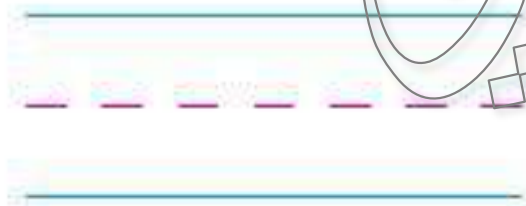
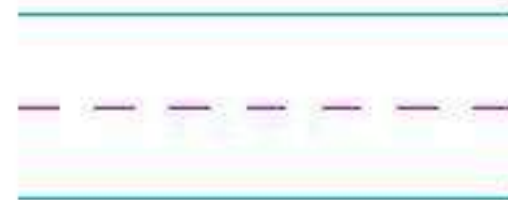

مخالب

جراب

فرون

أسنان

ذيل



أيل

أجزاء الحيوانات



استخدم بنك الكلمات لكتابة أسماء أجزاء الحيوانات.

مخالب

جراب

أسنان

ذيل

قرون

خوافر

أيل



Activate Windows
Go to Settings to activate Windows.





استخدم بنك الكلمات لكتابة أسماء أجزاء الحيوانات.

مخالب

جراب

أسنان

ذيل



كانجرو

أجزاء الحيوانات



استخدم بنك الكلمات لكتابة أسماء أجزاء الحيوانات.

مخالب

أسنان

جراب

ذيل



كانجرو

Activate Windows
Go to Settings to activate Windows.





استخدم بنك الكلمات لكتابة أسماء أجزاء الحيوانات.

مخالب

أسنان

أسد



Handwriting practice lines for the word 'أسد' (Lion). The word is written in large, outlined letters on the first line. Below it are two sets of three horizontal lines (top solid, middle dashed, bottom solid) for tracing and writing practice.

أجزاء الحيوانات



استخدم بنك الكلمات لكتابة أسماء أجزاء الحيوانات.

أجزاء

أسد



أجزاء

أسنان

مخالب

Activate Windows
Go to Settings to activate Windows.



حوافر

مخالب

زعنفة

جناح

صدفة

قشور

ريش

رقبة طويلة

منقار

ذيل

جراب

قرون


أسنان

أكل	حماية	حركة

معلاني

أكل	حماية		حركة
منقار	صدفة	ذيل	جناح
رقبة طويلة	ريش	مخالب	زعنفة
أسنان	قرون	قشور	حوافر
	جراب		

Activate Windows
Go to Settings to activate Windows.



الدرس الثاني



- تستطيع الحيوانات القيام بذلك بعدة طرق مختلفة.
- تستطيع الحيوانات القيام بذلك على الأرض أو في الماء أو في الهواء.
- تستخدم الحيوانات أجزائها للقيام بذلك.

تعرض حيوانات مختلفة متحركة.

لمراقبة الصور والتعرف على أن الأجزاء المختلفة تساعد الحيوانات على التحرك.


كيف تستخدم الحيوانات أجزائها للحركة.




الحيوانات



لاحظ حركة كل حيوان.





شباب

شباب



تستطيع الحيوانات ذات الأرجل المشي والركض والقفز.
تستطيع الحيوانات ذات الأجنحة الطيران
تستطيع الحيوانات ذات الزعانف السباحة

الأرجل	الأجنحة	الزعانف

كيف تتحرك الحيوانات؟



قم بملء صور الحيوانات، صنّف الحيوانات حسب طريقة حركتها والصقها بالجدول في الصفحة التالية:



فراشة



فيل



أرنب



دولفين



ضفدعة



بطريق



بومة



Activate
Go to Setti



حمار صحران



سمكة



خفاش



جمل





صنف الحيوانات حسب طريقة حركتها.
اكتب اسم حيوانك المفضل في كل مجموعة.

يطير	يسبح	يسير، أو يجري، أو يقفز

صنف الحيوانات حسب طريقة حركتها.
اكتب اسم حيوانك المفضل في كل مجموعة.

يطير



يسبح



يسير، أو يجري، أو يقفز



Activate Windows
Go to Settings to activate Windows



حيواني المفضل الذي
يمكنه الطيران هو

حيواني المفضل الذي
يسبح هو

حيواني المفضل الذي يسير،
أو يجري أو يقفز هو

دوليفن فراشة دب

«تقليد الحركات وتعرف ذلك»



استمع إلى معلمك. ارسم دائرة حول الحركات، حاول تقليد هذه الحركات.



إذا كنت أرنبًا، اقفز معي.



إذا كنت أرنبًا، اقفز معي.

إذا كنت أرنبًا، اقفز معي على الأرض.

إذا كنت أرنبًا، اقفز معي.

إذا كنت تلعب في الفناء، فالتف حول نفسك.

إذا كنت تلعب في الفناء، فالتف حول نفسك.

إذا كنت تلعب في الفناء، فالتف حول نفسك بسرعة.

إذا كنت تلعب في الفناء، فالتف حول نفسك.



إذا كنت تلميذًا، فارفع يدك.

إذا كنت تلميذًا، فارفع يدك.

إذا كنت تلميذًا، فارفع يدك لتراها.

إذا كنت تلميذًا، فارفع يدك.

إذا كنت تلعب بالكرة، فاركلها عاليًا.

إذا كنت تلعب بالكرة، فاركلها عاليًا.

إذا كنت تلعب بالكرة، فاركلها عاليًا في السماء.

إذا كنت تلعب بالكرة، فاركلها عاليًا.

الدرس الثالث

مروة مهدي

استكشاف حركة الأشياء

اكتب "نعم" أو "لا" في كل مربع.
اختبر الأشياء لترى كيف تتحرك ثم، اكتب "نعم" أو "لا" في كل مربع.



الشيء	يقفز	يتدحرج	يدور حول نفسه	ينزلق
كرة	نعم	نعم	نعم	نعم
قالب	لا	لا	لا	لا
قلم رصاص	لا	لا	لا	لا

Acti
Go to



الدرس الرابع

مروة مهدي

يتم الربط بين الأماكن المختلفة في بيئتنا
من خلال الطرق والأنهار ووسائل أخرى
للتنقل من مكان إلى آخر.

فالانتقال من مكان إلى آخر يُعد أحد أشكال
التحرك.

عندما نقوم بالانتقال، نستخدم وسائل النقل.

وسائل النقل




هي الوسائل التي تساعدنا على الانتقال من مكان إلى آخر.

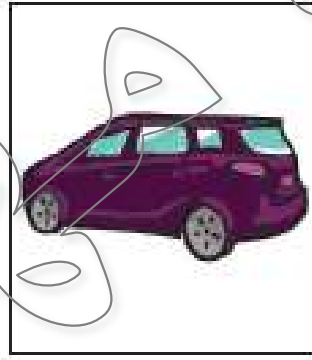
وسائل المواصلات في مصر



انظر إلى الصور التالية، اكتب اسم كل وسيلة من وسائل المواصلات على الخط الموجود أسفل كل صورة.



دراجة



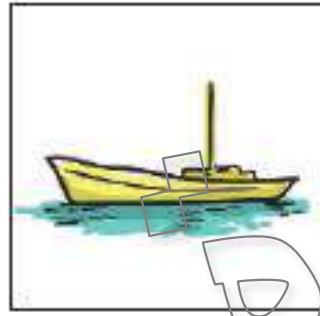
سيارة



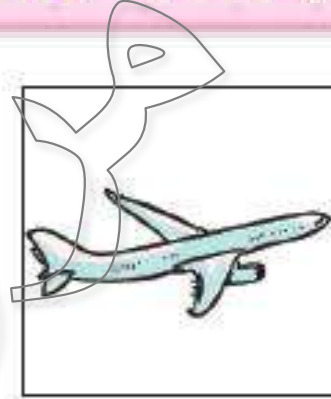
قطر



حافلة



قارب



طائرة



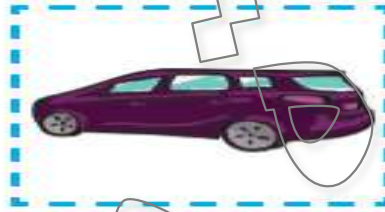




السير

التنقل في عالمنا



قص صور وسائل المواصلات، الصقها في مكانها المناسب في الصفحة التالية.
فكر إلى أين يمكن أن تتجه كل منها.





S E A

هل تسبب التلوث؟



قرر مع زميلك ما إذا كانت وسيلة النقل تلوث البيئة أم لا.
اكتب كل كلمة في بنك الكلمات في العمود الصحيح بالجدول.

السير

قارب

سيارة

قطار

حافلة

دراجة

طائرة

السير

قارب

سيارة

قطار

حافلة

دراجة

طائرة



ملا تلوث



تلوث

ملا تلوث





بلا تُلوث



تُلوث

قارب

قطار

سيارة

السير

طائرة

دراجة

حافلة



الدرس الخامس

مروة مهدي

ألفاظ



اقرأ مفتاح اللغز: اكتب السلوك الصحيح الذي يحل اللغز:

السفر بالقطار رائع.

المقعد

للحفاظ على سلامتنا داخل القطار، يجب أن أبقى ساكناً في

عندما أعبّر الطريق، كي أحافظ على سلامتي

الاتجاهات

يجب أن أنظر في كلا

تهتز القوارب عندما تسير في الماء بعيداً عن اليابس.

أقف

يجب دائماً أن أبقى جالساً. لا يجب أن

عندما يتحول الضوء إلى اللون الأحمر في إشارة المرور

الوقوف

يجب عليّ أن

عندما أركب الحافلة، سواء كانت تسير بسرعة أو ببطء،

النافذة

يجب ألا ألقى أبداً بأي شيء من

قواعد وإشارات المرور

استمع إلى معلمك

الطرق لدينا مزدحمة للغاية.

يجب اتباع قواعد المرور.

يجب أن تلتزم السيارات والحافلات بالسير على الجانب الأيمن من الطريق.

يجب أن يلتزم السائقون بالقيادة الآمنة.

يجب أن يربط الركاب أحزمة الأمان.

يجب أن ينتبه السائقون جيداً لكافة إشارات المرور.

يجب أيضاً أن ينتبه المشاة في الطريق جيداً.



أبطئ سرعتك



قف



قف



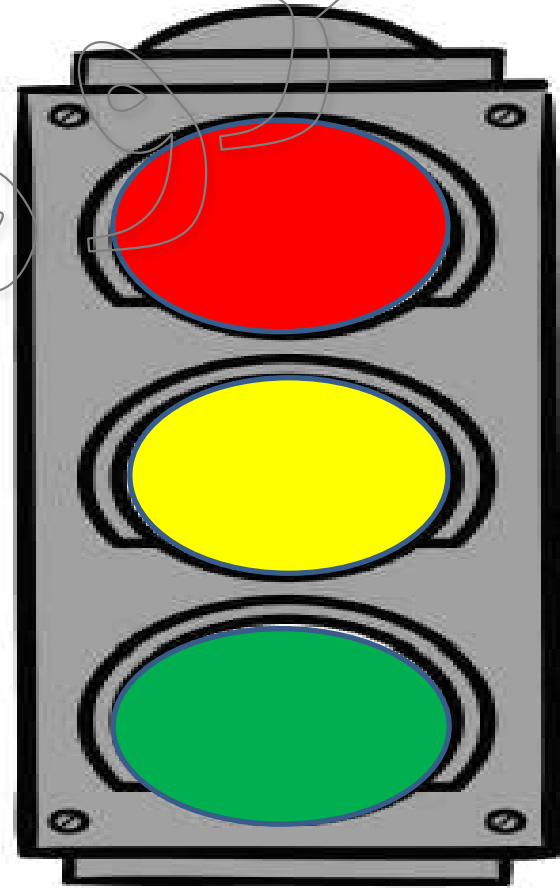
لا تدخل

لوّن كل دائرة باللون الصحيح . اكتب ما يشير إليه كل لون .

قف

استعد

سير



ارسم صورة تعبر عن سلوكك لتحافظ على سلامتک أثناء استخدام إحدى وسائل
المواصلات.



الأهمية إظهار الاحترام في وسائل النقل

والسلوك الملائم يعني أنه يظهر الاحترام ويحافظ على سلامة الأفراد.

محللي



حافظ على سلامتك



اكتب جملة تذكر فيها كيف تحافظ على سلامتك أثناء السير، وأثناء استخدام وسيلة من وسائل المواصلات.

اتبع إشارة المرور

أثناء السير سأحرص على أن

أحافظ على سلامتي ومن حولي

عندما أركب

أجلس في مقعدي

سأحرص على أن

الدرس السادس

مروة مهدي

ما المقصود بالنموذج؟

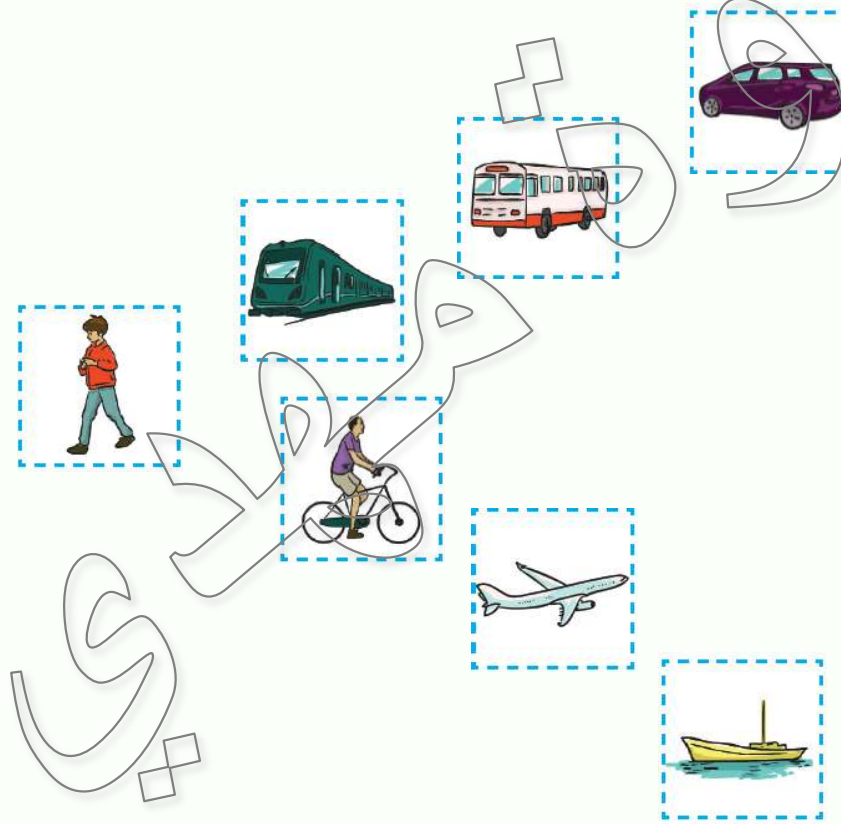
النموذج تمثيلاً ثلاثي الأبعاد لشيء ما.

ويعني ثلاثي الأبعاد أنه غير مسطح.

كما أنه أصغر من الشيء الحقيقي.



وسائل المواصلات



السيارة
الحافلة
القطار
السير
الدراجة
الطائرة
المركب

عملية التصميم



يحتوي كل مربع على خطوة من خطوات عملية التصميم.
اتبع إرشادات المعلم لإكمال خطوة في كل مرة.



١- الفكرة: ما فكرتك التي اخترتها كوسيلة للمواصلات؟

طائرة



الخطوة الأولى أن تكون لدينا فكرة.

إن فكرة هذا المشروع تتمثل في شكل وسيلة من وسائل المواصلات والتي يختارها التلميذ.

حلالي



٢- المواد المستخدمة حدد المواد التي سوف تستخدمها.

كرتون و فوم ألوان

مادة لاصقه

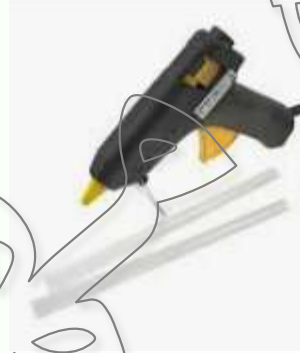
محللي



الدرس السابع




الأدوات



حرفي
هـ
لاي

٣- التخطيط: ارسم تصميمك. اكتب البيانات على الرسم.



الطائرة
جلاي



شکل الطائرة بعد التنفيذ



الدرس الثامن

مروة مهدي



عرض النموذج



أكمل الجمل التالية. ستقرأ هذه المعلومات لزملائك في الفصل عند عرض النموذج.

طائرة

الفكرة: نختار بناء نموذج

المواد المستخدمة : استخدمنا لبناء النموذج

فوم ألوان - شمع -

مسدس شمع - كرتون

القاعدة: ما الذي يجب عليك القيام به عند استخدام وسيلة مواصلاتنا؟

**الحفاظ علي سلامتي
ومن حولي و المقعد**

**تصميم المشروع
بشكل جميل**

من الأشياء الإيجابية التي ظهرت:

من الأشياء التي نفكر في تغييرها:

تغيير بعض المواد المستخدمة

مراجعة النموذج



أجب عن الأسئلة التالية حول نموذج زميلك في الفصل.

١- ما وسيلة المواصلات التي مثلها النموذج؟



سيارة

٢- ما أوجه التشابه بين نموذج المجموعة والنموذج الخاص بك؟

لقد استخدموا نفس المواد

كان مختلفاً عن شكل وسيلة المواصلات

الصف الأول الابتدائي اكتشف

الفصل الدراسي الأول



مروة عبد الشافي مهدي

العالم من حولي

الفصل الثالث: زراعة الغذاء في

العالم من حولنا



الدرس





الكرة الأرضية



هل تعلمون أن العالم من حولنا يتحرك دائمًا؟
إن عالمنا اسمه كوكب الأرض، وهذا الكوكب يدور حول نفسه.
كما أنه يدور حول الشمس.

النهار



الليل




مراود

مراود

مراود





أين الشمس في الصورة؟

الشمس في السماء



اقرأ القصة. استخدم اللون الأصفر لتلوين الشمس.




شروق الشمس

تستيقظ منى من نومها. ترى منى الشمس.



أين الشمس في الصورة؟




تتناول منى الغداء. ترى منى الشمس.



أين الشمس في الصورة؟



تلعب منى لعبة، ترى منى الشمس.



غروب الشمس

تذهب مني إلى السرير.



لا ترى مني الشمس.

ظهر

عصر


ظهر

شرق



من المهم أن نعرف جيدًا أننا بالرغم من رؤيتنا للشمس
تتحرك في السماء إلا أن كوكب الأرض هو من يتحرك
وليست الشمس.





لقد اكتشفنا معًا أننا نرى الشمس تشرق وتغرب كل يوم بينما
يدور كوكب الأرض.
وهذا يعتبر نمطًا.
والنمط عبارة عن شيء متكرر.

فصول السنة الأربعة





«فصول السنة»



استمع إلى معلمك



١- في كل فصل من فصول السنة، يتغير الطقس

يتغير الطقس، يتغير الطقس

في كل فصل من فصول السنة، يتغير الطقس

طوال العام

٢- في الخريف تسقط أوراق الشجر على الأرض

على الأرض، على الأرض
أوراق الشجر تسقط على الأرض،
طوال الخريف

٣- الطقس بارد وممطر
بارد وممطر، بارد وممطر
الطقس بارد وممطر
طوال الشتاء

٤- تبدأ الزهور وأوراق الشجر في النمو

تبدأ في النمو، تبدأ في النمو

الزهور وأوراق الشجر تبدأ في النمو، طوال الربيع

٥- الطقس حار ومشمس

حار ومشمس، حار ومشمس

الطقس حار ومشمس طوال الصيف




لاحظ الصور ثم اكتب اسم فصل السنة أسفل الصورة.

الصيف

الربيع

الخريف

الشتاء



فصل الربيع
تبدأ الأزهار وأوراق الشجر في النمو.

الجو يكون ممطرًا وباردًا في فصل الشتاء.






لاحظ الصور ثم اكتب اسم فصل السنة أسفل الصورة.

الصيف



الخريف







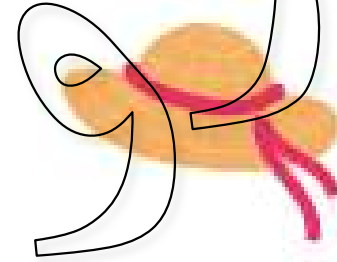

أوراق الشجر تسقط في فصل الخريف.

فصل الصيف يكون الجو حارًا ومشمسًا.

تصنيف الملابس



صنف الملابس الموجودة أسفل الشكل ثم اكتب أسماءها في المكان المناسب.



اليوم الجو يكون حارًا ومشمسًا في فصل الصيف.
ما نوع الملابس التي نرتديها في فصل الصيف؟ ولماذا؟



نرتدي في فصل الصيف الملابس التي تجعلنا باردين.

ماذا ترتدون حينما يكون الجو بالخارج بارد وممطر؟



نرتدي في فصل الشتاء الملابس التي تجعلنا دافئين وجافين.

الصيف

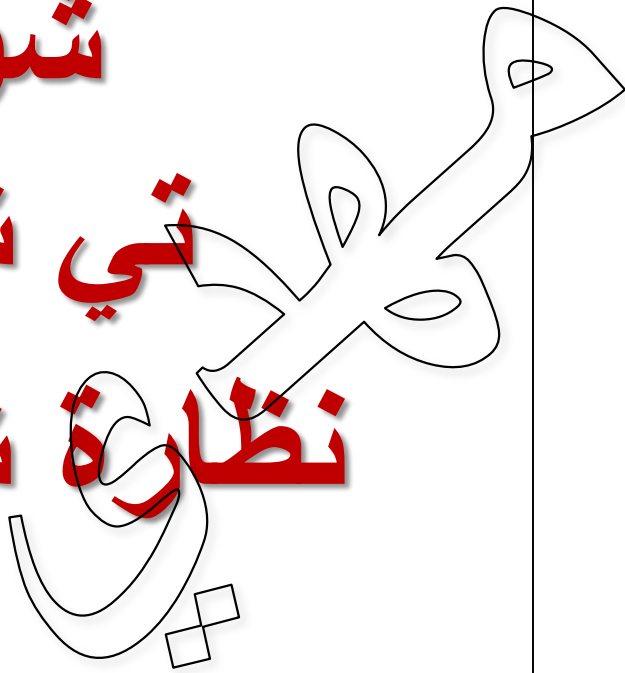
قُبعة

صندل

شورت

تي شيرت

نظارة شمسية



الشتاء

قفاز



جورب

معطف

بوت

أيس كاب

كوفية





ماهي مهنة هذا الرجل؟



فلاح



الشتاء أم الصيف؟



اقرأ القصة، ارسم خطأ تحت الفواكه والخضراوات.

هذا فلاح.

يقوم الفلاح بزراعة الفواكه والخضراوات.

إنه فصل الشتاء.

الفلاح يزرع الطماطم.

الفلاح يزرع الجزر.

الفلاح يزرع البنجر.


إنه فصل الصيف.

الفلاح يزرع البرتقال.

الفلاح يزرع المانجو.

الفلاح يزرع العنب.

شكرًا لك أيها الفلاح.



برتقال طماطم عنب جزر مانجو بنجر

اكتب أسماء الفواكه والخضروات في الجدول التالي حسب فصل السنة المناسب.



الصيف

الشتاء

فواكه


- لدى الفلاحون مهنة مهمة.
- يقوم الفلاحون بزراعة الفاكهة والخضراوات لكي نأكلها.
- نحتاج إلى الفاكهة والخضراوات لنحافظ على صحة أجسامنا.
- من المهم أن نأكل كل ألوان الفاكهة والخضراوات.
- فالفاكهة والخضراوات ذات الألوان المختلفة تساعد أجسامنا بأشكال مختلفة.

طبقي الملون

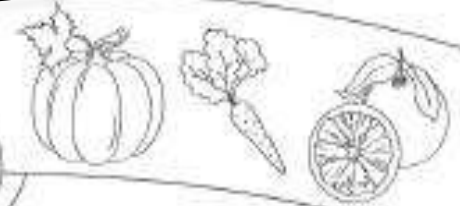


لون الفواكه والخضراوات باللون المناسب.

أحمر




برتقالي




أصفر




أخضر




بنفسجي



أزرق







ارسم حبة فاكهة أو خضراوات
من كل لون على طبقك.

كلام

أن كل لون من ألوان الفاكهة أو الخضراوات يساعد
في الحفاظ على أجسامنا صحية بطرق مختلفة



ما نوع الوجبات الخفيفة التي تحب تناولها؟

بعض هذه الوجبات الخفيفة صحية.

بعض هذه الوجبات الخفيفة غير صحية.

تعد الوجبات الخفيفة التي تحتوي على الكثير من السكر غير صحية لأجسادنا.

فقد تسبب الوجبات الخفيفة الحلوة تسوس الأسنان.

شرب الماء



هناك طريقة أخرى يمكن من خلالها أن نحافظ على صحتنا وهي شرب الماء بدلاً من المشروبات التي تحتوي على السكر.
تذكروا أن السكر يمكن أن يسبب التسوس، سواءً أكلناه أم شربناه.

الإفطار

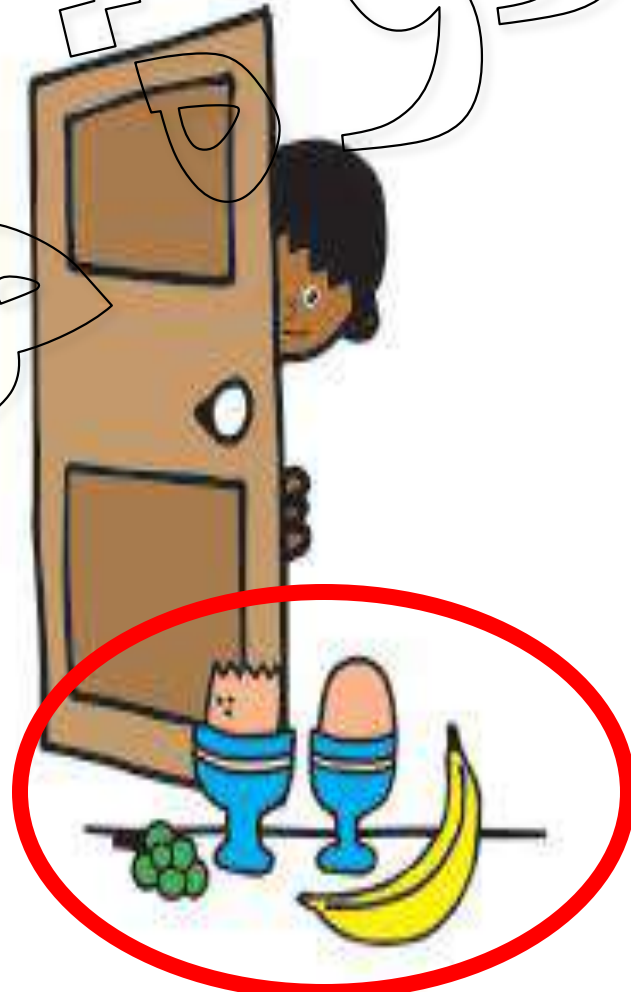



نحافظ على صحتنا من خلال تناول وجبة الإفطار كل يوم.
ماذا تأكل على الإفطار؟

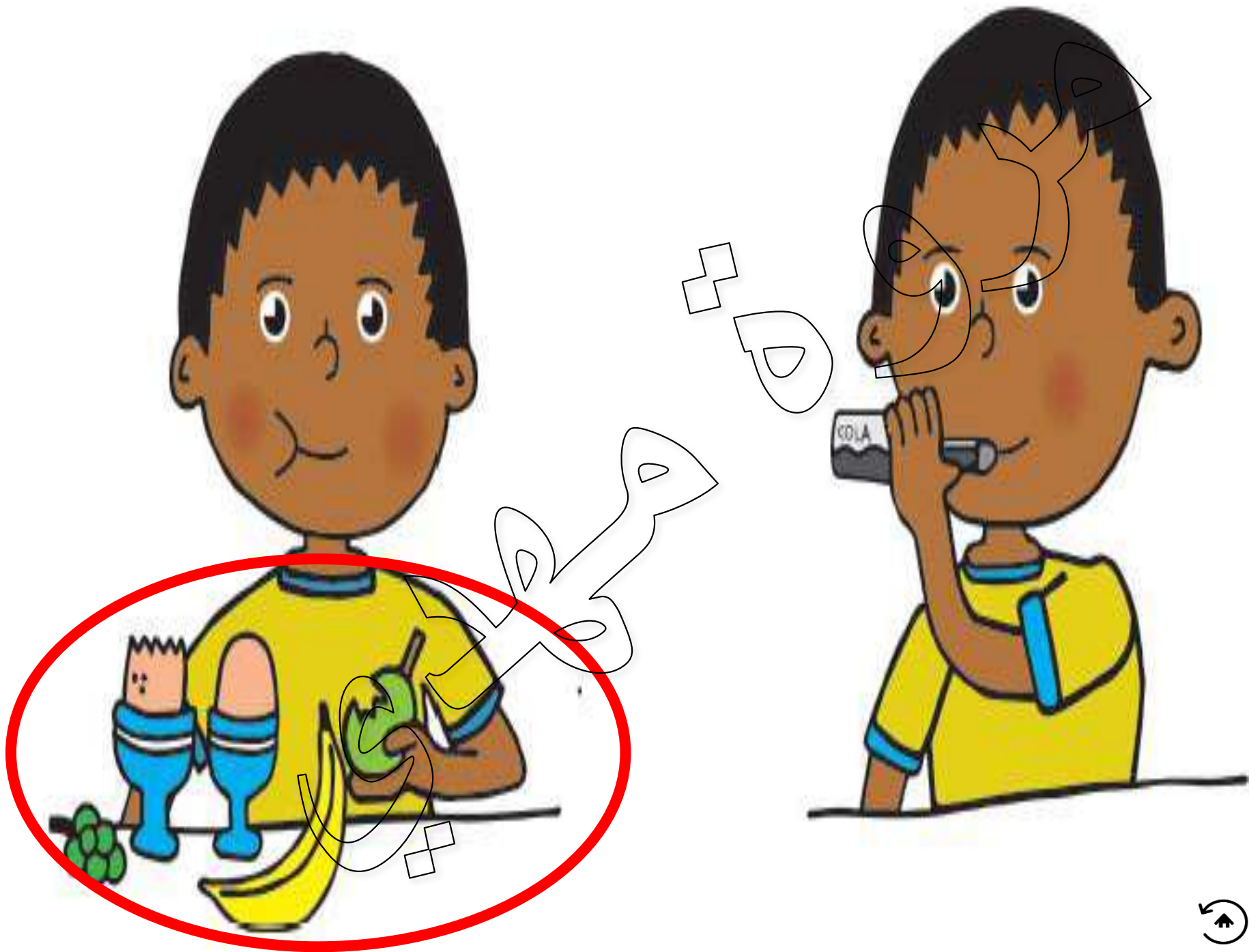
الطعام الصحي






ارسم دائرة حول الطعام الصحي.





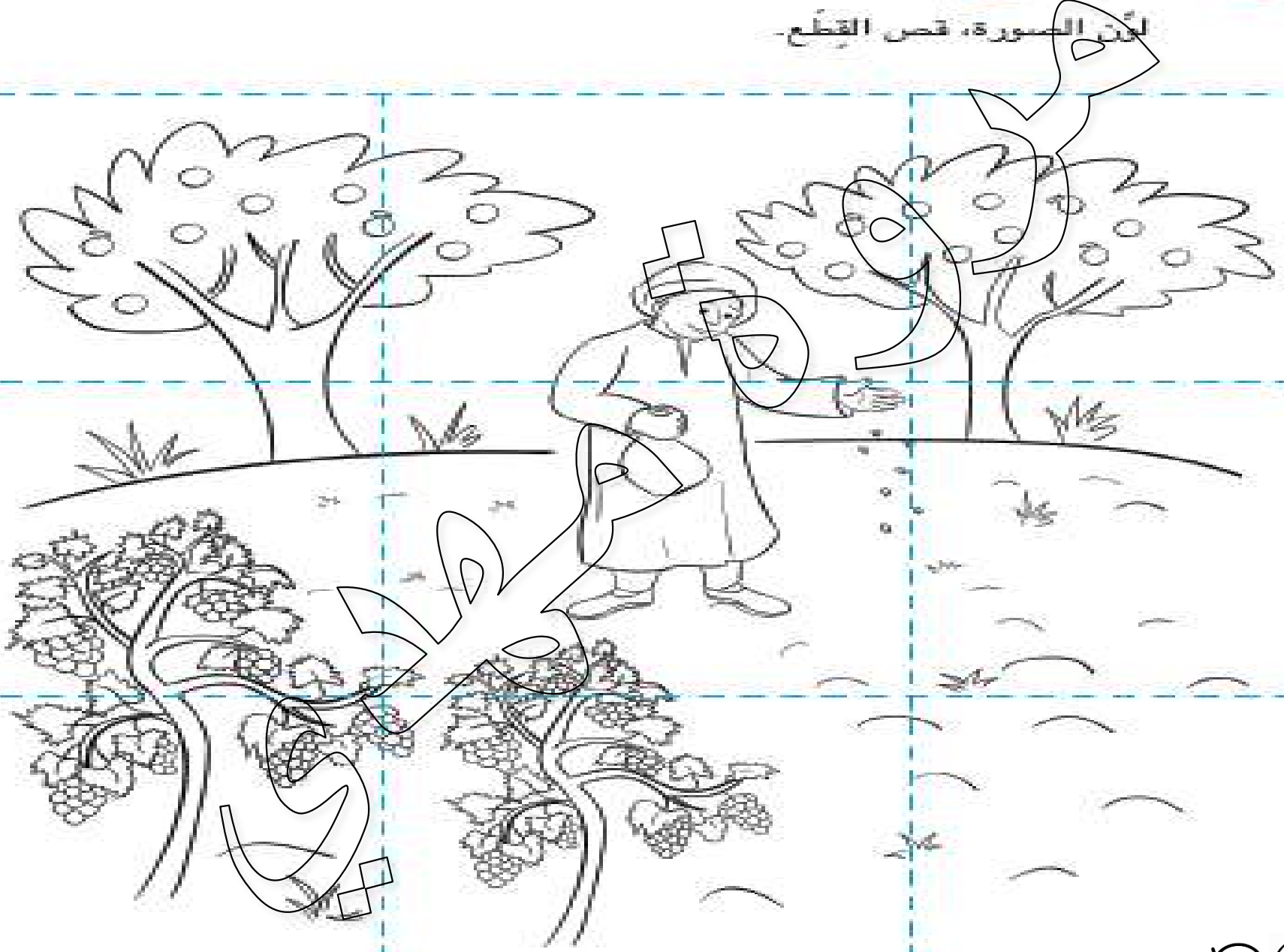







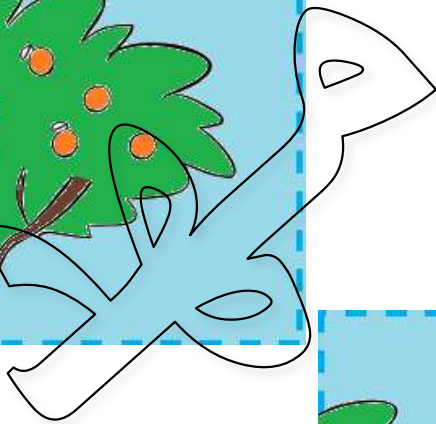







لغز المزارع

لغِّن الصورة، قصِّ القطع-









كلمة "زراعة" هي كلمة تعني أيضًا "الفلاحة".



تعد المهن في الزراعة هامة لأنها توفر للإنسان الطعام والمواد التي يحتاجها ليعيش.




لاحظ الصور وحدد الأعمال التي يقوم بها الفلاح.



رش الحقول



المزارع والماشية



يستطيع

المهنة التي يستطيع الفلاح القيام بها

جمع
الفاكهة

ريّ المحاصيل

حراث الحقول


علف الحيوانات

جمع البيض

غرس البذور

يستخدم

ما الأدوات التي يستخدمها الفلاح للقيام بهذه المهن؟



- يستطيع الفلاح أن يغرس البذور .
- يستخدم الفلاح المجراف .



المهن الصناعية

إن أصحاب المهن الصناعية، مثل عمال البناء والتشييد، وعمال الكهرباء، وعمال الصلب، مهمتهم هي البناء.



وهذا يختلف عن أصحاب المهن الزراعية، أو الفلاحين، الذين يزرعون المحاصيل ويربون الحيوانات. لنرى إذا ما كنا نستطيع التفريق بالنظر إلى صور المهن الزراعية والصناعية.

زراعية أم صناعية؟



ارسم دائرة خضراء حول الصور التي تمثل المهن الزراعية وأخرى حمراء حول الصور التي تمثل المهن الصناعية.





الفلاحون

لدى الفلاحون مهنة هامة.
إنهم يوفروا الطعام والمواد لتلبية حاجاتنا ومساعدتنا
على العيش.

إذا كان ممكناً أن نصير فلاحاً،
فما العمل الذي تحب أن تفعله؟

إذا كنت مزارعاً



اختر عملاً زراعياً، ارسم صورةً لنفسك وأنت تؤدي العمل وتستخدم الأدوات. اكتب جملتين عن العمل الذي تقوم به.



أنا أستطيع أن أغرس البذور

أنا أستخدم المجارف

أنا أزرع طماطم

أدوات الفلاحين خاصة؟

- تعد الأدوات هامةً جدًا.
- فالأدوات تساعدنا في العمل.
- كما إنها تساعد في الحفاظ على سلامتنا أثناء العمل.

أدوات المزارعين

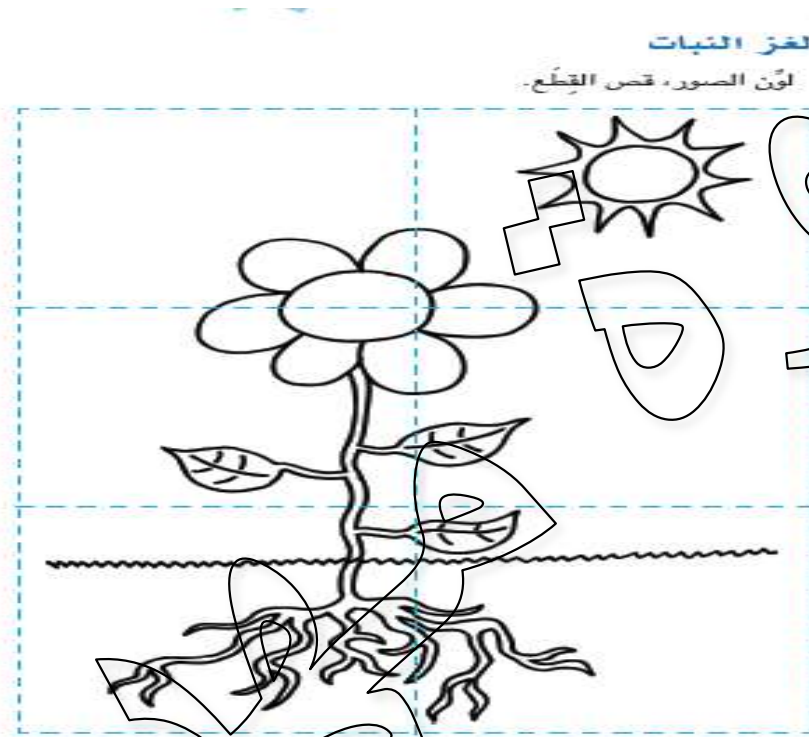


تأمل الصورة.
ارسم دائرة حول الأدوات الزراعية.





ماذا تظهر أحجية اليوم؟




تظهر هذه الأحجية نباتًا.
ما أجزاء النبات التي يمكن رؤيتها وتذكرها؟

ماذا تظهر أحجية اليوم؟


لغز النبات

لَوْنِ الصُّورِ، قَصِّ الْقِطْعِ.




ماذا تلاحظون بشأن هذه الأحجيات؟
لماذا تتطابق مع بعضها البعض؟

كيف نستخدم النباتات؟



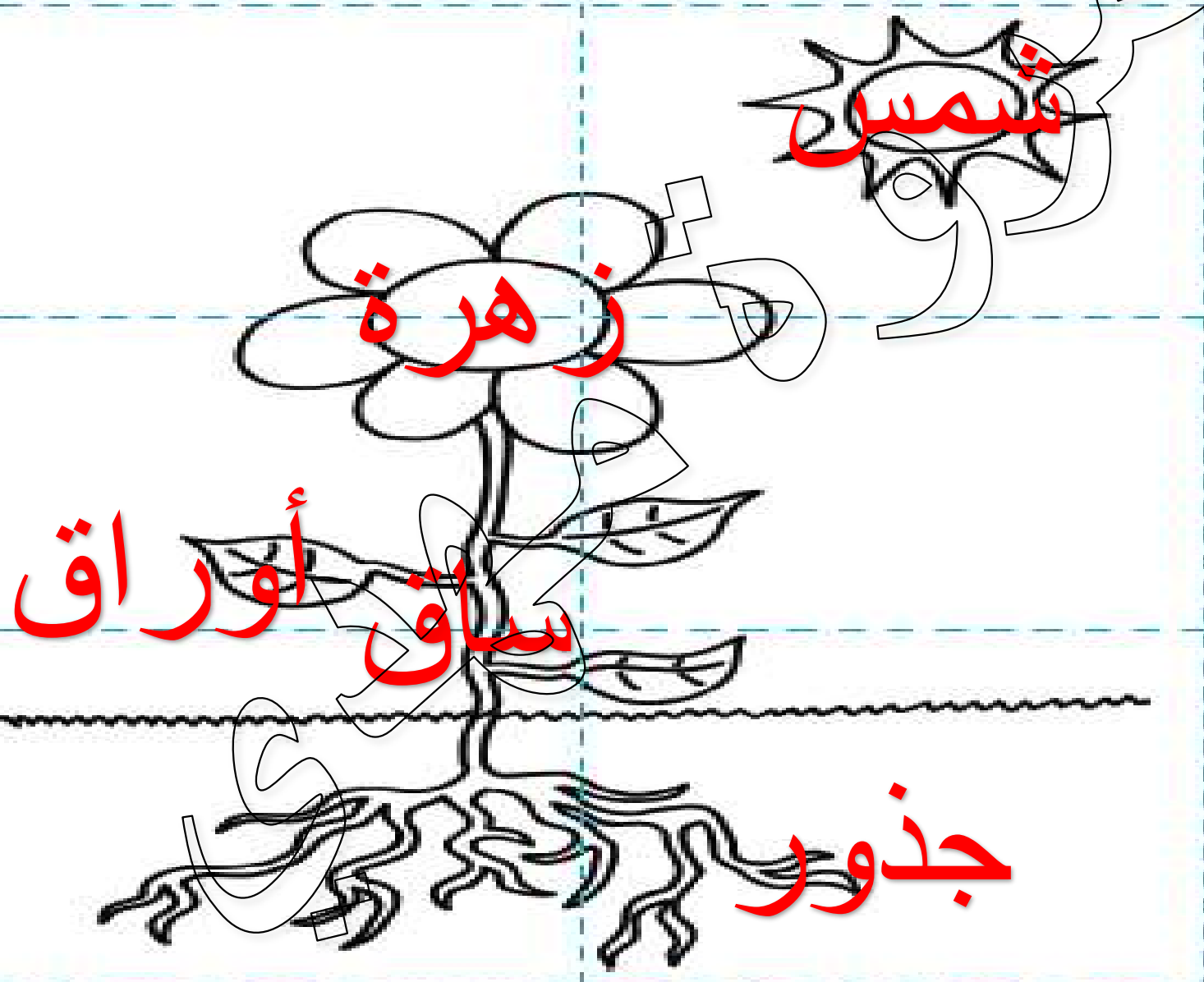
- تتطابق الأحجيات معًا لأن الفلاح يزرع النباتات.
- تعد النباتات هامة جدًا.
- فالنباتات تعطينا ما نحتاجه لننمو ونعيش.
- وبدون النباتات، لن يكون لدينا طعام أو هواء.
- لذا، فإن الفلاحين أيضًا مهمون للغاية، فبدونهم لن يكون لدينا نباتات!







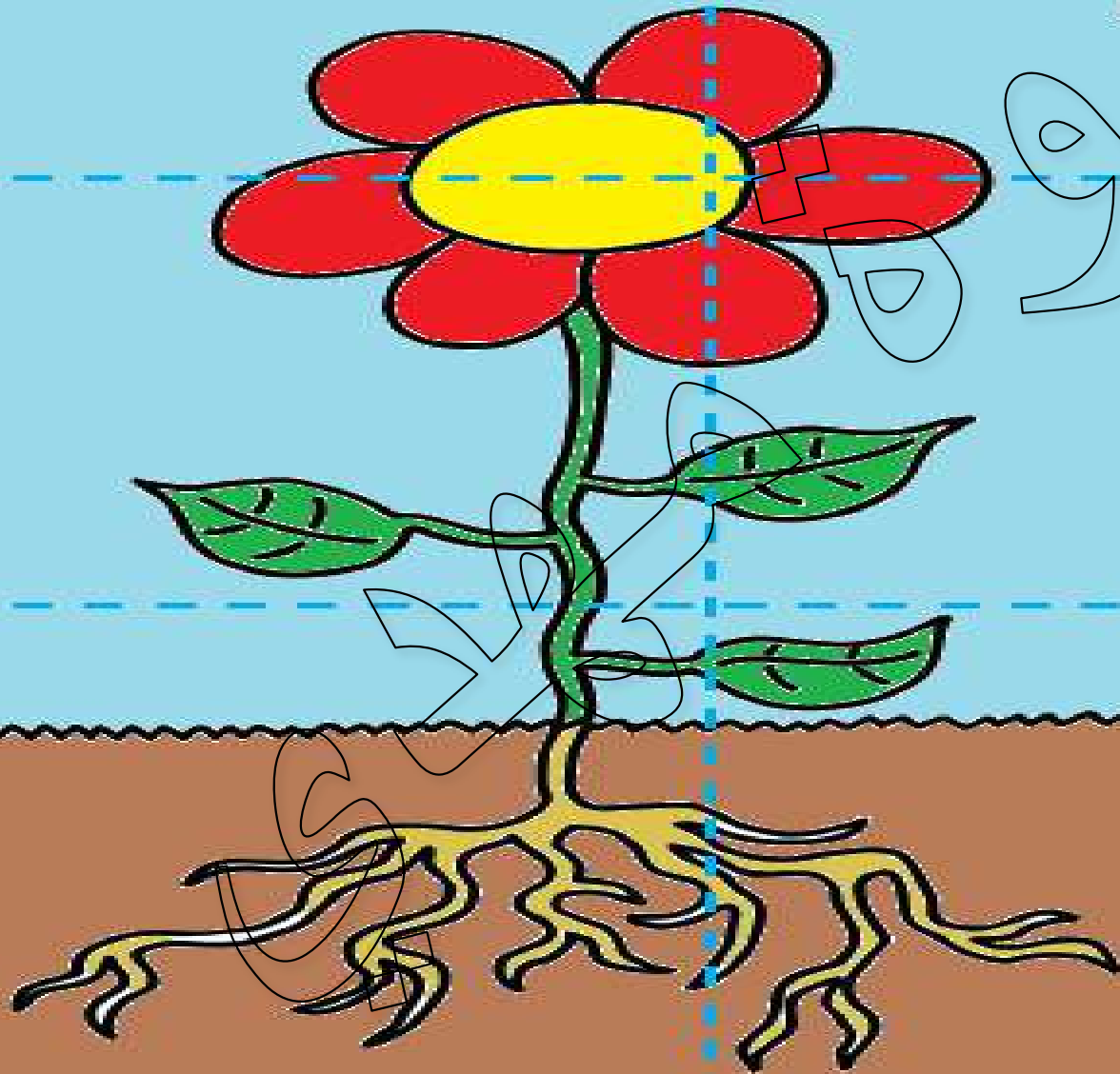







لغز النباتات

لون الصور، قص القطع.








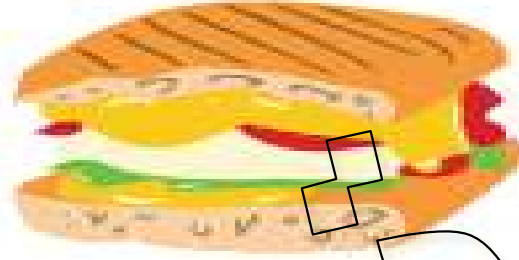



الاستخدامات الخمسة الشائعة للنباتات.




كيف نستخدم النباتات؟

النباتات لها استخدامات للحيوانات..




الطعام



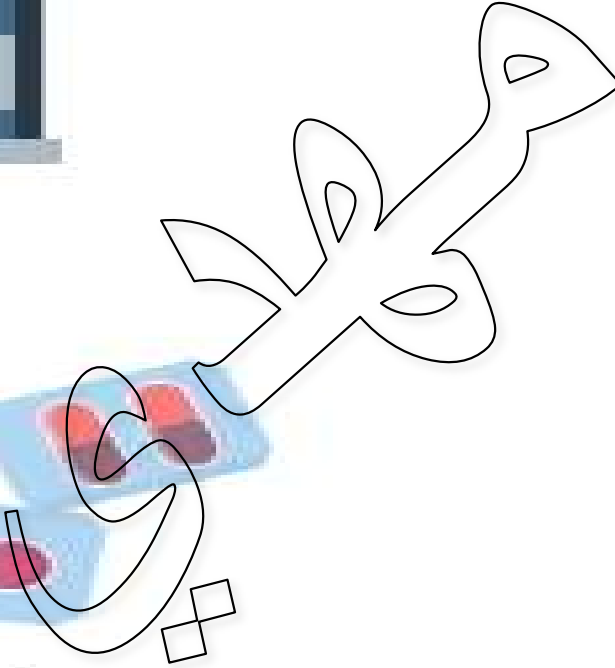
الملابس



الوقود



الأدوية



المسكن



ما نوع النبات الذي يمكن استخدامه في صنع مأوى؟

قطع الأشجار لاستخدام أخشابها في بناء المنازل



كيف يمكن أن تصبح النباتات ملابس؟
إننا لا نقوم بحياكة أوراق النباتات لثرتيها، لذا لا بد أن يكون هناك شيء
يمكننا صنعه من أجزاء النبات.

هل يمكن لأي منكم أن يفكر في نبات نستخدمه لصنع الملابس؟

تتم زراعته في الحقول ثم تحويله إلى خيوط لصنع الملابس.



الاستخدام التالي للنباتات هو صنع الوقود.
يعد الغاز من بين أنواع الوقود التي تعمل بها السيارات والحافلات.
ولكن الإنسان اكتشفوا طريقة للتزود بالوقود من الذرة بدلاً من البترول
المستخرج من باطن الأرض.
فالذرة هو إحدى النباتات التي يمكن أن نستخلص منها الوقود.






الاستخدام الشائع الأخير للنباتات هو الأدوية.

كيف يمكن استخدام النباتات كأدوية؟



الزيتون



ما مظهرها؟

هل يمكنهم شم رائحتها؟

هل يمكنكم أكلها؟



هل يمكنكم لمسها، أم بها أشواك؟

هل تصدر صوتًا عند هبوب الرياح؟



ارسم صورة لنباتك أو شجرتك المفضلة ولونها، اكتب قائمة باستخدامتها.

الزيتون



الطعام




الأدوية


حرف

الاستخدامات:

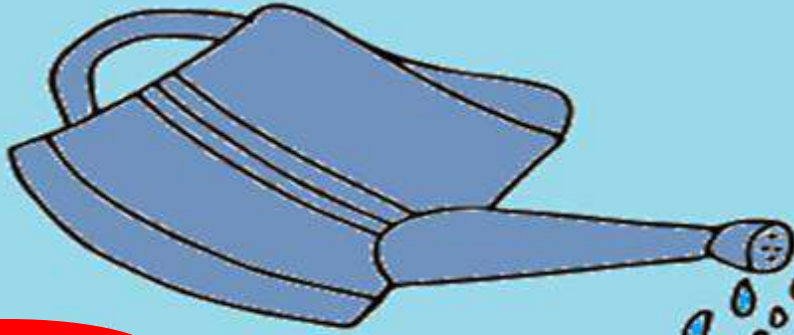

حرف







ضوء الشمس



ماء

هواء

مساحة الكافية

التربة



فالنبتات يحتاج إلى ضوء الشمس.

حتى إن كان النبات في الداخل، فإنه لا يزال بحاجة إلى ضوء الشمس.
ولهذا نضع النباتات بجوار النوافذ.

أنت تأكل الطعام بفمك، ولكن النباتات ليس لديها أفواه.
بل إنها تصنع طعامها باستخدام ضوء الشمس.
حسنًا، ما الشيء الثاني الذي يحتاجه النبات؟
تحتاج النباتات أيضًا إلى التربة.

تحتاج النباتات إلى التربة لتتغذى ولتساعدتها في البقاء ثابتة في الأرض.
وبدون التربة، ستسقط النباتات لونها وتقدر على النمو.

تحتاج النباتات إلى الماء للعيش مثلنا تمامًا.
إننا نشرب الماء بأفواهنا، ولكن النباتات تمتص الماء عن طريق جذورها.
والآن يتبقى لدينا شيان يحتاج إليهما النبات.

عندما نتنفس، نستنشق الهواء الذي نحتاجه.
والنباتات هي الأخرى تحتاج إلى الهواء!
من الصعب أن نظهر الهواء في صورة نظرًا لأننا لا نستطيع رؤية الهواء.
تمثل الخطوط التي في السماء الهواء يتحرك.

لن تنمو النباتات بالطول الكاف لونها تصبح قوية، لأنها ستتنافس على نفس
التربة، وضوء الشمس، والماء.
فالنباتات تحتاج إلى مساحة حتى تتمدد جذورها وأوراقها!

تحصل النباتات على الماء من المطر، ولكن ماذا لو لم ينزل القدر الكاف من
المطر؟

كيف يمكننا أن نساعد في حصول النباتات على قدر كاف من الماء؟


نعم، يمكن أن نروي النباتات!
يمكننا استخدام أي شيء يحفظ السوائل لري النباتات، مثل الكأس، ولكن
توجد أداة خاصة يستخدمها الفلاحون لري النباتات.
هل يعلم أيُّ منكم هذا الأداة؟

إذا كان النبات بالخارج ولم ينزل المطر بالقدر
الكاف، فيمكننا أن نساعد في الحفاظ على
سلامة النبات بريّه برشاش المياه.
إذا كان النبات مزروعًا في وعاء بالداخل، مثل
هذا النبات، فلن يحصل مطلقًا على ماء من
المطر، لذا، فإننا نحتاج دومًا إلى ريّه للحفاظ
على سلامته.

هل ينبغي أن أصب الماء بكامله من هذا
الرشاش نحو النبات؟



ونحن نريد أن نروي النبات بالقدر الكاف فقط حتى تصبح التربة رطبة، ولا نريد أن نحول التربة إلى طين.

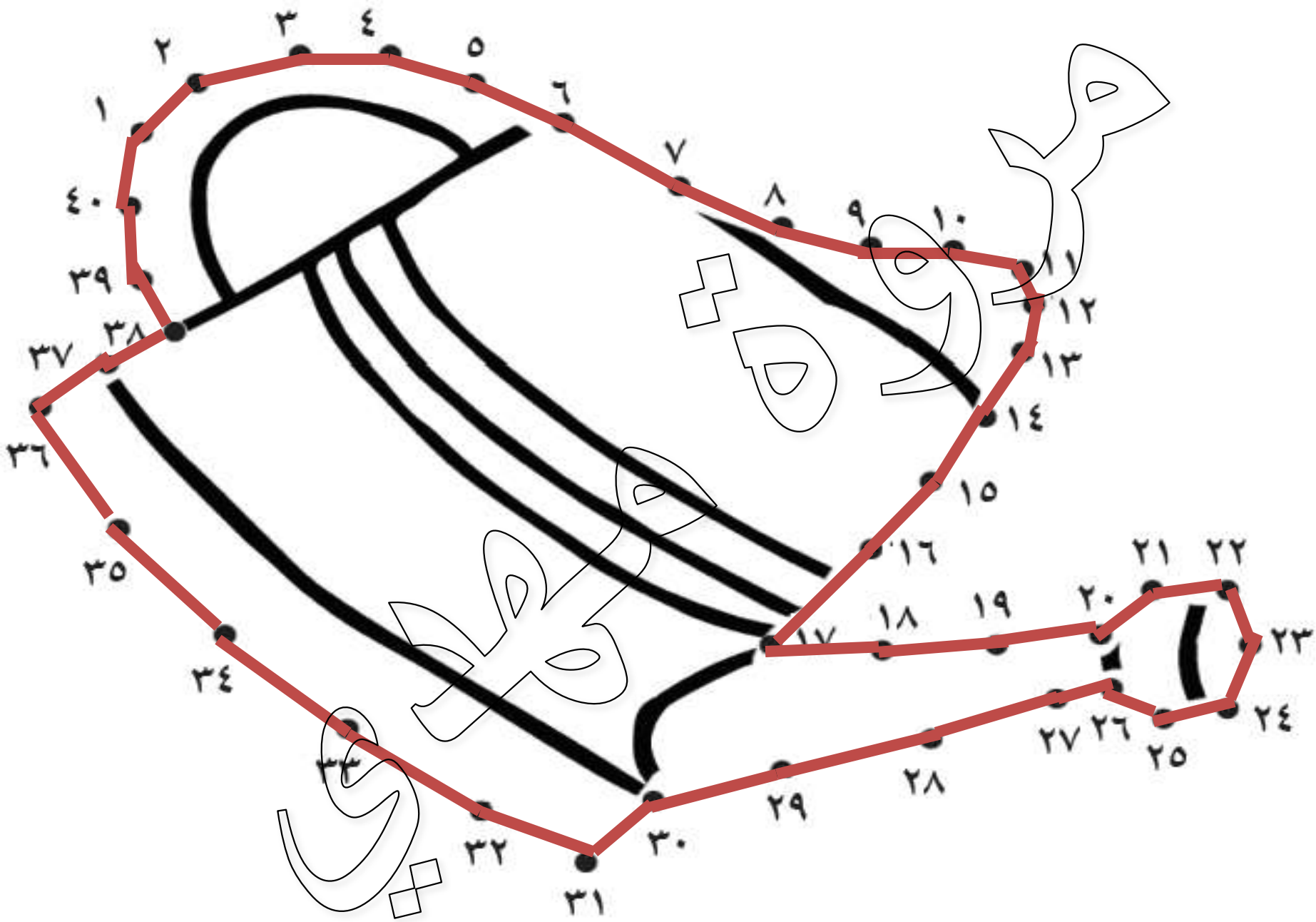


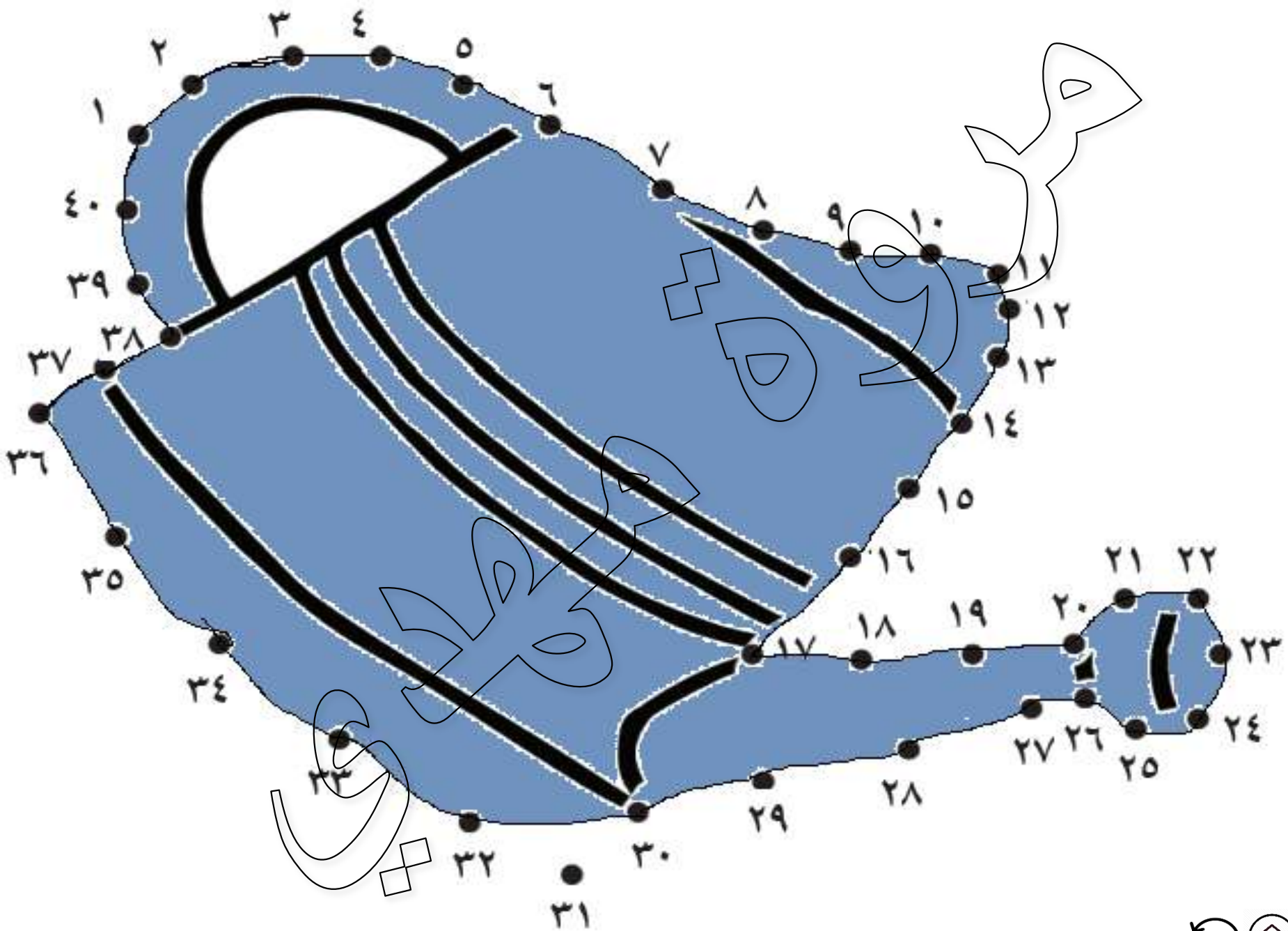


توصيل النقاط

صل النقاط، واكتشف الصورة ثم لونها.







نحن نعلم أن النباتات تحتاج إلى الهواء والمساحة الكافية. وبما أن الهواء متواجد في كل مكان من حولنا، فالنبات يحتاج عادةً إلى مساعدة منا للحصول على الهواء.

وبما أن هذه النبتة مزروعة لوحدها في هذا الوعاء، فهي بالفعل لديها المساحة الكافية التي تحتاج إليها. إذا كنا نزرع النباتات بالخارج، فبرأيكم، كيف نضمن حصول تلك النباتات على المساحة الكافية؟

كثيرًا ما يعيق ظل الأشياء الأخرى، مثل المباني أو النباتات الأخرى، وصول ضوء الشمس للنبات.

وفي أحيان أخرى، ينمو العشب الضار غير المرغوب فيه حول النباتات في حديقتك ويحجب عنها ضوء الشمس ويحرمها من المساحة الكافية.

يمكننا اجتثاث العشب من حديقتنا.
لندعي جميعًا أننا في الحديقة وقد رأينا بعض العشب.
ليجتث الجميع العشب هكذا.




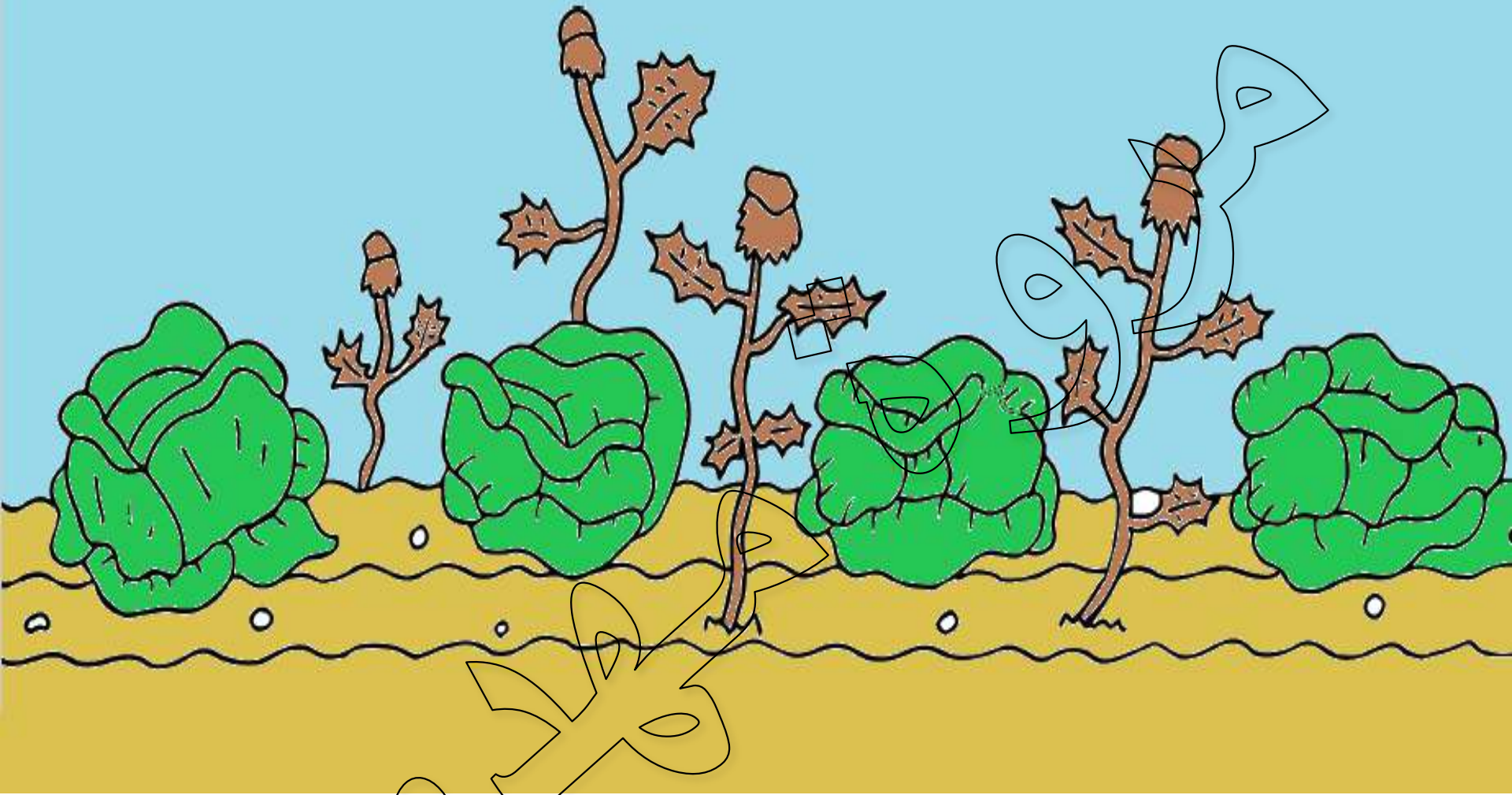
الحشائش



تتنافس الحشائش في هذه الحديقة مع نبات الخس لتقترب أكثر من ضوء الشمس.

لوّن كافة نباتات الخس باللون الأخضر.
لوّن كافة الحشائش باللون البني.





ماذا يمكن أن نعمل لحماية نباتات الحديقة من العشب الضار؟

تعلمنا اليوم أن النباتات تحتاج إلى الماء، والتربة، وضوء الشمس،
والهواء، والمساحة الكافية.
إذا أردنا أن تكون النباتات في حديقتنا سليمة،
فمهمتنا هي ضمان حصول النبات على القدر المناسب من
الماء، والتربة، وضوء الشمس، والمساحة.

ملاقي



خمسة احتياجات للنباتات

الاستخدامات الخمسة

للنباتات

الماء

التربة

الشمس

الهواء

المساحة المناسبة

الطعام
الملابس

الوقود

المأوى

الأدوية

أمنية - أمنية -
رحمة

اثنان

واحد

زياد - زياد - أيمن

فاطمة س - ريم
سما أشرف -

أربعة

محمد - عمر -
بسمة

ثلاثة

عبد الرحمن م -
فاطمة ص -
فاروق

ستة

عبد الرحمن ح -
عبد الله -
سما شاكر

خمسة


منه - مي

ثمانية

حمزة - سارة

سبعة

صحيفة الفصل



املا الفراغات كما يلي، ارسم صورة لأحد النباتات لنشرها في صحيفة الفصل.

املا الفراغات.

واحد

١- أنا رقم

طعام

٢- سأرسم صورة



٣- ارسم صورة لموضوع النبات الذي سيتم نشره في صحيفة الفصل.
استخدم التفاصيل والألوان.



لصاحب الرقم واحد: ارسم صورة نبات على هيئة طعام.

زياد - زياد - أيمن

طماطم



صحيفة الفصل



املا الفراغات كما يلي، ارسم صورة لأحد النباتات لنشرها في صحيفة الفصل.

املا الفراغات.

١- أنا رقم

٢- سأرسم صورة

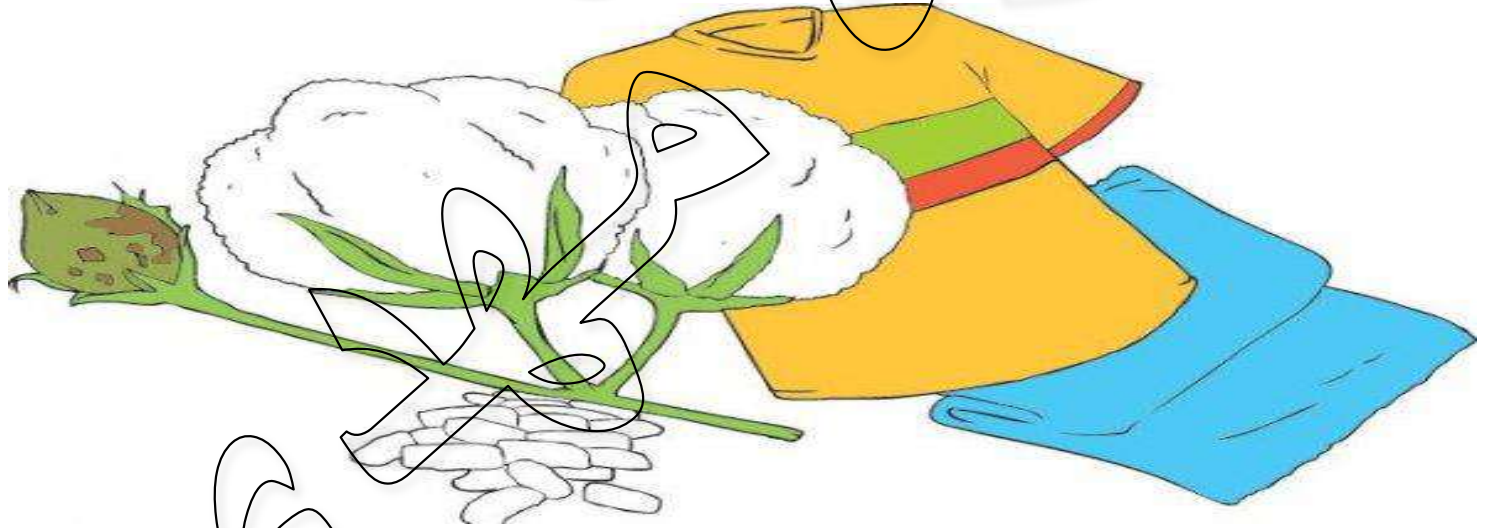
٣- ارسم صورة لموضوع النبات الذي سيتم نشره في صحيفة الفصل.
استخدم التفاصيل والألوان.



لصاحب الرقم اثنين: ارسم صورة نبات على هيئة ملابس.


أمنية - أمنية - رحمة

قطن



الملابس: يمكن استخدام نبات القطن في صناعة نسيج ملابسنا.
تتمثل بعض الملابس المصنوعة من النباتات في تي-شيرت

صحيفة الفصل



املا الفراغات كما يلي، ارسم صورة لأحد النباتات لنشرها في صحيفة الفصل.

املا الفراغات.

ثلاثة
ذرة

١- أنا رقم


٢- سأرسم صورة

٣- ارسم صورة لموضوع النبات الذي سيتم نشره في صحيفة الفصل.
استخدم التفاصيل والألوان.



لصاحب الرقم ثلاثة: ارسم صورة لنبات مستخدم بوصفه مصدرًا للوقود.

محمد صابر - عمر - بسمة




هـ

ذرة

هـ

الوقود: يمكن تحويل النباتات إلى وقود.
ونحن نستخدم الوقود لتشغيل السيارات

صحيفة الفصل



املا الفراغات كما يلي، ارسم صورة لأحد النباتات لنشرها في صحيفة الفصل.

املا الفراغات.

١- أنا رقم

٢- سأرسم صورة

٣- ارسم صورة لموضوع النبات الذي سيتم نشره في صحيفة الفصل.
استخدم التفاصيل والألوان.



لصاحب الرقم أربعة: ارسم صورة لنبات مستخدم بوصفه مأوى.

فاطمة سعد - ريم - سما أشرف

شجر



المأوى: يمكن للنباتات إمدادنا بالمأوى.
وتشتمل بعض أمثلة المأوى على المنزل

صحيفة الفصل



املا الفراغات كما يلي، ارسـم صورة لأحد النباتات لنشرها في صحيفة الفصل.

املا الفراغات.

حمسة

١- أنا رقم

صبار

٢- سأرسم صورة

٣- ارسـم صورة لموضوع النبات الذي سيتم نشره في صحيفة الفصل.


استخدم التفاصيل والألوان.



لصاحب الرقم خمسة: ارسم صورة لنبات مستخدم في الأدوية.

عبد الرحمن حمدي - عبد الله - سما شاكر

صبار



الأدوية: يمكننا تصنيع أدوية من النباتات.
تتمثل بعض الأدوية المصنوعة من النباتات في المسكنات



صحيفة الفصل



املا الفراغات كما يلي، ارسـم صورة لأحد النباتات لنشرها في صحيفة الفصل.

املا الفراغات.

سنة

١- أنا رقم

شمس

٢- سأرسم صورة


٣- ارسـم صورة لموضوع النبات الذي سيتم نشره في صحيفة الفصل.

استخدم التفاصيل والألوان.



لصاحب الرقم ستة: ارسم صورة أشعة الشمس التي تجعل النبات سليماً معافاً.

عبد الرحمن محمد - فاطمة صلاح - فاروق



أشعة الشمس: تحتاج النباتات إلى أشعة الشمس كي تظل سليمة معافاً.
وتحتاج النباتات إلى أشعة الشمس لأن أشعة الشمس مصدر أساسي للنبات



صحيفة الفصل



املا الفراغات كما يلي، ارسـم صورة لأحد النباتات لنشرها في صحيفة الفصل.

املا الفراغات.

سبعة

١- أنا رقم

تربة

٢- سأرسم صورة

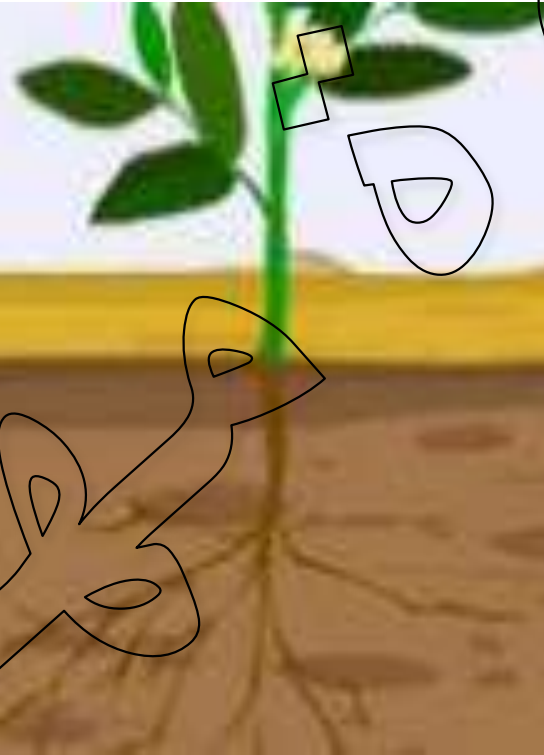
٣- ارسـم صورة لموضوع النبات الذي سيتم نشره في صحيفة الفصل.

استخدم التفاصيل والألوان.



لصاحب الرقم سبعة: ارسم صورة للتربة التي تجعل النبات سليماً معافاً.


حمزة - سارة



التربة: تحتاج النباتات إلى التربة كي تظل سليمة معافاً.
وتحتاج النباتات إلى التربة لأن التربة مصدر الغذاء للنبات



صحيفة الفصل



املا الفراغات كما يلي، ارسـم صورة لأحد النباتات لنشرها في صحيفة الفصل.

املا الفراغات.

تماتيـة

١- أنا رقم

ماء

٢- سأرسـم صورة


٣- ارسـم صورة لموضوع النبات الذي سيتم نشره في صحيفة الفصل.

استخدم التفاصيل والألوان.



لصاحب الرقم ثمانية: ارسم صورة للماء الذي يجعل النبات سليماً معافاً.

منه - مي



الماء: تحتاج النباتات إلى الماء كي تظل سليمة معافاة.
وتحتاج النباتات إلى الماء لأنه مصدر لحياة النبات



الصف الأول الابتدائي اكتشف

الفصل الدراسي الأول



مروة عبد الشافي مهدي

٢٠٢٠/٢٠١٩

العالم من حولي

الفصل الرابع: الاحتفالات

في العالم من حولنا




الدرس





الدرس الأول

نحتفل أثناء السنة بالعديد من المناسبات والأعياد.



الولائم ضمن أساليب الاحتفال

نحتفل في مصر ببعض الأعياد معًا.

كما يحتفل الناس بمناسبات مختلفة وأعياد مختلفة.

وتتمثل إحدى طرق التعبير عن احترام الآخرين في التعرف على احتفالاتهم

الأعياد المصرية

اقرأ القصة لتكتشف ما يحدث أثناء الأعياد المختلفة. ارسم صورة لما يحدث أثناء كل عيد، اختر عنواناً لكل صورة.

ليلة رأس السنة: في ليلة رأس السنة تحتفل الأسر معاً، تنطلق الألعاب النارية في السماء ويرتدي الجميع ملابس جديدة زاهية الألوان. كما يحصل الأولاد والبنات على حلوى وألعاب.



عيد الفطر: فى عيد الفطر تحتفل الأسر ويصلون معاً، نزور الأقبارب وبتناول الكعك، يرتدى الأطفال الملابس الجديدة، كما يحصلون على العيدية.



عيد الأضحى في عيد الأضحى تحتفل الأسر، يصلون معاً ثم يشهدون ذبح الأضحية ويأكلون الفتة، ويتزاورون ويلبس الأطفال الملابس الجديدة ويحصلون على العيدية من الكبار.



عيد الميلاد: في عيد الميلاد (الكريسماس) الذي نحتفل به في يوم ٧ يناير تجتمع الأسر للاحتفال، ويأكلون الكثير من اللحوم، عيد ميلاد مجيد.



الدرس الثاني



التقاليد

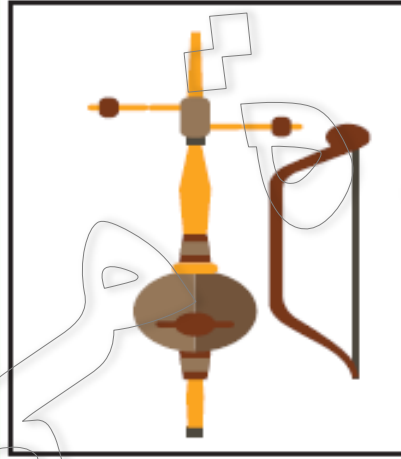
عبارة عن فكرة مستمرة أو فعل مستمر لمدة طويلة للغاية.

البلاد لديها تقاليد.

نحن نعيش في مصر، ومصر بلد لديها تقاليد عديدة

التقاليد المصرية

اقرأ المعلومات للتعرف على بعض التقاليد المصرية.




الأغاني: من الأغنيات التقليدية، أغنية شهيرة تحكي «سيرة بني هلال»، حيث يعزف الممغن على آلة الربابة.



حزري

الأطعمة: الكشري وجبة مصرية تقليدية، تتكون هذه الوجبة من الأرز، والعدس وصلصة الطماطم. ومن الأطعمة التقليدية الأخرى الفول المدمس.



حزوة

الملابس: تعتمد الملابس التقليدية على المكان الذي يعيش فيه من يرتدونها؛ حيث اعتادت النساء في الإسكندرية ومناطق أخرى قديماً على ارتداء «الملاية اللف». وكان الرجال معتادين على ارتداء الجلباب والقفطان.

ما تعلمناه؟

أكمل الجمل التالية عن التقاليد المصرية باستخدام حواسك الخمس.

الأغاني

صوت الربابة

يمكنني أن
أسمع



أشم رائحة الطعام

وأأذوق الطعام

يمكنني أن أشم وأأذوق



الملايس

يمكنني أن أرى وألمس



ملايس

الدرس الثالث



الآثار



كل ما تركه لنا أجدادنا القدياء ويعبر عن حياتهم..

هذه المواقع الأثرية التاريخية الأربعة مهمة للغاية،
ويأتي الناس من جميع أنحاء العالم لزيارتها.



الآثار المصرية

اقرأ المعلومات التالية عن بعض الآثار المصرية.

يقع معبد حتشبسوت على الجهة الغربية لنهر النيل.
تم بناء المعبد داخل منحدر صخري. وقد تم بناؤه
تكريماً للملكة حتشبسوت.



يقع معبد الأقصر على الجهة الشرقية لنهر النيل.
وقد تم بناء المعبد خصيصاً لدفن ثلاثة ملوك
مصريين.



يوجد تمثال أبو الهول في محافظة الجيزة، على الضفة الغربية لنهر النيل. ويشتهر بكونه أكبر تمثال في العالم. ويتميز التمثال برأس إنسان وجسد أسد.



تقع أهرامات الجيزة في محافظة الجيزة. وتعد أشهر الآثار المصرية. ويبلغ عددها ثلاثة أهرامات، ويعد هرم خوفو الأكبر هو أكبر وأطول هرم في مصر.



الاتجاهات الرئيسية الأربعة



هي الشمال والجنوب والشرق والغرب.

البوصلة



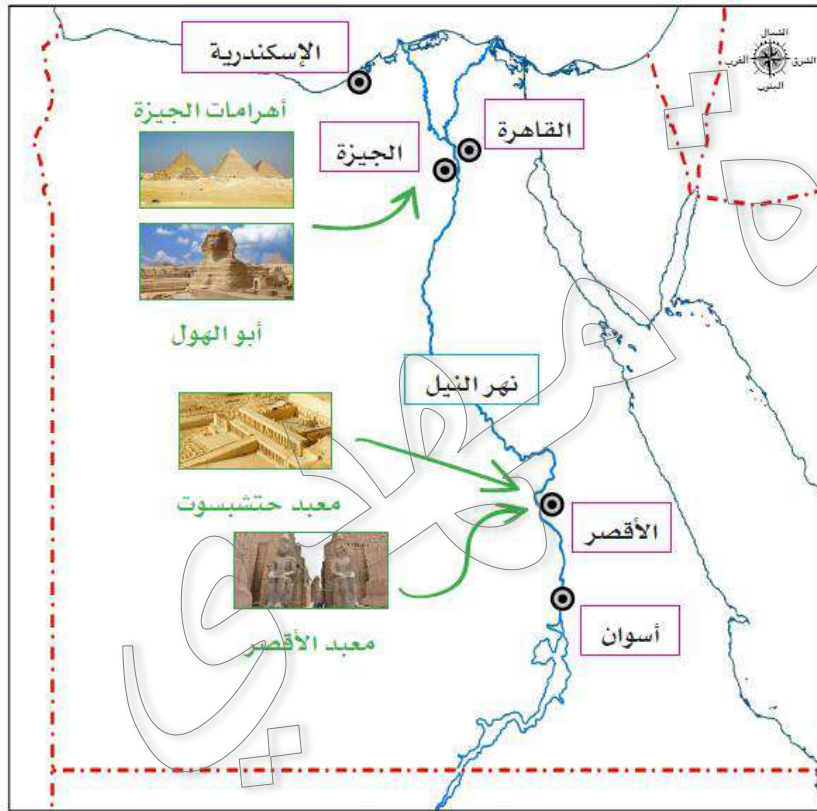
حرف و

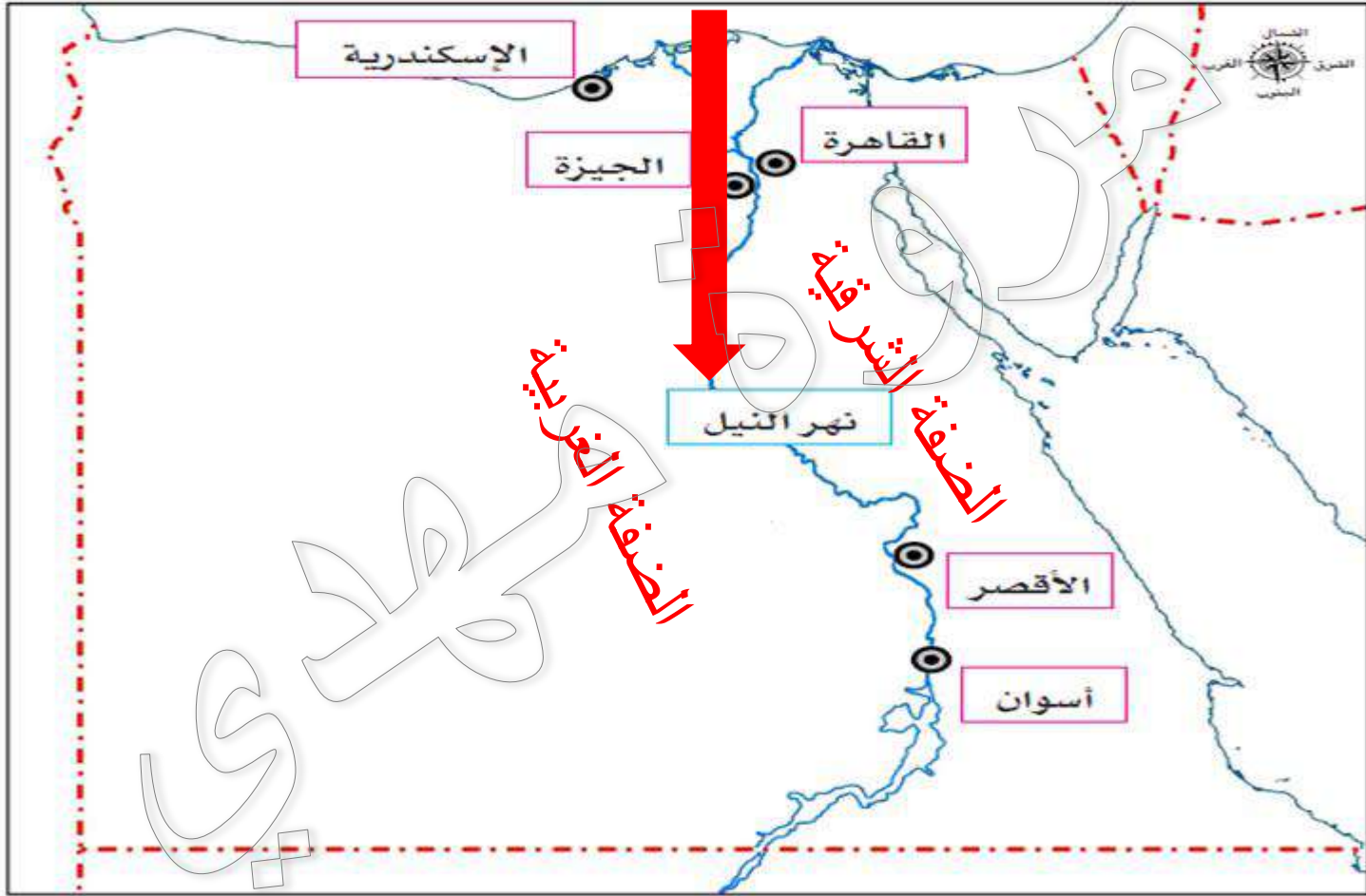
حرف و

حرف و

السفر لمشاهدة الآثار المصرية

لاحظ الخريطة الموجودة بالأسفل. ارسم علامة «X» كبيرة عند المكان الذي يشير إلى موقعك.





الإسكندرية

الجيزة

القاهرة

نهر النيل

الأقصر

أسوان



المنطقة الغربية

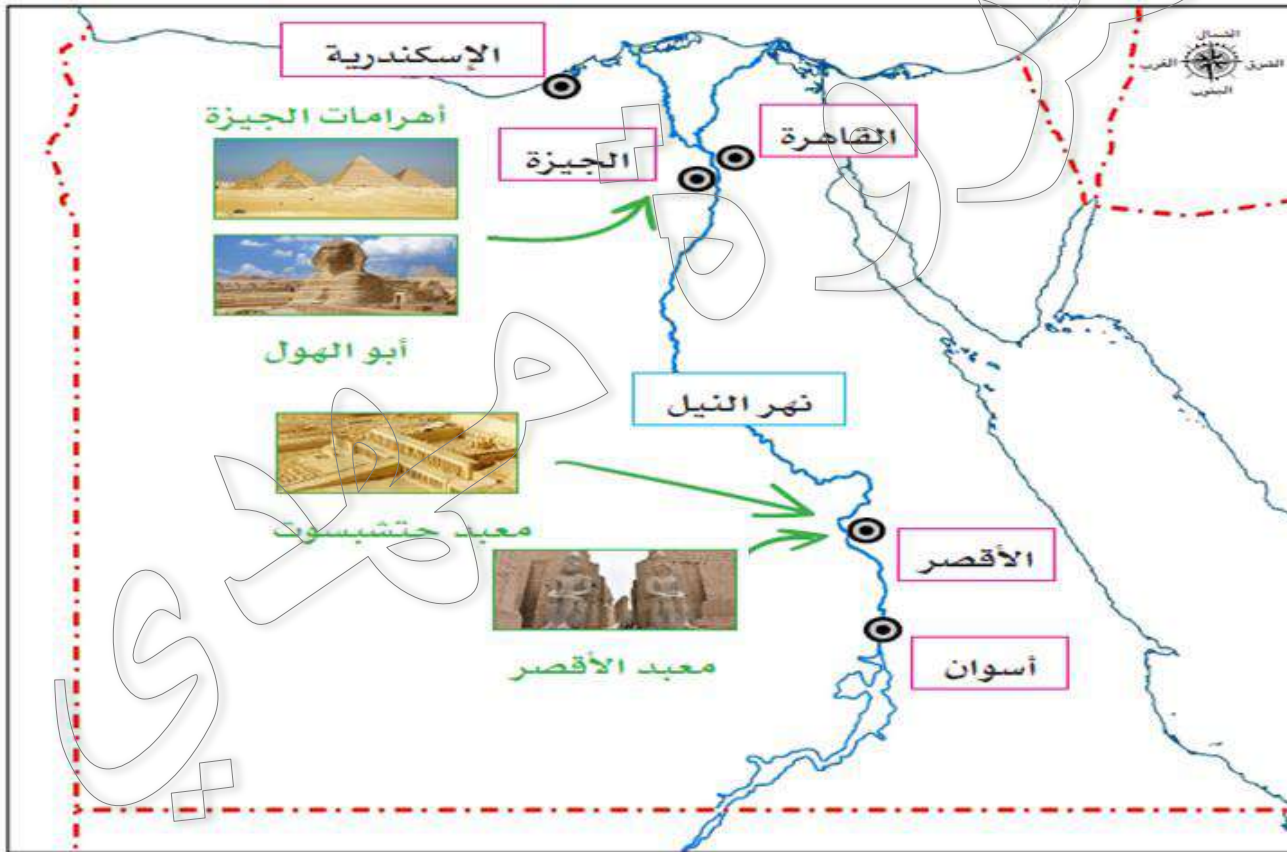
المنطقة الشرقية

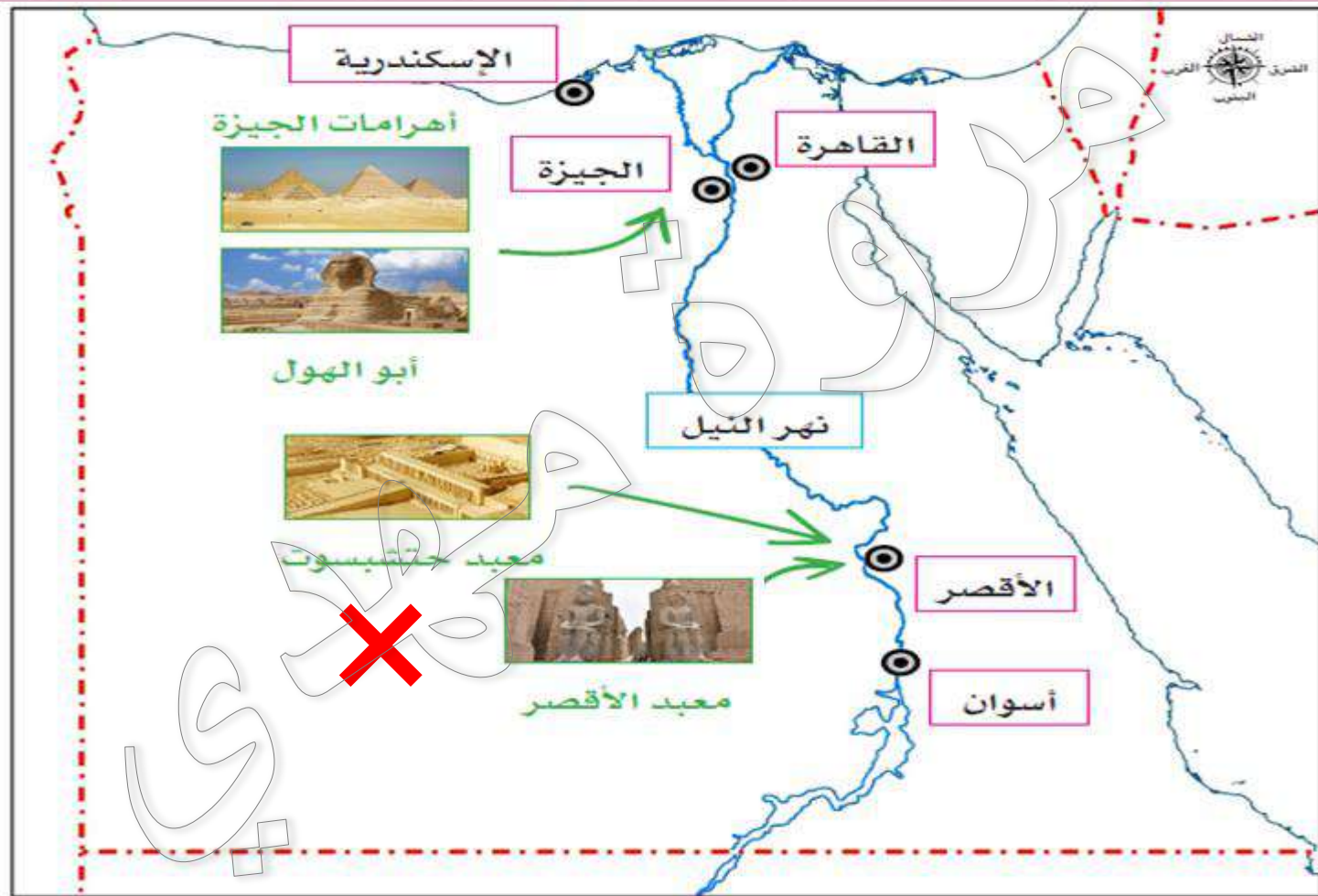
مصري

الآثار تقع في شرق النهر وبعضها يقع في الغرب

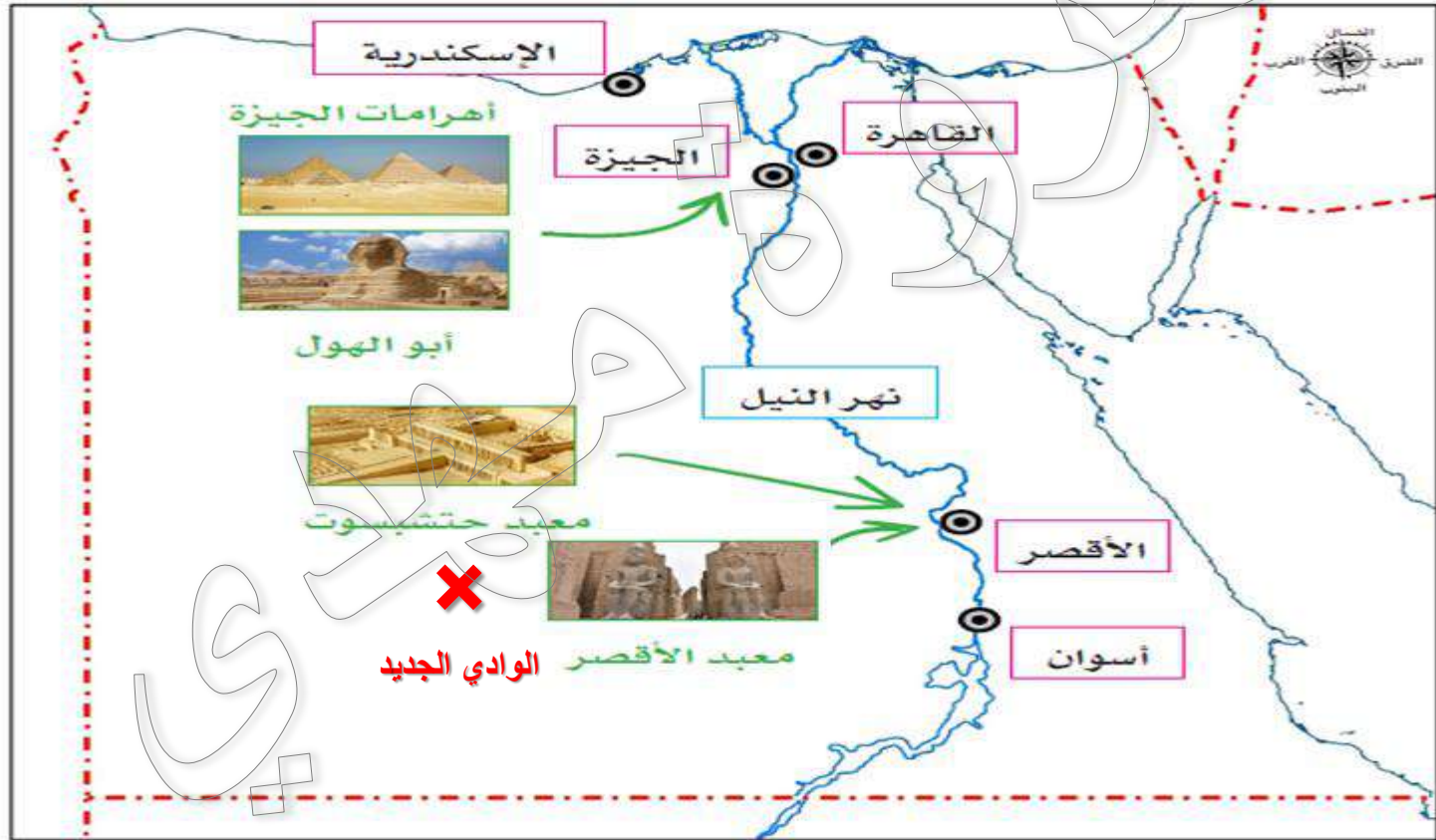


الأهرامات تقع في محافظة الجيزة جنوب القاهرة.





نحن هنا في الضفة الغربية لنهر النيل وفي جنوب القاهرة.



السفر لمشاهدة الآثار المصرية

أكمل الجمل التالية مستعيناً بالخريطة، وحدد اتجاه ونوع وسيلة المواصلات.

للوصول إلى هناك، سأسافر بواسطة

طائرة أو حافلة

يقع معبد حتشيبسوت باتجاه

الشرق

بالنسبة لي.

للوصول إلى هناك، سأسافر بواسطة

طائرة أو حافلة

يقع معبد الأقصر باتجاه

الشرق

بالنسبة لي.

للوصول إلى هناك، سأسافر بواسطة

طائرة أو حافلة

يقع أبو الهول باتجاه

الشمال

بالنسبة لي.

للوصول إلى هناك، سأسافر بواسطة

طائرة أو حافلة

تقع أهرامات الجيزة باتجاه

الشمال

بالنسبة لي.

الدرس الرابع



ما بعض السلوكيات التي مثلناها عندما تحدثنا عن الاحتفالات والأعياد؟

يعني الاحتفال في كثير من الأحيان وجود الكثير من الأشخاص والتحدث بصوت عالٍ والضحك والغناء وتناول الطعام.

ويعني في بعض الأحيان التركيز الهادئ.

زيارة الأماكن الأثرية هي نوع مختلف من الاحتفال.

فهي تكريم لماضيها، لذا يبدو تصرفنا فيها مختلفًا عما يبدو في الحفلات أو الأعياد.

ولإبداء التكريم، ينبغي أن يتسم سلوكنا بالهدوء والاحترام.

سيبدو أكثر مثل السلوكيات التي تبدوها في المكتبة.

احترام الآثار المصرية

اقرأ قائمة السلوكيات الملائمة عند زيارة الآثار أو المواقع التاريخية.

قف في الصف
في انتظار دورك




اصمت أو تحدث
بصوت منخفض



حافظ على نظافة المكان



لا تلمس شيئاً إلا إذا
تمت دعوتك لذلك





عند زيارتنا لأي مكان أثري، مثلما يحدث عند زيارتنا للمكتبة، يجب الهدوء ونحافظ على نظافة أن ننتظر دورنا في الصف وأن نلتزم المكان وألا نلمس شيئاً لا يفترض أن نلمسه.

قائمة كتبى



اكتب عناوين خمسة كتب، ارسـم دائرة حول الكتاب الذي اخترته لقراءته. اكتب
أو ارسـم حقيقة واحدة تعلمتها أثناء القراءة.

أسرار أبي الهول - الهرم


سر ملكة الملوك

بناء الأهرام

المومياءات

الحقيقة (التي تعلمتها)


وجه أحمر ولحية زرقاء



الأثر المفضل لي



ارسم الأثر المفضل لك مع تحديد اسمه. أكمل الجملة الموجودة أسفل صورتك.



هذا هو الأثر الفضل لي لأن


أضخم مبني معماري

الدرس الخامس



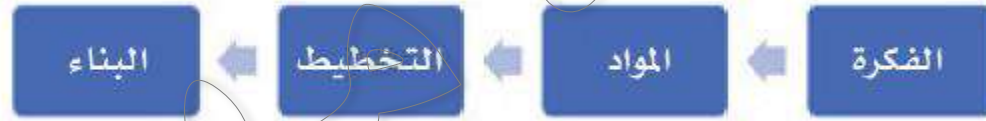
العملية المقدّمة

هي تعديل لعمليات تصميم أكثر تعقيدًا



عملية التصميم

هي ما يستخدمها المهندسون الحقيقيون عند تصميم أو بناء أي منتج جديد.



نموذج أثر تاريخي



أكمل عملية التصميم خطوة بخطوة لتخطيط وبناء نموذجك الأثري.



١- الفكرة: سنقوم أنا وشريكي ببناء نموذج

برج

٢- المواد المستخدمة: اكتب قائمة بالمواد التي يمكنك استخدامها لبناء النموذج الخاص بكما:

كرتونه صغيره

شمع

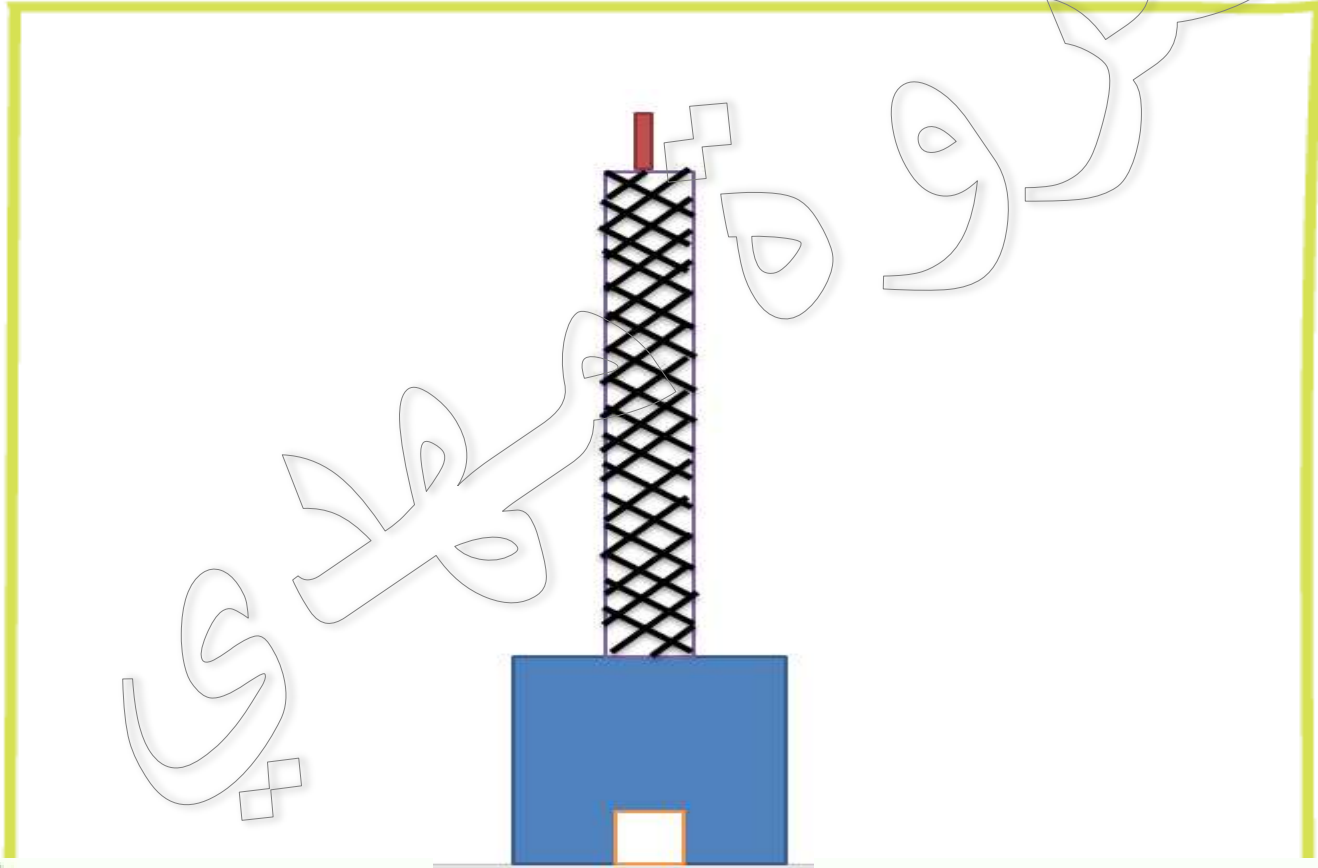
فوم

حرفي

الدرس السادس



٢- التخطيط: ارسم الأثر الذي اخترته باستخدام الأشكال.
اكتب على كل جزء المواد التي استخدمتها في عمله.



الدرس السابع



جولة في معرض الآثار



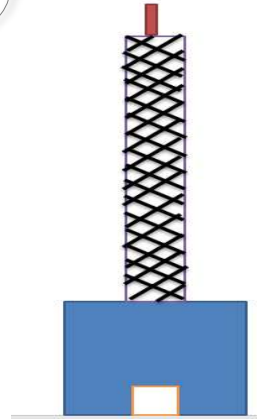
تجول في الفصل وشاهد نموذج الأثر التاريخي الخاص بكل مجموعة. بعد رؤية كافة النماذج، اختر ثلاثة نماذج ثم أكمل ما يلي:

نموذج ١

برج

هذا نموذج يجسد

فيما يلي صورة النموذج:





نموذج ٢

أهرامات

هذا نموذج يجسد

أعجبنى هذا النموذج بسبب

لأنه أشهر المعالم الأثرية في مصر



نموذج ٣

مسلة فرعونية

هذا نموذج يجسد

هو يشبه نموذجي لأن

لأنه من المعالم الأثرية
الفرعونية في مصر

